



Question Paper Preview

Notations :

- Options shown in green color and with  icon are correct.
- Options shown in red color and with  icon are incorrect.

Question Paper Name:	ASSISTANT TEACHER PRIMARY 10th Nov 2018 Shift 1
Subject Name:	ASSISTANT TEACHER PRIMARY
Creation Date:	2018-11-10 12:16:10
Duration:	120
Total Marks:	200
Display Marks:	Yes
Share Answer Key With Delivery Engine:	Yes
Actual Answer Key:	Yes
Calculator:	None
Magnifying Glass Required?:	No
Ruler Required?:	No
Eraser Required?:	No
Scratch Pad Required?:	No
Rough Sketch/Notepad Required?:	No
Protractor Required?:	No
Show Watermark on Console?:	No
Highlighter:	No
Auto Save on Console?:	No

Mental Ability

Group Number :	1
Group Id :	16265311
Group Maximum Duration :	0
Group Minimum Duration :	0
Revisit allowed for view? :	No
Revisit allowed for edit? :	No
Break time:	0
Group Marks:	20
Revisit allowed for group Instructions? :	Yes
Maximum Instruction Time:	0
Minimum Instruction Time:	0

Mental Ability

Section Id :	16265311
Section Number :	1
Section type :	Online
Mandatory or Optional:	Mandatory
Number of Questions:	20
Number of Questions to be attempted:	20
Section Marks:	20

Display Number Panel:

Yes

Group All Questions:

No

Sub-Section Number:

1

Sub-Section Id:

16265315

Question Shuffling Allowed :

Yes

Question Number : 1 Question Id : 162653204 Question Type : MCQ Option Shuffling : Yes Display Question Number : Yes Single Line Question Option : No Option Orientation : Vertical

Correct Marks : 1 Wrong Marks : 0.25

Find the number which, when added to itself 19 times, gives 400.

Options :

1. ✖ 18

2. ✔ 20

3. ✖ 21

4. ✖ 25

Question Number : 1 Question Id : 162653204 Question Type : MCQ Option Shuffling : Yes Display Question Number : Yes Single Line Question Option : No Option Orientation : Vertical

Correct Marks : 1 Wrong Marks : 0.25

वह संख्या ज्ञात करें जिसे 19 बार उसी से जोड़ने पर उसका परिणाम 400 आता है।

Options :

1. ✖ 18

2. ✔ 20

3. ✖ 21

4. ✖ 25

Question Number : 2 Question Id : 162653205 Question Type : MCQ Option Shuffling : Yes Display Question Number : Yes Single Line Question Option : No Option Orientation : Vertical

Correct Marks : 1 Wrong Marks : 0.25

Select the number pair from options that has the same relationship between them as between the number pair below.

3 : 81 :: _____ : _____

Options :

1. ✖ 4 : 64

2. ✖ 5 : 125

3. ✖ 1 : 40

4. ✔ 5 : 625

Question Number : 2 Question Id : 162653205 Question Type : MCQ Option Shuffling : Yes Display Question Number : Yes Single Line Question Option : No Option Orientation : Vertical

Correct Marks : 1 Wrong Marks : 0.25

विकल्पों में से उस संख्या युग्म को चुनें जिसमें वही सम्बन्ध है जो नीचे दिए गए संख्या युग्म में है।

3 : 81 :: _____ : _____

Options :

1. ✖ 4 : 64

2. ✖ 5 : 125

3. ✖ 1 : 40

4. ✔ 5 : 625

Question Number : 3 Question Id : 162653206 Question Type : MCQ Option Shuffling : Yes Display Question Number : Yes Single Line Question Option : No Option Orientation : Vertical

Correct Marks : 1 Wrong Marks : 0.25

You are given two statements and two conclusions. Choose the correct comment about conclusions from the options below:

Statements:

All forests are trees.

Some trees are lions.

Conclusions:

I. Some lions are forests.

II. No lion is forest.

Options :

1. ✖ Only conclusion I follows

2. ✖ Only conclusions II follows

3. ✔ Either conclusion I or II follows

4. ✖ Neither conclusion I nor II follows

Question Number : 3 Question Id : 162653206 Question Type : MCQ Option Shuffling : Yes Display Question Number : Yes Single Line Question Option : No Option Orientation : Vertical

Correct Marks : 1 Wrong Marks : 0.25

आपको दो कथन और दो निष्कर्ष दिए गए हैं। नीचे दिए गए विकल्पों में से निष्कर्षों के बारे में सही टिप्पणी चुनें।

कथन:

सभी जंगल पेड़ हैं।

कुछ पेड़ शेर हैं।

निष्कर्ष:

I. कुछ शेर जंगल हैं।

II. कोई भी शेर जंगल नहीं है।

Options :

1. ✖ केवल निष्कर्ष I अनुसरण करता है।
2. ✖ केवल निष्कर्ष II अनुसरण करता है।
3. ✔ या तो निष्कर्ष I या निष्कर्ष II अनुसरण करता है।
4. ✖ न तो निष्कर्ष I और न ही निष्कर्ष II अनुसरण करता है।

Question Number : 4 Question Id : 162653207 Question Type : MCQ Option Shuffling : Yes Display Question Number : Yes Single Line Question Option : No Option Orientation : Vertical

Correct Marks : 1 Wrong Marks : 0.25

Arrange the given words in alphabetical order and choose the one that would come last.

Options :

1. ✖ LEGAL
2. ✖ LEGEND
3. ✔ LEGIBLE
4. ✖ LEGACY

Question Number : 4 Question Id : 162653207 Question Type : MCQ Option Shuffling : Yes Display Question Number : Yes Single Line Question Option : No Option Orientation : Vertical

Correct Marks : 1 Wrong Marks : 0.25

दिए गए शब्दों को वर्णानुक्रमिक रूप में व्यवस्थित करें और अंत में आने वाला शब्द चुनें।

Options :

1. ✖ LEGAL

2. ✖ LEGEND

3. ✔ LEGIBLE

4. ✖ LEGACY

Question Number : 5 Question Id : 162653208 Question Type : MCQ Option Shuffling : Yes Display Question Number : Yes Single Line Question Option : No Option Orientation : Vertical

Correct Marks : 1 Wrong Marks : 0.25

Divya is taller than Madhu but NOT as tall as Roshini. Surya is shorter than Divya but taller than Nithya. Who among them is the tallest?

Options :

1. ✔ Roshini

2. ✖ Divya

3. ✖ Surya

4. ✖ Madhu

Question Number : 5 Question Id : 162653208 Question Type : MCQ Option Shuffling : Yes Display Question Number : Yes Single Line Question Option : No Option Orientation : Vertical

Correct Marks : 1 Wrong Marks : 0.25

दिव्या मधु से लम्बी है लेकिन उतनी लम्बी नहीं जितनी रोशिनी है। सूर्या दिव्या से नाटी है लेकिन नित्या से लम्बी है। उनमें सबसे लम्बी कौन है?

Options :

1. ✔ रोशिनी

2. ✖ दिव्या

3. ✖ सूर्या

4. ✖ मधु

Question Number : 6 Question Id : 162653209 Question Type : MCQ Option Shuffling : Yes Display Question Number : Yes Single Line Question Option : No Option Orientation : Vertical

Correct Marks : 1 Wrong Marks : 0.25

Choose the correct mirror image of the following word:

TOMATO

Options :

1. ✓ OTAMOT

2. ✗ OTAWOT

3. ✗ TOWATO

4. ✗ TOMATO

Question Number : 6 Question Id : 162653209 Question Type : MCQ Option Shuffling : Yes Display Question Number : Yes Single Line Question Option : No Option Orientation : Vertical

Correct Marks : 1 Wrong Marks : 0.25

निम्नलिखित शब्द का सही दर्पण प्रतिबिम्ब चुनें।

TOMATO

Options :

1. ✓ OTAMOT

2. ✗ OTAWOT

3. ✗ TOWATO

4. ✗ TOMATO

Question Number : 7 Question Id : 162653210 Question Type : MCQ Option Shuffling : Yes Display Question Number : Yes Single Line Question Option : No Option Orientation : Vertical

Correct Marks : 1 Wrong Marks : 0.25

If $D = 4$, $FAN = 21$, then $CLOCK = ?$

Options :

1. ✗ 38

2. ✗ 42

3. ✗ 54

4. ✓ 44

Question Number : 7 Question Id : 162653210 Question Type : MCQ Option Shuffling : Yes Display Question Number : Yes Single Line Question Option : No Option Orientation : Vertical

Correct Marks : 1 Wrong Marks : 0.25

अगर $D = 4$, $FAN = 21$, तो $CLOCK = ?$

Options :

1. ✖ 38

2. ✖ 42

3. ✖ 54

4. ✔ 44

Question Number : 8 Question Id : 162653211 Question Type : MCQ Option Shuffling : Yes Display Question Number : Yes Single Line Question Option : No Option Orientation : Vertical

Correct Marks : 1 Wrong Marks : 0.25

Find the missing number in the below table.

4	3	2	10	1
60	24	6	?	0

Options :

1. ✖ 900

2. ✔ 990

3. ✖ 100

4. ✖ 1000

Question Number : 8 Question Id : 162653211 Question Type : MCQ Option Shuffling : Yes Display Question Number : Yes Single Line Question Option : No Option Orientation : Vertical

Correct Marks : 1 Wrong Marks : 0.25

नीचे दी गई तालिका में अनुपस्थित संख्या ज्ञात करें।

4	3	2	10	1
60	24	6	?	0

Options :

1. ✖ 900

2. ✔ 990

3. ✖ 100

4. ✖ 1000

Question Number : 9 Question Id : 162653212 Question Type : MCQ Option Shuffling : Yes Display Question Number : Yes Single Line Question Option : No Option Orientation : Vertical

Correct Marks : 1 Wrong Marks : 0.25

Your friend unfortunately spills cool drink on you in a party. What would be your best course of action?

Options :

1. ✖ You would snub him
2. ✖ You would laugh it off
3. ✖ You would spoil his dress too
4. ✔ You would say 'it is ok' but sulk nevertheless

Question Number : 9 Question Id : 162653212 Question Type : MCQ Option Shuffling : Yes Display Question Number : Yes Single Line Question Option : No Option Orientation : Vertical

Correct Marks : 1 Wrong Marks : 0.25

एक पार्टी में दुर्भाग्यवश आपके दोस्त से आपके ऊपर शीतल पेय गिर जाता है। आपकी सर्वोत्तम कार्रवाई क्या होगी?

Options :

1. ✖ आप उसे डांटेंगे
2. ✖ आप उस पर हँसेंगे
3. ✖ आप उसकी भी पोशाक खराब कर देंगे
4. ✔ आप कहेंगे कि ठीक है लेकिन फिर भी नाराज होंगे

Question Number : 10 Question Id : 162653213 Question Type : MCQ Option Shuffling : Yes Display Question Number : Yes Single Line Question Option : No Option Orientation : Vertical

Correct Marks : 1 Wrong Marks : 0.25

Read the following information carefully and answer the question given below:

X * Y means X and Y are of the same age;

X @ Y means Y is younger than X.

Based on this information:

Keerthi * Ramya @ Mala means _____.

Options :

1. ✔ Mala is the youngest
2. ✖ Mala is the eldest

3. ✖ Ramya is younger than Mala

4. ✖ Keerthi is the youngest

Question Number : 10 Question Id : 162653213 Question Type : MCQ Option Shuffling : Yes Display Question Number : Yes
Single Line Question Option : No Option Orientation : Vertical

Correct Marks : 1 Wrong Marks : 0.25

निम्नलिखित जानकारी को ध्यानपूर्वक पढ़ें और नीचे दिए गए प्रश्न का उत्तर दें।

$X * Y$ का अर्थ है X और Y एक ही आयु के हैं;

$X @ Y$ का अर्थ है Y , X से छोटा है।

इस जानकारी के आधार पर:

कीर्ति $*$ रम्या $@$ माला का अर्थ है:

Options :

1. ✔ माला सबसे छोटी है।

2. ✖ माला सबसे बड़ी है।

3. ✖ रम्या माला से छोटी है।

4. ✖ कीर्ति सबसे छोटी है।

Question Number : 11 Question Id : 162653214 Question Type : MCQ Option Shuffling : Yes Display Question Number : Yes
Single Line Question Option : No Option Orientation : Vertical

Correct Marks : 1 Wrong Marks : 0.25

If $W + X = Y + Z$ and $W + Z > X + Y$, then which one of the following is definitely WRONG?

Options :

1. ✖ $W > X$

2. ✖ $W > Y$

3. ✖ $Y > Z$

4. ✔ $X > Z$

Question Number : 11 Question Id : 162653214 Question Type : MCQ Option Shuffling : Yes Display Question Number : Yes
Single Line Question Option : No Option Orientation : Vertical

Correct Marks : 1 Wrong Marks : 0.25

अगर $W + X = Y + Z$ और $W + Z > X + Y$, तो निम्नलिखित में से कयानिश्चित रूप से गलत है?

Options :

1. ✖ $W > X$
2. ✖ $W > Y$
3. ✖ $Y > Z$
4. ✔ $X > Z$

Question Number : 12 Question Id : 162653215 Question Type : MCQ Option Shuffling : Yes Display Question Number : Yes
Single Line Question Option : No Option Orientation : Vertical

Correct Marks : 1 Wrong Marks : 0.25

You are given a statement and two conclusions. Choose the correct comment about the conclusions from the options below.

Statement:

A large number of people die every year due to drinking polluted water during the summer.

Conclusions:

- I. The government should make adequate arrangements to provide safe drinking water to all its citizens.
- II. The people should be educated about the dangers of drinking polluted water.

Options :

1. ✖ Only conclusion I follows
2. ✖ Only conclusion II follows
3. ✖ Either conclusion I or II follow
4. ✔ Both conclusions I and II follow

Question Number : 12 Question Id : 162653215 Question Type : MCQ Option Shuffling : Yes Display Question Number : Yes
Single Line Question Option : No Option Orientation : Vertical

Correct Marks : 1 Wrong Marks : 0.25

आपको एक कथन और दो निष्कर्ष दिए गए हैं। नीचे दिए गए विकल्पों में से निष्कर्षों के बारे में सही टिप्पणी चुनें।

कथन:

गर्मी के मौसम के दौरान प्रदूषित पानी पीने के कारण प्रत्येक वर्ष बड़ी संख्या में लोगों की मृत्यु हो जाती है।

निष्कर्ष:

- I. सरकार को अपने सभी नागरिकों को सुरक्षित पेय जल प्रदान करने के लिए पर्याप्त व्यवस्था करनी चाहिए।
- II. लोगों को प्रदूषित पानी पीने से होने वाले खतरों के बारे में शिक्षित किया जाना चाहिए।

Options :

1. ✖ केवल निष्कर्ष । अनुसरण करता है।
2. ✖ केवल निष्कर्ष ॥ अनुसरण करता है।
3. ✖ या तो निष्कर्ष । या निष्कर्ष ॥ अनुसरण करता है।
4. ✔ निष्कर्ष । और निष्कर्ष ॥, दोनों अनुसरण करते हैं।

Question Number : 13 Question Id : 162653216 Question Type : MCQ Option Shuffling : Yes Display Question Number : Yes
Single Line Question Option : No Option Orientation : Vertical
Correct Marks : 1 Wrong Marks : 0.25

Find the odd one from the following.

Options :

1. ✔ Duckling
2. ✖ Bray
3. ✖ Hiss
4. ✖ Mew

Question Number : 13 Question Id : 162653216 Question Type : MCQ Option Shuffling : Yes Display Question Number : Yes
Single Line Question Option : No Option Orientation : Vertical
Correct Marks : 1 Wrong Marks : 0.25

निम्नलिखित में से असंगत / विषम ज्ञात करें।

Options :

1. ✔ बत्तख का बच्चा
2. ✖ चीक
3. ✖ फुफकार
4. ✖ म्याऊँ

Question Number : 14 Question Id : 162653217 Question Type : MCQ Option Shuffling : Yes Display Question Number : Yes
Single Line Question Option : No Option Orientation : Vertical
Correct Marks : 1 Wrong Marks : 0.25

Naveena is 17th from the left end of a row of 29 girls and Reena is 17th from the right end in the same row. How many girls are there between them in the row?

Options :

1. ✖ 2

2. ✔ 3

3. ✖ 5

4. ✖ 7

Question Number : 14 Question Id : 162653217 Question Type : MCQ Option Shuffling : Yes Display Question Number : Yes
Single Line Question Option : No Option Orientation : Vertical
Correct Marks : 1 Wrong Marks : 0.25

नवीना 29 लड़कियों की एक कतार के बायीं छोर से 17वें स्थान पर है और रीना उसी कतार में दायीं छोर से 17वें स्थान पर है। कतार में उनके बीच कितनी लड़कियाँ हैं?

Options :

1. ✖ 2

2. ✔ 3

3. ✖ 5

4. ✖ 7

Question Number : 15 Question Id : 162653218 Question Type : MCQ Option Shuffling : Yes Display Question Number : Yes
Single Line Question Option : No Option Orientation : Vertical
Correct Marks : 1 Wrong Marks : 0.25

You are given a question and two statements I & II. You have to decide whether the data provided in the statements is sufficient to answer the question.

Among Mohan, Arun, Suresh, Ravi and Praveen, who came last for the Birthday party?

Statements:

- I. Mohan came after Arun but not after Praveen.
- II. Ravi came after Praveen but not after Suresh.

Options :

1. ✖ Data in statement I alone is sufficient to answer the question.

2. ✖ Data in statement II alone is sufficient to answer the question.

3. ✔ Data in both the statements I and II is necessary to answer the question.

4. ✖ Data in both the statements I and II is not necessary to answer the question.

Question Number : 15 Question Id : 162653218 Question Type : MCQ Option Shuffling : Yes Display Question Number : Yes
Single Line Question Option : No Option Orientation : Vertical

Correct Marks : 1 Wrong Marks : 0.25

आपको एक प्रश्न और दो कथन I एवं II दिए गए हैं। आपको यह तय करना है कि क्या कथनों में दिया गया डेटा प्रश्न का उत्तर देने के लिए पर्याप्त है।

प्रश्न:

मोहन, अरुण, सुरेश, रवि और प्रवीण में से जन्मदिन पार्टी में आखिर में कौन आया?

कथन:

- I. मोहन अरुण के बाद आया लेकिन प्रवीण के बाद नहीं।
- II. रवि प्रवीण के बाद आया लेकिन सुरेश के बाद नहीं।

Options :

- 1. ✖ अकेले कथन I में दिया गया डेटा प्रश्न का उत्तर देने के लिए पर्याप्त है।
- 2. ✖ अकेले कथन II में दिया गया डेटा प्रश्न का उत्तर देने के लिए पर्याप्त है।
- 3. ✔ कथन I और II दोनों में दिए गए डेटा प्रश्न का उत्तर देने के लिए आवश्यक हैं।
- 4. ✖ कथन I और II दोनों में दिए गए डेटा प्रश्न का उत्तर देने के लिए आवश्यक नहीं हैं।

Question Number : 16 Question Id : 162653219 Question Type : MCQ Option Shuffling : Yes Display Question Number : Yes
Single Line Question Option : No Option Orientation : Vertical

Correct Marks : 1 Wrong Marks : 0.25

If 'south-east' is called 'east', 'north-west' is called 'west', 'south-west' is called 'south' and so on, what will be called as 'north'?

Options :

- 1. ✖ South-west
- 2. ✔ North-west
- 3. ✖ South
- 4. ✖ North

Question Number : 16 Question Id : 162653219 Question Type : MCQ Option Shuffling : Yes Display Question Number : Yes
Single Line Question Option : No Option Orientation : Vertical

Correct Marks : 1 Wrong Marks : 0.25

अगर 'दक्षिण-पूर्व' को 'पूर्व' कहा जाता है, 'उत्तर-पश्चिम' को 'पश्चिम' कहा जाता है, 'दक्षिण-पश्चिम' को 'दक्षिण' कहा जाता है और इसी प्रकार अन्य, तो 'उत्तर' किसे कहा जाएगा?

Options :

- 1. ✖ दक्षिण-पश्चिम

2. ✓ उत्तर-पश्चिम

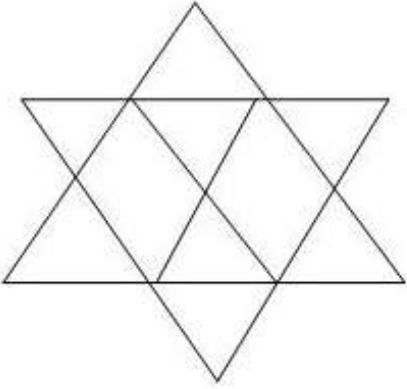
3. ✗ दक्षिण

4. ✗ उत्तर

Question Number : 17 Question Id : 162653220 Question Type : MCQ Option Shuffling : Yes Display Question Number : Yes
Single Line Question Option : No Option Orientation : Vertical

Correct Marks : 1 Wrong Marks : 0.25

Find the number of parallelograms in the following figure.



Options :

1. ✗ 12

2. ✗ 13

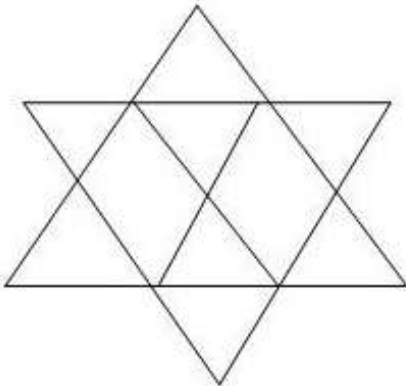
3. ✗ 14

4. ✓ 15

Question Number : 17 Question Id : 162653220 Question Type : MCQ Option Shuffling : Yes Display Question Number : Yes
Single Line Question Option : No Option Orientation : Vertical

Correct Marks : 1 Wrong Marks : 0.25

निम्नलिखित चित्र में समान्तर चतुर्भुजों की संख्या ज्ञात करें।



Options :

1. ✖ 12

2. ✖ 13

3. ✖ 14

4. ✔ 15

Question Number : 18 Question Id : 162653221 Question Type : MCQ Option Shuffling : Yes Display Question Number : Yes
Single Line Question Option : No Option Orientation : Vertical

Correct Marks : 1 Wrong Marks : 0.25

Find the missing number in the below series.

1, _____, 4, 8, 9, 27, 16, 64, 25

Options :

1. ✖ 2

2. ✖ 3

3. ✔ 1

4. ✖ 0

Question Number : 18 Question Id : 162653221 Question Type : MCQ Option Shuffling : Yes Display Question Number : Yes
Single Line Question Option : No Option Orientation : Vertical

Correct Marks : 1 Wrong Marks : 0.25

निम्नलिखित श्रृंखला में अनुपस्थित संख्या ज्ञात करें।

1, _____, 4, 8, 9, 27, 16, 64, 25

Options :

1. ✖ 2

2. ✖ 3

3. ✔ 1

4. ✖ 0

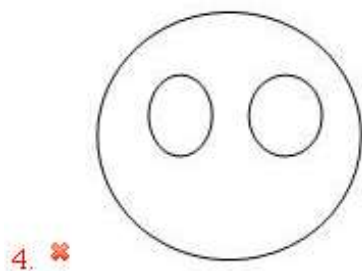
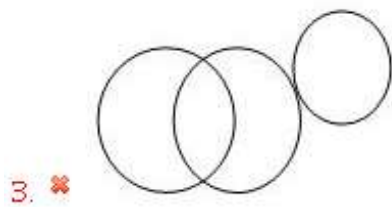
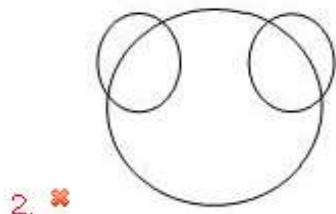
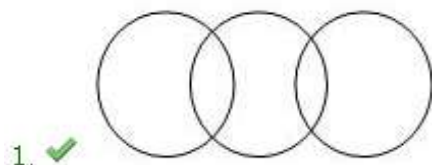
Question Number : 19 Question Id : 162653222 Question Type : MCQ Option Shuffling : Yes Display Question Number : Yes
Single Line Question Option : No Option Orientation : Vertical

Correct Marks : 1 Wrong Marks : 0.25

Which of the following venn diagrams correctly represents the below classes?

Clothes, Flowers, Red

Options :



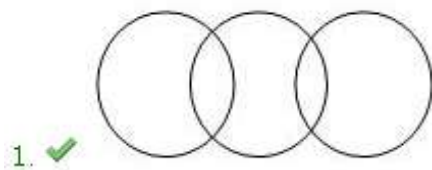
Question Number : 19 Question Id : 162653222 Question Type : MCQ Option Shuffling : Yes Display Question Number : Yes
Single Line Question Option : No Option Orientation : Vertical

Correct Marks : 1 Wrong Marks : 0.25

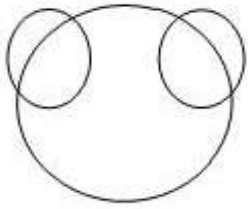
निम्नलिखित में से कौन-सा वेन आरेख नीचे गए वर्गों का सही पद्धति से प्रतिनिधित्व करता है।

वस्त्र, फूल, लाल

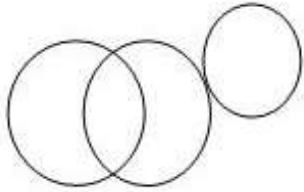
Options :



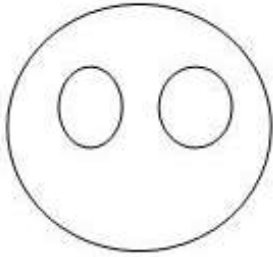
2. ✖



3. ✖



4. ✖



Question Number : 20 Question Id : 162653223 Question Type : MCQ Option Shuffling : Yes Display Question Number : Yes
Single Line Question Option : No Option Orientation : Vertical

Correct Marks : 1 Wrong Marks : 0.25

Introducing a lady, Sanjay said, "She is the daughter of the woman who is the mother of the husband of my mother".
How is the lady related to Sanjay?

Options :

1. ✖ Mother

2. ✔ Aunt

3. ✖ Sister

4. ✖ Sister-in-law

Question Number : 20 Question Id : 162653223 Question Type : MCQ Option Shuffling : Yes Display Question Number : Yes
Single Line Question Option : No Option Orientation : Vertical

Correct Marks : 1 Wrong Marks : 0.25

एक महिला का परिचय करवाते हुए संजय ने कहा, "वह उस महिला की बेटी है जो मेरी माँ के पति की माँ है।" महिला का सम्बन्ध संजय के साथ किस रूप में है?

Options :

1. ✖ माँ

2. ✔ चाची / मामी / मौसी / बूआ

3. ✖ बहन

4. ✖ भाभी / साली

General Awareness

Group Number :	2
Group Id :	16265312
Group Maximum Duration :	0
Group Minimum Duration :	0
Revisit allowed for view? :	No
Revisit allowed for edit? :	No
Break time:	0
Group Marks:	20
Revisit allowed for group Instructions? :	Yes
Maximum Instruction Time:	0
Minimum Instruction Time:	0

General Awareness

Section Id :	16265312
Section Number :	1
Section type :	Online
Mandatory or Optional:	Mandatory
Number of Questions:	20
Number of Questions to be attempted:	20
Section Marks:	20
Display Number Panel:	Yes
Group All Questions:	No

Sub-Section Number:	1
Sub-Section Id:	16265316
Question Shuffling Allowed :	Yes

Question Number : 21 Question Id : 162653224 Question Type : MCQ Option Shuffling : Yes Display Question Number : Yes
Single Line Question Option : No Option Orientation : Vertical

Correct Marks : 1 Wrong Marks : 0.25

Which of the following is INCORRECT about Revolt of 1857?

Options :

1. ✖ Bahadur Shah was recognized as the Emperor by all rebel leaders.

2. ✖ Coins were struck and orders were issued in the name of Bahadur Shah.

3. ✖

At Bareilly, Khan Bahadur Khan conducted the administration in the name of the Mughal Emperor.

4. ✓ At Jhansi, Rani Laxmi bai started administration in the name of the Mughal Emperor.

Question Number : 21 Question Id : 162653224 Question Type : MCQ Option Shuffling : Yes Display Question Number : Yes
Single Line Question Option : No Option Orientation : Vertical
Correct Marks : 1 Wrong Marks : 0.25

1857 के विद्रोह के बारे में इनमें से कौन सा विकल्प गलत है?

Options :

1. ✗ बहादुर शाह को सभी विद्रोही नेताओं द्वारा सम्राट के रूप में मान्यता दी गई।
2. ✗ सिक्के ढलवाये गए और बहादुर शाह के नाम पर आदेश जारी किये गये।
3. ✗ बरेली में, खान बहादुर खान ने मुगल सम्राट के नाम पर प्रशासन का संचालन किया।
4. ✓ झांसी में, रानी लक्ष्मीबाई ने मुगल सम्राट के नाम पर प्रशासन शुरू किया।

Question Number : 22 Question Id : 162653225 Question Type : MCQ Option Shuffling : Yes Display Question Number : Yes
Single Line Question Option : No Option Orientation : Vertical
Correct Marks : 1 Wrong Marks : 0.25

Which of the following is INCORRECT about the Quit India movement?

Options :

1. ✗ The Quit India Movement was launched in August 1942.
2. ✓
The famous newspapers as the National Herald and Harijan continuously supported the Quit India movement for the entire duration of the struggle in 1942.
3. ✗ Communists were opposed to the Quit India Movement.
4. ✗
The movement in the Princely States was now to be not only for responsible government but for the independence of India and the integration of the States with British India.

Question Number : 22 Question Id : 162653225 Question Type : MCQ Option Shuffling : Yes Display Question Number : Yes
Single Line Question Option : No Option Orientation : Vertical
Correct Marks : 1 Wrong Marks : 0.25

भारत छोड़ो आंदोलन के बारे में निम्नलिखित में से कौन सा गलत है?

Options :

1. ✗ भारत छोड़ो आंदोलन अगस्त 1942 में शुरू किया गया था।

2. ✓

नेशनल हेराल्ड और हरिजन जैसे प्रसिद्ध समाचारपत्रों ने 1942 में संघर्ष की पूरी अवधि में लिए भारत छोड़ो आंदोलन का लगातार समर्थन किया।

3. ✗ साम्यवादी भारत छोड़ो आंदोलन के विरुद्ध थे।

4. ✗

रियासतों में आंदोलन न केवल जिम्मेदार सरकार के लिए, बल्कि भारत की स्वतंत्रता और ब्रिटिश भारत के साथ राज्यों के एकीकरण के लिए था।

Question Number : 23 Question Id : 162653226 Question Type : MCQ Option Shuffling : Yes Display Question Number : Yes
Single Line Question Option : No Option Orientation : Vertical

Correct Marks : 1 Wrong Marks : 0.25

Which of the following qualifications is INCORRECT for election of the President of India?

Options :

1. ✗ The person should be a citizen of India.

2. ✓ The person should be completed the age of thirty years.

3. ✗ The person should be qualified for election as a member of the House of the People.

4. ✗ The person should not hold any office of profit.

Question Number : 23 Question Id : 162653226 Question Type : MCQ Option Shuffling : Yes Display Question Number : Yes
Single Line Question Option : No Option Orientation : Vertical

Correct Marks : 1 Wrong Marks : 0.25

भारत के राष्ट्रपति के निर्वाचन के लिए निम्नलिखित योग्यताओं में से कौन सा गलत है?

Options :

1. ✗ व्यक्ति भारत का नागरिक होना चाहिए।

2. ✓ व्यक्ति की आयु तीस वर्ष पूर्ण होनी चाहिए।

3. ✗ व्यक्ति को लोकसभा के सदस्य के रूप में निर्वाचन के लिए योग्य होना चाहिए।

4. ✗ व्यक्ति को लाभ का कोई पद धारित नहीं करना चाहिए।

Question Number : 24 Question Id : 162653227 Question Type : MCQ Option Shuffling : Yes Display Question Number : Yes
Single Line Question Option : No Option Orientation : Vertical

Correct Marks : 1 Wrong Marks : 0.25

Which is FALSE about the provisions as to financial emergency in Indian Constitution?

Options :

1. ✖ Article 360 lays down the provisions of Financial emergency.

2. ✖

If the President is satisfied that a situation has arisen whereby the financial stability or credit of India or of any part of the territory thereof is threatened he may by a Proclamation make a declaration to that effect.

3. ✖

A Proclamation issued may be revoked or varied by a subsequent Proclamation by the President.

4. ✔

It shall cease to operate at the expiration of six months unless before the expiration of that period it has been approved by resolutions of both Houses of Parliament.

Question Number : 24 Question Id : 162653227 Question Type : MCQ Option Shuffling : Yes Display Question Number : Yes
Single Line Question Option : No Option Orientation : Vertical

Correct Marks : 1 Wrong Marks : 0.25

भारतीय संविधान में वित्तीय आपातकाल से संबंधित प्रावधानों के बारे में कौन सा गलत है?

Options :

1. ✖ अनुच्छेद 360 वित्तीय आपातकाल के प्रावधानों को निर्धारित करता है।

2. ✖

यदि राष्ट्रपति संतुष्ट हैं कि एक स्थिति उत्पन्न हुई है जिससे भारत या उसके राज्य-क्षेत्र के किसी भी भाग की वित्तीय स्थिरता या साख को खतरा है; वह एक उद्घोषणा द्वारा इस आशय की घोषणा कर सकता है।

3. ✖

जारी की गई उद्घोषणा को राष्ट्रपति द्वारा अनुवर्ती उद्घोषणा द्वारा प्रतिसंहरित या परिवर्तित किया जा सकता है।

4. ✔

यह छह महीने की समाप्ति पर लागू नहीं होगा जब तक कि उस अवधि की समाप्ति से पहले इसे संसद के दोनों सदनों के प्रस्तावों द्वारा अनुमोदित न किया गया हो।

Question Number : 25 Question Id : 162653228 Question Type : MCQ Option Shuffling : Yes Display Question Number : Yes
Single Line Question Option : No Option Orientation : Vertical

Correct Marks : 1 Wrong Marks : 0.25

Which right is NOT included to every citizen under article 19?

Options :

1. ✖ To form association

2. ✖ To freedom of speech and expression

3. ✖ To assemble peaceably and without arms

4. ✓ Right against exploitation or Beggar

Question Number : 25 Question Id : 162653228 Question Type : MCQ Option Shuffling : Yes Display Question Number : Yes
Single Line Question Option : No Option Orientation : Vertical
Correct Marks : 1 Wrong Marks : 0.25

अनुच्छेद 19 के तहत प्रत्येक नागरिक को कौन सा अधिकार नहीं है?

Options :

1. ✗ संघ बनाने का अधिकार
2. ✗ भाषण और अभिव्यक्ति की स्वतंत्रता का अधिकार
3. ✗ शांतिपूर्वक और शस्त्र के बिना एक साथ एकत्रित होने का अधिकार
4. ✓ शोषण या बेगारी के विरुद्ध अधिकार

Question Number : 26 Question Id : 162653229 Question Type : MCQ Option Shuffling : Yes Display Question Number : Yes
Single Line Question Option : No Option Orientation : Vertical
Correct Marks : 1 Wrong Marks : 0.25

Which of the following is INCORRECT about the right to property?

Options :

1. ✗ It was mentioned under Article 31.
2. ✓ It was repealed by the Constitution (forty two amendment) Act, 1976.
3. ✗ Now, this is a legal right.
4. ✗ None of other options.

Question Number : 26 Question Id : 162653229 Question Type : MCQ Option Shuffling : Yes Display Question Number : Yes
Single Line Question Option : No Option Orientation : Vertical
Correct Marks : 1 Wrong Marks : 0.25

इनमें से कौन सा संपत्ति के अधिकार के बारे में गलत है?

Options :

1. ✗ अनुच्छेद 31 के तहत इसका उल्लेख किया गया था।
2. ✓ इसे संविधान (42वां संशोधन) अधिनियम, 1976 द्वारा निरस्त कर दिया गया था।
3. ✗ अब, यह एक कानूनी अधिकार है।

4. ✖ उपर्युक्त से कोई भी नहीं।

Question Number : 27 Question Id : 162653230 Question Type : MCQ Option Shuffling : Yes Display Question Number : Yes
Single Line Question Option : No Option Orientation : Vertical

Correct Marks : 1 Wrong Marks : 0.25

Which city is going to host the Olympics 2020?

Options :

1. ✖ London

2. ✔ Tokyo

3. ✖ Toronto

4. ✖ Paris

Question Number : 27 Question Id : 162653230 Question Type : MCQ Option Shuffling : Yes Display Question Number : Yes
Single Line Question Option : No Option Orientation : Vertical

Correct Marks : 1 Wrong Marks : 0.25

इनमें से कौन सा शहर ओलंपिक 2020 की मेजबानी करने वाला है?

Options :

1. ✖ लंदन

2. ✔ टोक्यो

3. ✖ टोरंटो

4. ✖ पेरिस

Question Number : 28 Question Id : 162653231 Question Type : MCQ Option Shuffling : Yes Display Question Number : Yes
Single Line Question Option : No Option Orientation : Vertical

Correct Marks : 1 Wrong Marks : 0.25

Which female wrestler clinched gold medal in the freestyle 50 kg category in Asian games, 2018?

Options :

1. ✖ Babita Phogat

2. ✖ Divya Kakran

3. ✔ Vinesh Phogat

4. ✖ Kuljeet Kaur

Question Number : 28 Question Id : 162653231 Question Type : MCQ Option Shuffling : Yes Display Question Number : Yes
Single Line Question Option : No Option Orientation : Vertical
Correct Marks : 1 Wrong Marks : 0.25

किस महिला पहलवान ने एशियाई खेल 2018 में फ्रीस्टाइल 50 किलो वर्ग में स्वर्ण पदक जीता?

Options :

1. ✖ बबिता फोगट

2. ✖ दिव्या ककरन

3. ✔ विनेश फोगट

4. ✖ कुलजीत कौर

Question Number : 29 Question Id : 162653232 Question Type : MCQ Option Shuffling : Yes Display Question Number : Yes
Single Line Question Option : No Option Orientation : Vertical
Correct Marks : 1 Wrong Marks : 0.25

The famous 'Hornbill festival' is celebrated in which of the following States of India?

Options :

1. ✖ Tripura

2. ✖ Chhattisgarh

3. ✔ Nagaland

4. ✖ Lakshadweep

Question Number : 29 Question Id : 162653232 Question Type : MCQ Option Shuffling : Yes Display Question Number : Yes
Single Line Question Option : No Option Orientation : Vertical
Correct Marks : 1 Wrong Marks : 0.25

प्रसिद्ध 'हॉर्नबिल त्यौहार' भारत के निम्नलिखित में से किस राज्य में मनाया जाता है?

Options :

1. ✖ त्रिपुरा

2. ✖ छत्तीसगढ़

3. ✔ नागालैंड

4. ✖ लक्षद्वीप

Question Number : 30 Question Id : 162653233 Question Type : MCQ Option Shuffling : Yes Display Question Number : Yes
Single Line Question Option : No Option Orientation : Vertical
Correct Marks : 1 Wrong Marks : 0.25

Dhamal dance is a popular form of dance in _____ state.

Options :

1. ✖ Gujarat

2. ✖ Chhattisgarh

3. ✔ Haryana

4. ✖ Bihar

Question Number : 30 Question Id : 162653233 Question Type : MCQ Option Shuffling : Yes Display Question Number : Yes
Single Line Question Option : No Option Orientation : Vertical
Correct Marks : 1 Wrong Marks : 0.25

धमाल नृत्य _____ राज्य में एक लोकप्रिय नृत्य रूप है।

Options :

1. ✖ गुजरात

2. ✖ छत्तीसगढ़

3. ✔ हरियाणा

4. ✖ बिहार

Question Number : 31 Question Id : 162653234 Question Type : MCQ Option Shuffling : Yes Display Question Number : Yes
Single Line Question Option : No Option Orientation : Vertical
Correct Marks : 1 Wrong Marks : 0.25

Which of the following options is INCORRECT about popular names of the rivers?

Options :

1. ✖ The Ghaghara river is called Manchu and Karnali in Nepal.

2. ✔ The Gandak River is also known as Sarpo in Nepal.

3. ✖ The Burhi Gandak river is also known as the Sikrahana in Bihar.

4. ✖ The Brahmaputra river is known as Tsangpo in Tibet.

Question Number : 31 Question Id : 162653234 Question Type : MCQ Option Shuffling : Yes Display Question Number : Yes
Single Line Question Option : No Option Orientation : Vertical

Correct Marks : 1 Wrong Marks : 0.25

नदियों के लोकप्रिय नामों के बारे में निम्न में से कौन सा विकल्प गलत है?

Options :

1. ✖ घाघरा नदी को नेपाल में मांचू और करनाली कहा जाता है।
2. ✔ गंडक नदी को नेपाल में सरपो भी कहा जाता है।
3. ✖ बूढी गंडक नदी को बिहार में सिकरहना भी कहा जाता है।
4. ✖ ब्रह्मपुत्र नदी तिब्बत में त्संगपो के रूप में जाना जाता है।

Question Number : 32 Question Id : 162653235 Question Type : MCQ Option Shuffling : Yes Display Question Number : Yes
Single Line Question Option : No Option Orientation : Vertical

Correct Marks : 1 Wrong Marks : 0.25

Arrange the following peaks in the descending order of their heights.

Options :

1. ✖ Makalu, Annapurna, Nanda Devi, Dhaulagiri
2. ✔ Makalu, Dhaulagiri, Annapurna, Nanda Devi
3. ✖ Makalu, Nanda Devi, Dhaulagiri, Annapurna
4. ✖ Makalu, Dhaulagiri, Nanda Devi, Annapurna

Question Number : 32 Question Id : 162653235 Question Type : MCQ Option Shuffling : Yes Display Question Number : Yes
Single Line Question Option : No Option Orientation : Vertical

Correct Marks : 1 Wrong Marks : 0.25

निम्नलिखित चोटियों को उनकी ऊंचाइयों के अनुसार आरोही क्रम में व्यवस्थित करें।

Options :

1. ✖ मकालू, अन्नपूर्णा, नंदा देवी, धौलागिरी
2. ✔ मकालू, धौलागिरी, अन्नपूर्णा, नंदा देवी,

3. ✖ मकालू, नंदा देवी, धौलागिरी, अन्नपूर्णा

4. ✖ मकालू, धौलागिरी, नंदा देवी, अन्नपूर्णा

Question Number : 33 Question Id : 162653236 Question Type : MCQ Option Shuffling : Yes Display Question Number : Yes
Single Line Question Option : No Option Orientation : Vertical

Correct Marks : 1 Wrong Marks : 0.25

Which of the following options is correct about Goods and Services Tax (GST)?

Options :

1. ✖ Initially it had three rate structure.

2. ✖ Essential items including food are taxed at 5%.

3. ✔ Tobacco and aerated drinks are placed on the top of the highest tax rate 28%.

4. ✖ GST was implemented from 1 June 2017 in India.

Question Number : 33 Question Id : 162653236 Question Type : MCQ Option Shuffling : Yes Display Question Number : Yes
Single Line Question Option : No Option Orientation : Vertical

Correct Marks : 1 Wrong Marks : 0.25

माल और सेवा कर (जी.एस.टी.) के बारे में निम्नलिखित में से कौन सा विकल्प सही है?

Options :

1. ✖ प्रारंभ में इसमें तीन दर संरचना थी।

2. ✖ खाद्य सहित आवश्यक वस्तुओं पर 5% की दर से कर लगाया जाता है।

3. ✔ तंबाकू और वातित पेय को 28% की उच्चतम कर दर में रखा गया है।

4. ✖ भारत में 1 जून 2017 से जी.एस.टी. लागू किया गया था।

Question Number : 34 Question Id : 162653237 Question Type : MCQ Option Shuffling : Yes Display Question Number : Yes
Single Line Question Option : No Option Orientation : Vertical

Correct Marks : 1 Wrong Marks : 0.25

The state of neither profit nor loss is termed as _____.

Options :

1. ✖ Without profit and loss

- 2. ✖ Equal
- 3. ✖ Imbalanced point
- 4. ✔ Break in Point

Question Number : 34 Question Id : 162653237 Question Type : MCQ Option Shuffling : Yes Display Question Number : Yes
Single Line Question Option : No Option Orientation : Vertical
Correct Marks : 1 Wrong Marks : 0.25

न तो लाभ और न ही हानि की स्थिति को _____ कहा जाता है।

Options :

- 1. ✖ लाभ और हानि के बिना
- 2. ✖ समान
- 3. ✖ असंतुलित बिंदु
- 4. ✔ लाभ-अलाभ स्थिति

Question Number : 35 Question Id : 162653238 Question Type : MCQ Option Shuffling : Yes Display Question Number : Yes
Single Line Question Option : No Option Orientation : Vertical
Correct Marks : 1 Wrong Marks : 0.25

The _____ is a process in which dissolved inorganic solids (such as salts) are removed from a solution (such as water).

Options :

- 1. ✖ Reserve Osmosis
- 2. ✔ Reverse Osmosis
- 3. ✖ Repulsion Osmosis
- 4. ✖ Revert Osmosis

Question Number : 35 Question Id : 162653238 Question Type : MCQ Option Shuffling : Yes Display Question Number : Yes
Single Line Question Option : No Option Orientation : Vertical
Correct Marks : 1 Wrong Marks : 0.25

_____ एक प्रक्रिया है जिसमें विघटित अकार्बनिक ठोस (जैसे लवण) को घोल (जैसे पानी) से अलग किया जाता है।

Options :

- 1. ✖ रिजर्व परासरण
- 2. ✔ उलटा परासरण

3. ✖ प्रतिकृति परासरण

4. ✖ प्रत्यावर्ती परासरण

Question Number : 36 Question Id : 162653239 Question Type : MCQ Option Shuffling : Yes Display Question Number : Yes
Single Line Question Option : No Option Orientation : Vertical

Correct Marks : 1 Wrong Marks : 0.25

Night blindness is caused by a lack of _____.

Options :

1. ✖ Vitamin D

2. ✖ Vitamin B

3. ✔ Vitamin A

4. ✖ Vitamin C

Question Number : 36 Question Id : 162653239 Question Type : MCQ Option Shuffling : Yes Display Question Number : Yes
Single Line Question Option : No Option Orientation : Vertical

Correct Marks : 1 Wrong Marks : 0.25

रतौंधी _____ की कमी के कारण होता है।

Options :

1. ✖ विटामिन D

2. ✖ विटामिन B

3. ✔ विटामिन A

4. ✖ विटामिन C

Question Number : 37 Question Id : 162653240 Question Type : MCQ Option Shuffling : Yes Display Question Number : Yes
Single Line Question Option : No Option Orientation : Vertical

Correct Marks : 1 Wrong Marks : 0.25

The 'Make in India' initiative was formally introduced on _____ by Prime Minister Sh. Narendra Modi at Vigyan Bhawan, New Delhi.

Options :

1. ✖ 26 January 2014

2. ✖ 25 July 2014

3. ✓ 25 September 2014

4. ✗ 04 December 2014

Question Number : 37 Question Id : 162653240 Question Type : MCQ Option Shuffling : Yes Display Question Number : Yes
Single Line Question Option : No Option Orientation : Vertical

Correct Marks : 1 Wrong Marks : 0.25

प्रधान मंत्री श्री नरेंद्र मोदी द्वारा _____ को विज्ञान भवन, नई दिल्ली, में 'मेक इन इंडिया' पहल का औपचारिक रूप से शुभारम्भ किया गया।

Options :

1. ✗ 26 जनवरी 2014

2. ✗ 25 जुलाई 2014

3. ✓ 25 सितंबर 2014

4. ✗ 04 दिसंबर 2014

Question Number : 38 Question Id : 162653241 Question Type : MCQ Option Shuffling : Yes Display Question Number : Yes
Single Line Question Option : No Option Orientation : Vertical

Correct Marks : 1 Wrong Marks : 0.25

Which of the following is INCORRECT with reference to the NISAR mission?

Options :

1. ✓

The mission is a partnership between Roscosmos (Russian Space Agency) and the Indian Space Research Organisation.

2. ✗ It aimed to study hazards and global environmental change.

3. ✗

Data collected from NISAR will reveal information about the evolution and state of Earth's crust.

4. ✗ None of the options.

Question Number : 38 Question Id : 162653241 Question Type : MCQ Option Shuffling : Yes Display Question Number : Yes
Single Line Question Option : No Option Orientation : Vertical

Correct Marks : 1 Wrong Marks : 0.25

NISAR मिशन के संदर्भ में निम्नलिखित में से कौन सा गलत है?

Options :

1. ✓

मिशन रास्कोस्मोस (रूसी अंतरिक्ष एजेंसी) और भारतीय अंतरिक्ष अनुसंधान संगठन के बीच साझेदारी है।

2. ✖ इसका उद्देश्य खतरों और वैश्विक पर्यावरण परिवर्तन का अध्ययन करना था।

3. ✖

NISAR से एकत्रित आंकड़े पृथ्वी की परत के विकास और स्थिति के बारे में जानकारी प्रकट करेंगे।

4. ✖ इनमें से कोई भी नहीं।

Question Number : 39 Question Id : 162653242 Question Type : MCQ Option Shuffling : Yes Display Question Number : Yes
Single Line Question Option : No Option Orientation : Vertical

Correct Marks : 1 Wrong Marks : 0.25

Which of the following statements about World Bank is INCORRECT?

Options :

1. ✖ The World Bank was created by the Bretton Woods Conference in 1944.

2. ✖ It was formerly known as International Bank for Reconstruction and Development.

3. ✖ It was a public sector bank.

4. ✔ It became operational in 1945.

Question Number : 39 Question Id : 162653242 Question Type : MCQ Option Shuffling : Yes Display Question Number : Yes
Single Line Question Option : No Option Orientation : Vertical

Correct Marks : 1 Wrong Marks : 0.25

विश्व बैंक के बारे में निम्नलिखित में से कौन सा कथन गलत है?

Options :

1. ✖ 1944 में ब्रेटन वुड्स सम्मेलन द्वारा विश्व बैंक का सृजन किया गया था।

2. ✖ इसे पहले अंतर्राष्ट्रीय पुनर्निर्माण और विकास बैंक के रूप में जाना जाता था।

3. ✖ यह सार्वजनिक क्षेत्र की बैंक थी।

4. ✔ इसने 1945 में काम करना शुरू किया।

Question Number : 40 Question Id : 162653243 Question Type : MCQ Option Shuffling : Yes Display Question Number : Yes
Single Line Question Option : No Option Orientation : Vertical

Correct Marks : 1 Wrong Marks : 0.25

The headquarters of the UNESCO is located at _____.

Options :

1. ✖ New York

2. ✖ Geneva

3. ✔ Paris

4. ✖ London

Question Number : 40 Question Id : 162653243 Question Type : MCQ Option Shuffling : Yes Display Question Number : Yes
Single Line Question Option : No Option Orientation : Vertical

Correct Marks : 1 Wrong Marks : 0.25

यूनेस्को (UNESCO) का मुख्यालय _____ में स्थित है।

Options :

1. ✖ न्यूयॉर्क

2. ✖ जिनेवा

3. ✔ पेरिस

4. ✖ लंदन

Arithmetic Ability

Group Number :	3
Group Id :	16265313
Group Maximum Duration :	0
Group Minimum Duration :	0
Revisit allowed for view? :	No
Revisit allowed for edit? :	No
Break time:	0
Group Marks:	20
Revisit allowed for group Instructions? :	Yes
Maximum Instruction Time:	0
Minimum Instruction Time:	0

Arithmetic Ability

Section Id :	16265313
Section Number :	1
Section type :	Online
Mandatory or Optional:	Mandatory
Number of Questions:	19
Number of Questions to be attempted:	19
Section Marks:	20

Display Number Panel:

Yes

Group All Questions:

No

Sub-Section Number:

1

Sub-Section Id:

16265317

Question Shuffling Allowed :

Yes

Question Number : 41 Question Id : 162653244 Question Type : MCQ Option Shuffling : Yes Display Question Number : Yes
Single Line Question Option : No Option Orientation : Vertical

Correct Marks : 1 Wrong Marks : 0.25

The value of $\frac{58.3 \times 58.3 + 56.3 \times 56.3 + 58.3 \times 56.3}{583 \times 583 \times 583 - 563 \times 563 \times 563}$ is equal to:

Options :

1. ✖ 0.1

2. ✔ 0.0005

3. ✖ 0.005

4. ✖ 0.05

Question Number : 41 Question Id : 162653244 Question Type : MCQ Option Shuffling : Yes Display Question Number : Yes
Single Line Question Option : No Option Orientation : Vertical

Correct Marks : 1 Wrong Marks : 0.25

$\frac{58.3 \times 58.3 + 56.3 \times 56.3 + 58.3 \times 56.3}{583 \times 583 \times 583 - 563 \times 563 \times 563}$ का मान निम्न में से किसके बराबर है?

Options :

1. ✖ 0.1

2. ✔ 0.0005

3. ✖ 0.005

4. ✖ 0.05

Question Number : 42 Question Id : 162653245 Question Type : MCQ Option Shuffling : Yes Display Question Number : Yes
Single Line Question Option : No Option Orientation : Vertical

Correct Marks : 1 Wrong Marks : 0.25

The unit digit in $(32)^{25} - (28)^{64} + (23)^9$ is:

Options :

1. ✖ 1

2. ✖ 4

3. ✖ 6

4. ✔ 9

Question Number : 42 Question Id : 162653245 Question Type : MCQ Option Shuffling : Yes Display Question Number : Yes
Single Line Question Option : No Option Orientation : Vertical

Correct Marks : 1 Wrong Marks : 0.25

$(32)^{25} - (28)^{64} + (23)^9$ में इकाई अंक क्या है?

Options :

1. ✖ 1

2. ✖ 4

3. ✖ 6

4. ✔ 9

Question Number : 43 Question Id : 162653246 Question Type : MCQ Option Shuffling : Yes Display Question Number : Yes
Single Line Question Option : No Option Orientation : Vertical

Correct Marks : 1 Wrong Marks : 0.25

What is the sum of digits of the least whole number which should be subtracted from 52368 to make it a perfect square number?

Options :

1. ✖ 10

2. ✖ 12

3. ✖ 14

4. ✔ 15

Question Number : 43 Question Id : 162653246 Question Type : MCQ Option Shuffling : Yes Display Question Number : Yes
Single Line Question Option : No Option Orientation : Vertical

Correct Marks : 1 Wrong Marks : 0.25

लघुत्तम पूर्ण संख्या के अंकों का वह योग कौन सा है जिसे 52368 में से घटाया जाना चाहिए जिससे वह एक पूर्ण वर्ग संख्या बन जाये।

Options :

1. ✖ 10

2. ✖ 12

3. ✖ 14

4. ✓ 15

Question Number : 44 Question Id : 162653247 Question Type : MCQ Option Shuffling : Yes Display Question Number : Yes
Single Line Question Option : No Option Orientation : Vertical

Correct Marks : 1 Wrong Marks : 0.25

The value of $0.4\overline{31} + 0.\overline{26} - 0.43\overline{9}$ is equal to:

Options :

1. ✓ $0.25\overline{39}$

2. ✗ $0.2\overline{54}$

3. ✗ $0.24\overline{3}$

4. ✗ $0.25\overline{36}$

Question Number : 44 Question Id : 162653247 Question Type : MCQ Option Shuffling : Yes Display Question Number : Yes
Single Line Question Option : No Option Orientation : Vertical

Correct Marks : 1 Wrong Marks : 0.25

$0.4\overline{31} + 0.\overline{26} - 0.43\overline{9}$ का मान निम्न में से किसके बराबर है?

Options :

1. ✓ $0.25\overline{39}$

2. ✗ $0.2\overline{54}$

3. ✗ $0.24\overline{3}$

4. ✗ $0.25\overline{36}$

Question Number : 45 Question Id : 162653248 Question Type : MCQ Option Shuffling : Yes Display Question Number : Yes
Single Line Question Option : No Option Orientation : Vertical

Correct Marks : 1 Wrong Marks : 0.25

Two numbers are in the ratio 5 : 8 and the product of their HCF and LCM is 6760. What is the sum of the numbers?

Options :

1. ✗ 149

2. ✗ 164

3. ✓ 169

4. ✗ 182

Question Number : 45 Question Id : 162653248 Question Type : MCQ Option Shuffling : Yes Display Question Number : Yes
Single Line Question Option : No Option Orientation : Vertical

Correct Marks : 1 Wrong Marks : 0.25

दो संख्याएं 5 : 8 के अनुपात में हैं और उनके महत्तम समापवर्तक और लघुत्तम समावर्त्य का गुणनफल 6760 है। इन संख्याओं का योग क्या है?

Options :

1. ✖ 149

2. ✖ 164

3. ✔ 169

4. ✖ 182

Question Number : 46 Question Id : 162653249 Question Type : MCQ Option Shuffling : Yes Display Question Number : Yes
Single Line Question Option : No Option Orientation : Vertical

Correct Marks : 1 Wrong Marks : 0.25

The average weight of boys in a class is 60 kg and that of girls is 50 kg. If the average weight of the whole class is 56 kg, what is the ratio of boys and girls in the class?

Options :

1. ✖ 2 : 3

2. ✔ 3 : 2

3. ✖ 3 : 5

4. ✖ 5 : 3

Question Number : 46 Question Id : 162653249 Question Type : MCQ Option Shuffling : Yes Display Question Number : Yes
Single Line Question Option : No Option Orientation : Vertical

Correct Marks : 1 Wrong Marks : 0.25

एक कक्षा में लड़कों का औसत वजन 60 kg और लड़कियों का औसत वजन 50 kg है। यदि संपूर्ण कक्षा का औसत वजन 56 kg है, कक्षा में लड़कों और लड़कियों का अनुपात क्या है?

Options :

1. ✖ 2 : 3

2. ✔ 3 : 2

3. ✖ 3 : 5

4. ✖ 5 : 3

Question Number : 47 Question Id : 162653250 Question Type : MCQ Option Shuffling : Yes Display Question Number : Yes
Single Line Question Option : No Option Orientation : Vertical

Correct Marks : 1 Wrong Marks : 0.25

Two vessels A and B contain spirit and water in the ratio 3 : 5 and 3 : 2 respectively. In what ratio their contents should be mixed to get a solution of spirit and water as 19 : 21?

Options :

1.  5 : 4

2.  4 : 3

3.  7 : 9

4.  9 : 11

Question Number : 47 Question Id : 162653250 Question Type : MCQ Option Shuffling : Yes Display Question Number : Yes
Single Line Question Option : No Option Orientation : Vertical

Correct Marks : 1 Wrong Marks : 0.25


दो पात्रों A और B में क्रमशः 3 : 5 और 3 : 2 के अनुपात में स्पिरिट और पानी है। 19 : 21 के अनुपात में स्पिरिट और पानी का घोल प्राप्त करने के लिए उनकी सामग्रियों को किस अनुपात में मिश्रित किया जाना चाहिए?

Options :

1.  5 : 4

2.  4 : 3

3.  7 : 9


4.  9 : 11


Question Number : 48 Question Id : 162653251 Question Type : MCQ Option Shuffling : Yes Display Question Number : Yes
Single Line Question Option : No Option Orientation : Vertical


Correct Marks : 1 Wrong Marks : 0.25


A sum of ₹ 30,566 is divided among A, B and C such that 5 times A's share, 3 times B's share and 2 times C's share are equal. What is the share of B?

Options :

1.  ₹ 5,916

2.  ₹ 9,860

3.  ₹ 10,846

4.  ₹ 11,832

Question Number : 48 Question Id : 162653251 Question Type : MCQ Option Shuffling : Yes Display Question Number : Yes
Single Line Question Option : No Option Orientation : Vertical

Correct Marks : 1 Wrong Marks : 0.25

₹ 30,566 की धनराशि A, B और C में इस तरह से बांटी जाती है कि A के हिस्से का 5 गुना, B के हिस्से का 3 गुना और C के हिस्से का 2 गुना बराबर हैं। B का हिस्सा कितना है?

Options :

1. ✖ ₹ 5,916
2. ✔ ₹ 9,860
3. ✖ ₹ 10,846
4. ✖ ₹ 11,832

Question Number : 49 Question Id : 162653252 Question Type : MCQ Option Shuffling : Yes Display Question Number : Yes
Single Line Question Option : No Option Orientation : Vertical

Correct Marks : 1 Wrong Marks : 0.25

If the numerator of a fraction is increased by 150% and the denominator is decreased by 50%, then the fraction becomes $\frac{4}{3}$. What is the original fraction?

Options :

1. ✖ $\frac{2}{5}$
2. ✖ $\frac{3}{8}$
3. ✔ $\frac{4}{15}$
4. ✖ $\frac{5}{16}$

Question Number : 49 Question Id : 162653252 Question Type : MCQ Option Shuffling : Yes Display Question Number : Yes
Single Line Question Option : No Option Orientation : Vertical

Correct Marks : 1 Wrong Marks : 0.25

किसी भिन्न का अंश 150% बढ़ा दिए जाने और हर 50% कम कर दिए जाने पर भिन्न $\frac{4}{3}$ हो जाता है। मूल भिन्न क्या है?

Options :

1. ✖ $\frac{2}{5}$

2. ✖ $\frac{3}{8}$

3. ✔ $\frac{4}{15}$

4. ✖ $\frac{5}{16}$

Question Number : 50 Question Id : 162653253 Question Type : MCQ Option Shuffling : Yes Display Question Number : Yes
Single Line Question Option : No Option Orientation : Vertical

Correct Marks : 1 Wrong Marks : 0.25

By selling 25 articles, a person gains the cost price of 5 articles. What is his gain percentage?

Options :

1. ✖ $\frac{50}{3}\%$

2. ✖ 18%

3. ✔ 20%

4. ✖ 25%

Question Number : 50 Question Id : 162653253 Question Type : MCQ Option Shuffling : Yes Display Question Number : Yes
Single Line Question Option : No Option Orientation : Vertical

Correct Marks : 1 Wrong Marks : 0.25

25 वस्तुएं बेचने पर एक व्यक्ति को 5 वस्तुओं के लागत मूल्य का लाभ होता है। उसका लाभ प्रतिशत कितना है?

Options :

1. ✖ $\frac{50}{3}\%$

2. ✖ 18%

3. ✔ 20%

4. ✖ 25%

Question Number : 51 Question Id : 162653254 Question Type : MCQ Option Shuffling : Yes Display Question Number : Yes
Single Line Question Option : No Option Orientation : Vertical

Correct Marks : 1 Wrong Marks : 0.25

An article is sold at a certain price. By selling it at $\frac{6}{5}$ of that price, one loses 10%. What is his loss percentage at the original price?

Options :

- 1. ✖ 20%
- 2. ✔ 25%
- 3. ✖ 28%
- 4. ✖ 30%

Question Number : 51 Question Id : 162653254 Question Type : MCQ Option Shuffling : Yes Display Question Number : Yes
Single Line Question Option : No Option Orientation : Vertical
Correct Marks : 1 Wrong Marks : 0.25

कोई वस्तु एक निश्चित मूल्य पर बेची जाती है। उस मूल्य के $\frac{6}{5}$ पर उसे बेचने पर व्यक्ति को 10% की हानि होती है। मूल मूल्य पर उसका हानि प्रतिशत कितना है?

Options :

- 1. ✖ 20%
- 2. ✔ 25%
- 3. ✖ 28%
- 4. ✖ 30%

Question Number : 52 Question Id : 162653255 Question Type : MCQ Option Shuffling : Yes Display Question Number : Yes
Single Line Question Option : No Option Orientation : Vertical
Correct Marks : 1 Wrong Marks : 0.25

The value of a machine depreciates every year at the rate of 10% per annum. If the present value of the machine is ₹ 6,000, what is the percentage decrease in its value in 3 years?

Options :

- 1. ✔ 27.1%
- 2. ✖ 27.7%
- 3. ✖ 29.2%
- 4. ✖ 30%

Question Number : 52 Question Id : 162653255 Question Type : MCQ Option Shuffling : Yes Display Question Number : Yes
Single Line Question Option : No Option Orientation : Vertical
Correct Marks : 1 Wrong Marks : 0.25

एक मशीन का मूल्य प्रत्येक वर्ष 10% प्रति वर्ष की दर से हासित होता है। अगर मशीन का वर्तमान मूल्य ₹ 6,000 है तो तीन वर्षों में उसके मूल्य में प्रतिशत कमी कितनी होगी?

Options :

1. ✓ 27.1%

2. ✗ 27.7%

3. ✗ 29.2%

4. ✗ 30%

Question Number : 53 Question Id : 162653256 Question Type : MCQ Option Shuffling : Yes Display Question Number : Yes
Single Line Question Option : No Option Orientation : Vertical

Correct Marks : 1 Wrong Marks : 0.25

If the diagonal of a rectangle is 13 cm and its perimeter is 34 cm, what is the area of the rectangle in cm^2 ?

Options :

1. ✗ 30

2. ✗ 45

3. ✓ 60

4. ✗ 75

Question Number : 53 Question Id : 162653256 Question Type : MCQ Option Shuffling : Yes Display Question Number : Yes
Single Line Question Option : No Option Orientation : Vertical

Correct Marks : 1 Wrong Marks : 0.25

अगर एक आयत का विकर्ण 13 cm है और उसका परिमाप 34 cm है तो आयत का क्षेत्रफल कितने cm^2 है?

Options :

1. ✗ 30

2. ✗ 45

3. ✓ 60

4. ✗ 75

Question Number : 54 Question Id : 162653257 Question Type : MCQ Option Shuffling : Yes Display Question Number : Yes
Single Line Question Option : No Option Orientation : Vertical

Correct Marks : 1 Wrong Marks : 0.25

If each edge of a cube is increased by 40%, what is the percentage increase in its volume?

Options :

1. ✖ 120%
2. ✔ 174.4%
3. ✖ 196.8%
4. ✖ 224.8%

Question Number : 54 Question Id : 162653257 Question Type : MCQ Option Shuffling : Yes Display Question Number : Yes
Single Line Question Option : No Option Orientation : Vertical
Correct Marks : 1 Wrong Marks : 0.25

अगर एक घन के कोर को 40% बढ़ा दिया जाता है, तो उसके परिमाण में कितने प्रतिशत की वृद्धि होगी?

Options :

1. ✖ 120%
2. ✔ 174.4%
3. ✖ 196.8%
4. ✖ 224.8%

Question Number : 55 Question Id : 162653258 Question Type : MCQ Option Shuffling : Yes Display Question Number : Yes
Single Line Question Option : No Option Orientation : Vertical
Correct Marks : 1 Wrong Marks : 0.25

A, B and C alone can complete a work in 20, 24 and 30 hours respectively. They all started the work together but A and C left after working for 6 hours each. In how many hours will B alone complete the remaining work?

Options :

1. ✖ 4
2. ✔ 6
3. ✖ 7
4. ✖ 8

Question Number : 55 Question Id : 162653258 Question Type : MCQ Option Shuffling : Yes Display Question Number : Yes
Single Line Question Option : No Option Orientation : Vertical
Correct Marks : 1 Wrong Marks : 0.25

A, B और C किसी काम को अकेले क्रमशः 20, 24 और 30 घंटे में पूरा कर सकते हैं। इन सभी ने एक साथ मिलकर काम शुरू किया लेकिन A और C ने 6 घंटे बाद उस काम को छोड़ दिया। अकेले B शेष काम को कितने घंटों में पूरा करेगा?

Options :

1. ✖ 4

2. ✔ 6

3. ✖ 7

4. ✖ 8

Question Number : 56 Question Id : 162653259 Question Type : MCQ Option Shuffling : Yes Display Question Number : Yes
Single Line Question Option : No Option Orientation : Vertical

Correct Marks : 1 Wrong Marks : 0.25

If 12 persons working 8 hours a day earn ₹ 16,800 in 5 days, then 18 persons working 6 hours a day for 8 days will earn how much money?

Options :

1. ✔ ₹ 30,240

2. ✖ ₹ 36,288

3. ✖ ₹ 40,320

4. ✖ ₹ 48,384

Question Number : 56 Question Id : 162653259 Question Type : MCQ Option Shuffling : Yes Display Question Number : Yes
Single Line Question Option : No Option Orientation : Vertical

Correct Marks : 1 Wrong Marks : 0.25

अगर दिन में 8 घंटे काम करने वाले 12 व्यक्ति 5 दिन में ₹ 16,800 कमाते हैं तो दिन में 6 घंटे काम करने वाले 18 व्यक्ति 8 दिन में कितना पैसा कमाएंगे?

Options :

1. ✔ ₹ 30,240

2. ✖ ₹ 36,288

3. ✖ ₹ 40,320

4. ✖ ₹ 48,384

Question Number : 57 Question Id : 162653260 Question Type : MCQ Option Shuffling : Yes Display Question Number : Yes
Single Line Question Option : No Option Orientation : Vertical

Correct Marks : 1 Wrong Marks : 0.25

The speed of a boat in still water is 12 km/h. It can go 24 km upstream and return downstream to the original point in 4 hours 30 minutes. What is the speed of stream?

Options :

1. ✖ 2 km/h

2. ✖ 3 km/h

3. ✔ 4 km/h

4. ✖ 5 km/h

Question Number : 57 Question Id : 162653260 Question Type : MCQ Option Shuffling : Yes Display Question Number : Yes
Single Line Question Option : No Option Orientation : Vertical

Correct Marks : 1 Wrong Marks : 0.25

स्थिर पानी में एक नाव की गति 12 km/h है। वह 4 घंटे 30 मिनट में 24 km धारा-प्रतिकूल जाकर अनुप्रवाह में मूल स्थान पर लौट सकती है। धारा का वेग क्या है?

Options :

1. ✖ 2 km/h

2. ✖ 3 km/h

3. ✔ 4 km/h

4. ✖ 5 km/h

Question Number : 58 Question Id : 162653261 Question Type : MCQ Option Shuffling : Yes Display Question Number : Yes
Single Line Question Option : No Option Orientation : Vertical

Correct Marks : 1 Wrong Marks : 0.25

Without stoppage, a train travels at the speed of 120 km/h, and with stoppage, it travels with a speed of 110 km/h. How many minutes does the train stop on an average per hour?

Options :

1. ✖ 4

2. ✔ 5

3. ✖ 6

4. ✖ 8

Question Number : 58 Question Id : 162653261 Question Type : MCQ Option Shuffling : Yes Display Question Number : Yes
Single Line Question Option : No Option Orientation : Vertical

Correct Marks : 1 Wrong Marks : 0.25

एक रेलगाड़ी पड़ाव के बिना 120 km/h की रफ्तार से चलती है और पड़ाव के साथ 110 km/h की रफ्तार से चलती है। रेलगाड़ी औसतन प्रति घंटे कितने मिनट रुकती है?

Options :

1. ✖ 4

2. ✔ 5

3. ✖ 6

4. ✖ 8

Sub-Section Number: 2
Sub-Section Id: 16265318
Question Shuffling Allowed : Yes

Question Id : 162653262 Question Type : COMPREHENSION Sub Question Shuffling Allowed : Yes Group Comprehension Questions : No

Question Numbers : (59 to 60)

Question Label : Comprehension

The following table gives the height of students in cm in a primary school. Read the table and answer the following questions.

Class Interval	80-90	90-100	100-110	110-120	120-130	130-140
No. of Students	22	64	62	72	80	100

Sub questions

Question Number : 59 Question Id : 162653263 Question Type : MCQ Option Shuffling : Yes Display Question Number : Yes Single Line Question Option : No Option Orientation : Vertical

Correct Marks : 1 Wrong Marks : 0.25

What is the average height of students in cm?

Options :

1. ✔ 115.6

2. ✖ 116.8

3. ✖ 117.2

4. ✖ 118.4

Question Number : 60 Question Id : 162653264 Question Type : MCQ Option Shuffling : Yes Display Question Number : Yes Single Line Question Option : No Option Orientation : Vertical

Correct Marks : 1 Wrong Marks : 0.25

If the data given in the table is represented as Pie-chart, what is the central angle of the sector representing the interval in which the median lies (to the nearest whole degree)?

Options :

1. ✖ 56°
2. ✖ 58°
3. ✔ 65°
4. ✖ 72°

Question Id : 162653262 Question Type : COMPREHENSION Sub Question Shuffling Allowed : Yes Group Comprehension Questions : No

Question Numbers : (59 to 60)

Question Label : Comprehension

निम्नलिखित तालिका एक प्राथमिक पाठशाला के छात्रों के कद सेंटीमीटर में दर्शाती है। तालिका पढ़कर निम्न प्रश्नों के उत्तर दें।

वर्ग अंतराल	80- 90	90- 100	100- 110	110- 120	120- 130	130- 140
छात्रों की संख्या	22	64	62	72	80	100

Sub questions

Question Number : 59 Question Id : 162653263 Question Type : MCQ Option Shuffling : Yes Display Question Number : Yes Single Line Question Option : No Option Orientation : Vertical

Correct Marks : 1 Wrong Marks : 0.25

छात्रों का औसत कद सेंटीमीटर में कितना है?

Options :

1. ✔ 115.6
2. ✖ 116.8
3. ✖ 117.2
4. ✖ 118.4

Question Number : 60 Question Id : 162653264 Question Type : MCQ Option Shuffling : Yes Display Question Number : Yes
Single Line Question Option : No Option Orientation : Vertical

Correct Marks : 1 Wrong Marks : 0.25

अगर तालिका में दिए गए आंकड़े को पाई-चार्ट के रूप में प्रस्तुत किया जाता है तो उस अंतराल का प्रतिनिधित्व करने वाले क्षेत्र का केन्द्रीय कोण (निकटतम पूर्ण अंश में) कितना है जिसमें माध्यािका निहित है?

Options :

1. ✖ 56°

2. ✖ 58°

3. ✔ 65°

4. ✖ 72°

General English

Group Number :	4
Group Id :	16265314
Group Maximum Duration :	0
Group Minimum Duration :	0
Revisit allowed for view? :	No
Revisit allowed for edit? :	No
Break time:	0
Group Marks:	20
Revisit allowed for group Instructions? :	Yes
Maximum Instruction Time:	0
Minimum Instruction Time:	0

General English

Section Id :	16265314
Section Number :	1
Section type :	Online
Mandatory or Optional:	Mandatory
Number of Questions:	16
Number of Questions to be attempted:	16
Section Marks:	20
Display Number Panel:	Yes
Group All Questions:	No

Sub-Section Number:	1
Sub-Section Id:	16265319
Question Shuffling Allowed :	Yes

Question Number : 61 Question Id : 162653265 Question Type : MCQ Option Shuffling : Yes Display Question Number : Yes
Single Line Question Option : No Option Orientation : Vertical

Correct Marks : 1 Wrong Marks : 0.25

Which of the following options is a complete sentence?

Options :

1. ✖ Kith and kin.
2. ✖ Once in a blue moon.
3. ✖ The isles under the sun.
4. ✔ Corruption is a menace.

Question Number : 61 Question Id : 162653265 Question Type : MCQ Option Shuffling : Yes Display Question Number : Yes
Single Line Question Option : No Option Orientation : Vertical

Correct Marks : 1 Wrong Marks : 0.25

Which of the following options is a complete sentence?

Options :

1. ✖ Kith and kin.
2. ✖ Once in a blue moon.
3. ✖ The isles under the sun.
4. ✔ Corruption is a menace.

Question Number : 62 Question Id : 162653266 Question Type : MCQ Option Shuffling : Yes Display Question Number : Yes
Single Line Question Option : No Option Orientation : Vertical

Correct Marks : 1 Wrong Marks : 0.25

Choose a suitable clause to complete the sentence.

The world is becoming a global village; _____

Options :

1. ✔ yet, there are some who bring about divisions.
2. ✖ despite there are some who bring about divisions.
3. ✖ therefore, there are some who bring about divisions.
4. ✖ so are some who bring about divisions.

Question Number : 62 Question Id : 162653266 Question Type : MCQ Option Shuffling : Yes Display Question Number : Yes
Single Line Question Option : No Option Orientation : Vertical

Correct Marks : 1 Wrong Marks : 0.25

Choose a suitable clause to complete the sentence.

The world is becoming a global village; _____

Options :

1. ☒ yet, there are some who bring about divisions.
2. ☐ despite there are some who bring about divisions.
3. ☐ therefore, there are some who bring about divisions.
4. ☐ so are some who bring about divisions.

Question Number : 63 Question Id : 162653267 Question Type : MCQ Option Shuffling : Yes Display Question Number : Yes
Single Line Question Option : No Option Orientation : Vertical

Correct Marks : 1 Wrong Marks : 0.25

Which sentence makes the most sense?

Options :

1. ☒ No sooner had I arrived at the airport than the plane landed.
2. ☐ No sooner I arrived at the airport than the train came.
3. ☐ No sooner had I arrived at the airport the train came.
4. ☐ No sooner had I arrived at the airport than the train had landed.

Question Number : 63 Question Id : 162653267 Question Type : MCQ Option Shuffling : Yes Display Question Number : Yes
Single Line Question Option : No Option Orientation : Vertical

Correct Marks : 1 Wrong Marks : 0.25

Which sentence makes the most sense?

Options :

1. ☒ No sooner had I arrived at the airport than the plane landed.
2. ☐ No sooner I arrived at the airport than the train came.
3. ☐ No sooner had I arrived at the airport the train came.
4. ☐ No sooner had I arrived at the airport than the train had landed.

Question Number : 64 Question Id : 162653268 Question Type : MCQ Option Shuffling : Yes Display Question Number : Yes
Single Line Question Option : No Option Orientation : Vertical

Correct Marks : 1 Wrong Marks : 0.25

My friend _____ his keys. He doesn't have them with him now.

Options :

1. ✖ had lost
2. ✖ has been lost
3. ✖ lost
4. ✔ has lost

Question Number : 64 Question Id : 162653268 Question Type : MCQ Option Shuffling : Yes Display Question Number : Yes
Single Line Question Option : No Option Orientation : Vertical

Correct Marks : 1 Wrong Marks : 0.25

My friend _____ his keys. He doesn't have them with him now.

Options :

1. ✖ had lost
2. ✖ has been lost
3. ✖ lost
4. ✔ has lost

Question Number : 65 Question Id : 162653269 Question Type : MCQ Option Shuffling : Yes Display Question Number : Yes
Single Line Question Option : No Option Orientation : Vertical

Correct Marks : 1 Wrong Marks : 0.25

The company is trying _____ new talent.

Options :

1. ✖ spot
2. ✔ to spot
3. ✖ spotting
4. ✖ to spotting

Question Number : 65 Question Id : 162653269 Question Type : MCQ Option Shuffling : Yes Display Question Number : Yes
Single Line Question Option : No Option Orientation : Vertical

Correct Marks : 1 Wrong Marks : 0.25

The company is trying _____ new talent.

Options :

1. ✖ spot
2. ✔ to spot
3. ✖ spotting
4. ✖ to spotting

Question Number : 66 Question Id : 162653270 Question Type : MCQ Option Shuffling : Yes Display Question Number : Yes
Single Line Question Option : No Option Orientation : Vertical

Correct Marks : 1 Wrong Marks : 0.25

Choose the sentence in Reported Speech.

“The kids are longing to meet their cousins”, the parents said.

Options :

1. ✖ The parents said that the kids are longing to meet their cousins.
2. ✖ The parents said that the kids longed to meet their cousins.
3. ✔ The parents said that the kids were longing to meet their cousins.
4. ✖ The parents said that the kids were longing to meeting their cousins.

Question Number : 66 Question Id : 162653270 Question Type : MCQ Option Shuffling : Yes Display Question Number : Yes
Single Line Question Option : No Option Orientation : Vertical

Correct Marks : 1 Wrong Marks : 0.25

Choose the sentence in Reported Speech.

“The kids are longing to meet their cousins”, the parents said.

Options :

1. ✖ The parents said that the kids are longing to meet their cousins.
2. ✖ The parents said that the kids longed to meet their cousins.
3. ✔ The parents said that the kids were longing to meet their cousins.
4. ✖ The parents said that the kids were longing to meeting their cousins.

Question Number : 67 Question Id : 162653271 Question Type : MCQ Option Shuffling : Yes Display Question Number : Yes
Single Line Question Option : No Option Orientation : Vertical

Correct Marks : 1 Wrong Marks : 0.25

Provide the appropriate question tag.

He must mend his ways, _____

Options :

1. ✖ won't he?
2. ✖ doesn't he?
3. ✔ mustn't he?
4. ✖ must he?

Question Number : 67 Question Id : 162653271 Question Type : MCQ Option Shuffling : Yes Display Question Number : Yes
Single Line Question Option : No Option Orientation : Vertical

Correct Marks : 1 Wrong Marks : 0.25

Provide the appropriate question tag.

He must mend his ways, _____

Options :

1. ✖ won't he?
2. ✖ doesn't he?
3. ✔ mustn't he?
4. ✖ must he?

Question Number : 68 Question Id : 162653272 Question Type : MCQ Option Shuffling : Yes Display Question Number : Yes
Single Line Question Option : No Option Orientation : Vertical

Correct Marks : 1 Wrong Marks : 0.25

Provide the appropriate synonym for the underlined word.

She would be taciturn whenever she met the teacher.

Options :

1. ✖ Terse
2. ✖ Tense
3. ✖ Confident
4. ✔ Unresponsive

Question Number : 68 Question Id : 162653272 Question Type : MCQ Option Shuffling : Yes Display Question Number : Yes
Single Line Question Option : No Option Orientation : Vertical

Correct Marks : 1 Wrong Marks : 0.25

Provide the appropriate synonym for the underlined word.

She would be taciturn whenever she met the teacher.

Options :

1. ✖ Terse
2. ✖ Tense
3. ✖ Confident
4. ✔ Unresponsive

Question Number : 69 Question Id : 162653273 Question Type : MCQ Option Shuffling : Yes Display Question Number : Yes
Single Line Question Option : No Option Orientation : Vertical

Correct Marks : 1 Wrong Marks : 0.25

Provide the appropriate synonym for the underlined word.

The doctor seemed eccentric.

Options :

1. ✖ Bullish
2. ✔ Abnormal
3. ✖ Dapper
4. ✖ Short-tempered

Question Number : 69 Question Id : 162653273 Question Type : MCQ Option Shuffling : Yes Display Question Number : Yes
Single Line Question Option : No Option Orientation : Vertical

Correct Marks : 1 Wrong Marks : 0.25

Provide the appropriate synonym for the underlined word.

The doctor seemed eccentric.

Options :

1. ✖ Bullish
2. ✔ Abnormal
3. ✖ Dapper

4. ✖ Short-tempered

Question Number : 70 Question Id : 162653274 Question Type : MCQ Option Shuffling : Yes Display Question Number : Yes
Single Line Question Option : No Option Orientation : Vertical

Correct Marks : 1 Wrong Marks : 0.25

Arrange the following sentences in a meaningful and grammatically correct order.

- A. Now it seems to be the smartphone.
- B. More and more children are becoming obese nowadays.
- C. They manage to snatch it from parents to pass their time.
- D. Some years back, the cause for obesity, according to researchers, was the television.
- E. Then it starts controlling these smartphone addicts.

Options :

- 1. ✖ BACDE
- 2. ✔ BDACE
- 3. ✖ ACDBE
- 4. ✖ CDABC

Question Number : 70 Question Id : 162653274 Question Type : MCQ Option Shuffling : Yes Display Question Number : Yes
Single Line Question Option : No Option Orientation : Vertical

Correct Marks : 1 Wrong Marks : 0.25

Arrange the following sentences in a meaningful and grammatically correct order.

- A. Now it seems to be the smartphone.
- B. More and more children are becoming obese nowadays.
- C. They manage to snatch it from parents to pass their time.
- D. Some years back, the cause for obesity, according to researchers, was the television.
- E. Then it starts controlling these smartphone addicts.

Options :

- 1. ✖ BACDE
- 2. ✔ BDACE
- 3. ✖ ACDBE
- 4. ✖ CDABC

Question Number : 71 Question Id : 162653275 Question Type : MCQ Option Shuffling : Yes Display Question Number : Yes
Single Line Question Option : No Option Orientation : Vertical

Correct Marks : 1 Wrong Marks : 0.25

Provide the appropriate ANTONYM for the underlined word.

My parents are contemplating immigration to Canada.

Options :

1. ✖ Discovering
2. ✖ Contaminating
3. ✖ Feeling
4. ✔ Rejecting

Question Number : 71 Question Id : 162653275 Question Type : MCQ Option Shuffling : Yes Display Question Number : Yes
Single Line Question Option : No Option Orientation : Vertical

Correct Marks : 1 Wrong Marks : 0.25

Provide the appropriate ANTONYM for the underlined word.

My parents are contemplating immigration to Canada.

Options :

1. ✖ Discovering
2. ✖ Contaminating
3. ✖ Feeling
4. ✔ Rejecting

Question Number : 72 Question Id : 162653276 Question Type : MCQ Option Shuffling : Yes Display Question Number : Yes
Single Line Question Option : No Option Orientation : Vertical

Correct Marks : 1 Wrong Marks : 0.25

Provide the appropriate ANTONYM for the underlined word.

He believes in transparent communication.

Options :

1. ✖ Doubtful
2. ✔ Opaque
3. ✖ Candid

4. ✖ Mystic

Question Number : 72 Question Id : 162653276 Question Type : MCQ Option Shuffling : Yes Display Question Number : Yes
Single Line Question Option : No Option Orientation : Vertical

Correct Marks : 1 Wrong Marks : 0.25

Provide the appropriate ANTONYM for the underlined word.

He believes in transparent communication.

Options :

1. ✖ Doubtful

2. ✔ Opaque

3. ✖ Candid

4. ✖ Mystic

Question Number : 73 Question Id : 162653277 Question Type : MCQ Option Shuffling : Yes Display Question Number : Yes
Single Line Question Option : No Option Orientation : Vertical

Correct Marks : 1 Wrong Marks : 0.25

Choose the correct preposition.

The loss due to the Kerala floods is _____ ₹ 19,000 crores.

Options :

1. ✔ around

2. ✖ beneath

3. ✖ underneath

4. ✖ across

Question Number : 73 Question Id : 162653277 Question Type : MCQ Option Shuffling : Yes Display Question Number : Yes
Single Line Question Option : No Option Orientation : Vertical

Correct Marks : 1 Wrong Marks : 0.25

Choose the correct preposition.

The loss due to the Kerala floods is _____ ₹ 19,000 crores.

Options :

1. ✔ around

2. ✖ beneath

3. ✖ underneath

4. ✖ across

Question Number : 74 Question Id : 162653278 Question Type : MCQ Option Shuffling : Yes Display Question Number : Yes
Single Line Question Option : No Option Orientation : Vertical

Correct Marks : 1 Wrong Marks : 0.25

Choose the correct preposition.

_____ China, America produces the maximum quantity of paper.

Options :

1. ✖ Beside

2. ✖ Belowed

3. ✔ Besides

4. ✖ Below

Question Number : 74 Question Id : 162653278 Question Type : MCQ Option Shuffling : Yes Display Question Number : Yes
Single Line Question Option : No Option Orientation : Vertical

Correct Marks : 1 Wrong Marks : 0.25

Choose the correct preposition.

_____ China, America produces the maximum quantity of paper.

Options :

1. ✖ Beside

2. ✖ Belowed

3. ✔ Besides

4. ✖ Below

Question Number : 75 Question Id : 162653279 Question Type : MCQ Option Shuffling : Yes Display Question Number : Yes
Single Line Question Option : No Option Orientation : Vertical

Correct Marks : 1 Wrong Marks : 0.25

Provide the appropriate conjunction.

He not only plays the piano _____ the violin.

Options :

1. ✖ and

2. ✖ but

3. ✖ despite

4. ✔ but also

Question Number : 75 Question Id : 162653279 Question Type : MCQ Option Shuffling : Yes Display Question Number : Yes
Single Line Question Option : No Option Orientation : Vertical

Correct Marks : 1 Wrong Marks : 0.25

Provide the appropriate conjunction.

He not only plays the piano _____ the violin.

Options :

1. ✖ and

2. ✖ but

3. ✖ despite

4. ✔ but also

Sub-Section Number:	2
Sub-Section Id:	16265320
Question Shuffling Allowed :	Yes

Question Id : 162653280 Question Type : COMPREHENSION Sub Question Shuffling Allowed : Yes Group Comprehension
Questions : No

Question Numbers : (76 to 80)

Question Label : Comprehension

Read the following passage and answer the questions that follow.

On the afternoon of her fortieth birthday, I called a friend to wish her well. I asked about her plans for the rest of the day and learned that a celebration had already taken place. In the morning, my friend, her two sisters and her husband had risen high into the Kentucky sky in a hot-air balloon. “What was it like?” I asked. “Well, I don’t know if I can explain it,” she said. “I was so focused on the moment, when it was actually happening.”

What I learned from my friend that morning is that sometimes, to be in the moment, you must surrender to it completely. That’s not to say you won’t remember it later, though you may forfeit the chance to put the moment into words. And although I couldn’t say exactly what my pal experienced that morning, I heard the thrill and awe in her voice.

To truly be present, one must live *inside* the moment and experience it for its own sake. If you live *outside* the moment — observing and explaining — you’re no longer absorbing and feeling. The moment breaks apart and eventually disappears. Think of a movie. Sometimes it’s impossible to explain what you’ve seen. On another level, though, one you can’t necessarily pinpoint, you know that once you begin dissecting your experience, you take away from it as well.

Sub questions

Question Number : 76 Question Id : 162653281 Question Type : MCQ Option Shuffling : Yes Display Question Number : Yes
Single Line Question Option : No Option Orientation : Vertical

Correct Marks : 1 Wrong Marks : 0.25

Why couldn’t the author’s friend explain about the experience on her birthday?

Options :

1. ✖ She was focused on flying.
2. ✔ She was focused in the moment.
3. ✖ She was in the hot-air balloon.
4. ✖ She was too busy focusing on her friends.

Question Number : 77 Question Id : 162653282 Question Type : MCQ Option Shuffling : Yes Display Question Number : Yes
Single Line Question Option : No Option Orientation : Vertical

Correct Marks : 1 Wrong Marks : 0.25

Forfeit means to _____.

Options :

1. ✖ group
2. ✖ pick up
3. ✖ gain
4. ✔ lose out

Question Number : 78 Question Id : 162653283 Question Type : MCQ Option Shuffling : Yes Display Question Number : Yes
Single Line Question Option : No Option Orientation : Vertical

Correct Marks : 1 Wrong Marks : 0.25

Which of the following statements is true according to the passage?

Options :

1. ✖ To truly be present, one must live outside the moment and experience it for others' sake.
2. ✖ To truly be present, one must live inside the moment and experience it for others' sake.
3. ✖ To truly be present, one must live inside the moment and experience it.
4. ✔ To truly be present, one must live inside the moment and experience it for his/her own sake.

Question Number : 79 Question Id : 162653284 Question Type : MCQ Option Shuffling : Yes Display Question Number : Yes
Single Line Question Option : No Option Orientation : Vertical

Correct Marks : 1 Wrong Marks : 0.25

In the case of a movie, sometimes it is _____ what you've seen.

Options :

1. ✔ impossible to explain
2. ✖ possible to explain
3. ✖ impossible to write
4. ✖ possible to replicate

Question Number : 80 Question Id : 162653285 Question Type : MCQ Option Shuffling : Yes Display Question Number : Yes
Single Line Question Option : No Option Orientation : Vertical

Correct Marks : 1 Wrong Marks : 0.25

The word 'dissect' means to _____.

Options :

1. ✖ section
2. ✔ analyze
3. ✖ function
4. ✖ find

Question Id : 162653280 Question Type : COMPREHENSION Sub Question Shuffling Allowed : Yes Group Comprehension Questions : No

Question Numbers : (76 to 80)

Question Label : Comprehension

Read the following passage and answer the questions that follow.

On the afternoon of her fortieth birthday, I called a friend to wish her well. I asked about her plans for the rest of the day and learned that a celebration had already taken place. In the morning, my friend, her two sisters and her husband had risen high into the Kentucky sky in a hot-air balloon. "What was it like?" I asked. "Well, I don't know if I can explain it," she said. "I was so focused on the moment, when it was actually happening."

What I learned from my friend that morning is that sometimes, to be in the moment, you must surrender to it completely. That's not to say you won't remember it later, though you may forfeit the chance to put the moment into words. And although I couldn't say exactly what my pal experienced that morning, I heard the thrill and awe in her voice.

To truly be present, one must live *inside* the moment and experience it for its own sake. If you live *outside* the moment — observing and explaining — you're no longer absorbing and feeling. The moment breaks apart and eventually disappears. Think of a movie. Sometimes it's impossible to explain what you've seen. On another level, though, one you can't necessarily pinpoint, you know that once you begin dissecting your experience, you take away from it as well.

Sub questions

Question Number : 76 Question Id : 162653281 Question Type : MCQ Option Shuffling : Yes Display Question Number : Yes
Single Line Question Option : No Option Orientation : Vertical

Correct Marks : 1 Wrong Marks : 0.25

Why couldn't the author's friend explain about the experience on her birthday?

Options :

1. ✖ She was focused on flying.
2. ✔ She was focused in the moment.
3. ✖ She was in the hot-air balloon.
4. ✖ She was too busy focusing on her friends.

Question Number : 77 Question Id : 162653282 Question Type : MCQ Option Shuffling : Yes Display Question Number : Yes
Single Line Question Option : No Option Orientation : Vertical

Correct Marks : 1 Wrong Marks : 0.25

Forfeit means to _____.

Options :

1. ✖ group
2. ✖ pick up
3. ✖ gain
4. ✔ lose out

Question Number : 78 Question Id : 162653283 Question Type : MCQ Option Shuffling : Yes Display Question Number : Yes
Single Line Question Option : No Option Orientation : Vertical

Correct Marks : 1 Wrong Marks : 0.25

Which of the following statements is true according to the passage?

Options :

1. ✖ To truly be present, one must live outside the moment and experience it for others' sake.
2. ✖ To truly be present, one must live inside the moment and experience it for others' sake.
3. ✖ To truly be present, one must live inside the moment and experience it.
4. ✔ To truly be present, one must live inside the moment and experience it for his/her own sake.

Question Number : 79 Question Id : 162653284 Question Type : MCQ Option Shuffling : Yes Display Question Number : Yes
Single Line Question Option : No Option Orientation : Vertical

Correct Marks : 1 Wrong Marks : 0.25

In the case of a movie, sometimes it is _____ what you've seen.

Options :

1. ☒ impossible to explain
2. ☐ possible to explain
3. ☐ impossible to write
4. ☐ possible to replicate

Question Number : 80 Question Id : 162653285 Question Type : MCQ Option Shuffling : Yes Display Question Number : Yes
Single Line Question Option : No Option Orientation : Vertical

Correct Marks : 1 Wrong Marks : 0.25

The word 'dissect' means to _____.

Options :

1. ☐ section
2. ☒ analyze
3. ☐ function
4. ☐ find

General Hindi

Group Number :	5
Group Id :	16265315
Group Maximum Duration :	0
Group Minimum Duration :	0
Revisit allowed for view? :	No
Revisit allowed for edit? :	No
Break time:	0
Group Marks:	20
Revisit allowed for group Instructions? :	Yes
Maximum Instruction Time:	0
Minimum Instruction Time:	0

Section Id :	16265315
Section Number :	1
Section type :	Online
Mandatory or Optional:	Mandatory
Number of Questions:	16
Number of Questions to be attempted:	16
Section Marks:	20
Display Number Panel:	Yes
Group All Questions:	No

Sub-Section Number:	1
Sub-Section Id:	16265321
Question Shuffling Allowed :	Yes

Question Id : 162653286 Question Type : COMPREHENSION Sub Question Shuffling Allowed : Yes Group Comprehension Questions : No

Question Numbers : (81 to 85)

Question Label : Comprehension

नीचे दिये गए गद्यांश को पढ़कर पूछे गये प्रश्नों के उत्तर दीजिए।

पं. हजारी प्रसाद द्विवेदी के निबंधों का पहला संकलन विचार और वितर्क 1945 में प्रकाशित हुआ और अशोक के फूल 1948 ई. में। द्विवेदी जी निबंधों की रचना स्वातंत्र्योत्तर भारत में भी करते रहे। किंतु लिखना उन्होंने छायावादी दौर में प्रारंभ किया। द्विवेदी जी के जैसे निबंध हिन्दी में पहले नहीं लिखे गए थे। उन्होंने निबंध विधा को अपने लेखन से सर्जनात्मक साहित्य की कोटि में परिगणनीय बना दिया। उनके निबंध मूलतः भारत के सांस्कृतिक इतिहास की पुनर्रचना करते हैं। अशोक के फूल उनका प्रतिनिधि निबंध कहा जा सकता है।

Sub questions

Question Number : 81 Question Id : 162653287 Question Type : MCQ Option Shuffling : Yes Display Question Number : Yes Single Line Question Option : No Option Orientation : Vertical

Correct Marks : 1 Wrong Marks : 0.25

हजारी प्रसाद द्विवेदी के निबंधों का पहला संकलन है:

Options :

1. ✖ कुटज
2. ✖ अशोक के फूल
3. ✖ तर्क और वितर्क

4. ✓ विचार और वितर्क

Question Number : 82 Question Id : 162653288 Question Type : MCQ Option Shuffling : Yes Display Question Number : Yes
Single Line Question Option : No Option Orientation : Vertical
Correct Marks : 1 Wrong Marks : 0.25

अशोक के फूल का प्रकाशन वर्ष है:

Options :

1. ✗ 1945 ई.

2. ✓ 1948 ई.

3. ✗ 1954 ई.

4. ✗ 1984 ई.

Question Number : 83 Question Id : 162653289 Question Type : MCQ Option Shuffling : Yes Display Question Number : Yes
Single Line Question Option : No Option Orientation : Vertical
Correct Marks : 1 Wrong Marks : 0.25

द्विवेदी जी के जैसे निबंध हिन्दी में पहले:

Options :

1. ✗ कम लिखे गये थे।

2. ✗ कभी-कभी लिखे गये थे।

3. ✓ नहीं लिखे गये थे।

4. ✗ खूब लिखे गये थे।

Question Number : 84 Question Id : 162653290 Question Type : MCQ Option Shuffling : Yes Display Question Number : Yes
Single Line Question Option : No Option Orientation : Vertical
Correct Marks : 1 Wrong Marks : 0.25

द्विवेदी जी के निबंध भारत के किस इतिहास की
पुनर्रचना करते हैं?

Options :

1. ✓ सांस्कृतिक

2. ✗ धार्मिक

3. ✖ राजनीतिक

4. ✖ आर्थिक

Question Number : 85 Question Id : 162653291 Question Type : MCQ Option Shuffling : Yes Display Question Number : Yes
Single Line Question Option : No Option Orientation : Vertical

Correct Marks : 1 Wrong Marks : 0.25

द्विवेदी जी का प्रतिनिधि निबंध किसे कहा जा सकता है?

Options :

1. ✖ विचार और वितर्क

2. ✔ अशोक के फूल

3. ✖ कुटज

4. ✖ भारतीय संस्कृति की देन

Question Id : 162653286 Question Type : COMPREHENSION Sub Question Shuffling Allowed : Yes Group Comprehension Questions : No

Question Numbers : (81 to 85)

Question Label : Comprehension

नीचे दिये गए गद्यांश को पढ़कर पूछे गये प्रश्नों के उत्तर दीजिए।

पं. हजारी प्रसाद द्विवेदी के निबंधों का पहला संकलन विचार और वितर्क 1945 में प्रकाशित हुआ और अशोक के फूल 1948 ई. में। द्विवेदी जी निबंधों की रचना स्वातंत्र्योत्तर भारत में भी करते रहे। किंतु लिखना उन्होंने छायावादी दौर में प्रारंभ किया। द्विवेदी जी के जैसे निबंध हिन्दी में पहले नहीं लिखे गए थे। उन्होंने निबंध विधा को अपने लेखन से सर्जनात्मक साहित्य की कोटि में परिगणनीय बना दिया। उनके निबंध मूलतः भारत के सांस्कृतिक इतिहास की पुनर्रचना करते हैं। अशोक के फूल उनका प्रतिनिधि निबंध कहा जा सकता है।

Sub questions

Question Number : 81 Question Id : 162653287 Question Type : MCQ Option Shuffling : Yes Display Question Number : Yes
Single Line Question Option : No Option Orientation : Vertical

Correct Marks : 1 Wrong Marks : 0.25

हजारी प्रसाद द्विवेदी के निबंधों का पहला संकलन है:

Options :

1. ✖ कुटज
2. ✖ अशोक के फूल
3. ✖ तर्क और वितर्क
4. ✔ विचार और वितर्क

Question Number : 82 Question Id : 162653288 Question Type : MCQ Option Shuffling : Yes Display Question Number : Yes
Single Line Question Option : No Option Orientation : Vertical

Correct Marks : 1 Wrong Marks : 0.25

अशोक के फूल का प्रकाशन वर्ष है:

Options :

1. ✖ 1945 ई.
2. ✔ 1948 ई.
3. ✖ 1954 ई.
4. ✖ 1984 ई.

Question Number : 83 Question Id : 162653289 Question Type : MCQ Option Shuffling : Yes Display Question Number : Yes
Single Line Question Option : No Option Orientation : Vertical

Correct Marks : 1 Wrong Marks : 0.25

द्विवेदी जी के जैसे निबंध हिन्दी में पहले:

Options :

1. ✖ कम लिखे गये थे।
2. ✖ कभी-कभी लिखे गये थे।
3. ✔ नहीं लिखे गये थे।
4. ✖ खूब लिखे गये थे।

Question Number : 84 Question Id : 162653290 Question Type : MCQ Option Shuffling : Yes Display Question Number : Yes
Single Line Question Option : No Option Orientation : Vertical

Correct Marks : 1 Wrong Marks : 0.25

द्विवेदी जी के निबंध भारत के किस इतिहास की
पुनर्रचना करते हैं?

Options :

1. ✓ सांस्कृतिक
2. ✗ धार्मिक
3. ✗ राजनीतिक
4. ✗ आर्थिक

Question Number : 85 Question Id : 162653291 Question Type : MCQ Option Shuffling : Yes Display Question Number : Yes
Single Line Question Option : No Option Orientation : Vertical

Correct Marks : 1 Wrong Marks : 0.25

द्विवेदी जी का प्रतिनिधि निबंध किसे कहा जा
सकता है?

Options :

1. ✗ विचार और वितर्क
2. ✓ अशोक के फूल
3. ✗ कुटज
4. ✗ भारतीय संस्कृति की देन

Sub-Section Number:	2
Sub-Section Id:	16265322
Question Shuffling Allowed :	Yes

Question Number : 86 Question Id : 162653292 Question Type : MCQ Option Shuffling : Yes Display Question Number : Yes
Single Line Question Option : No Option Orientation : Vertical

Correct Marks : 1 Wrong Marks : 0.25

निम्नलिखित में से कौन सा शब्द तत्सम है?

Options :

1. ✗ धान

2. ✖ धनिया

3. ✔ दूर्वा

4. ✖ दोहरा

Question Number : 86 Question Id : 162653292 Question Type : MCQ Option Shuffling : Yes Display Question Number : Yes
Single Line Question Option : No Option Orientation : Vertical

Correct Marks : 1 Wrong Marks : 0.25

निम्नलिखित में से कौन सा शब्द तत्सम है?

Options :

1. ✖ धान

2. ✖ धनिया

3. ✔ दूर्वा

4. ✖ दोहरा

Question Number : 87 Question Id : 162653293 Question Type : MCQ Option Shuffling : Yes Display Question Number : Yes
Single Line Question Option : No Option Orientation : Vertical

Correct Marks : 1 Wrong Marks : 0.25

निम्नलिखित में से कौन सा शब्द तद्भव है?

Options :

1. ✔ जीभ

2. ✖ ज्ञान

3. ✖ जंघा

4. ✖ यत्र

Question Number : 87 Question Id : 162653293 Question Type : MCQ Option Shuffling : Yes Display Question Number : Yes
Single Line Question Option : No Option Orientation : Vertical

Correct Marks : 1 Wrong Marks : 0.25

निम्नलिखित में से कौन सा शब्द तद्भव है?

Options :

1. ✔ जीभ

2. ✖ ज्ञान

3. ✖ जंघा

4. ✖ यत्र

Question Number : 88 Question Id : 162653294 Question Type : MCQ Option Shuffling : Yes Display Question Number : Yes
Single Line Question Option : No Option Orientation : Vertical

Correct Marks : 1 Wrong Marks : 0.25

निम्नलिखित में से कौन सा शब्द देशज है?

Options :

1. ✖ आवारा

2. ✖ असर

3. ✖ कम्पनी

4. ✔ खिड़की

Question Number : 88 Question Id : 162653294 Question Type : MCQ Option Shuffling : Yes Display Question Number : Yes
Single Line Question Option : No Option Orientation : Vertical

Correct Marks : 1 Wrong Marks : 0.25

निम्नलिखित में से कौन सा शब्द देशज है?

Options :

1. ✖ आवारा

2. ✖ असर

3. ✖ कम्पनी

4. ✔ खिड़की

Question Number : 89 Question Id : 162653295 Question Type : MCQ Option Shuffling : Yes Display Question Number : Yes
Single Line Question Option : No Option Orientation : Vertical

Correct Marks : 1 Wrong Marks : 0.25

‘दरिद्रता’ किस प्रकार की संज्ञा है?

Options :

1. ✖ पदार्थवाचक

2. ✔ भाववाचक

3. ✖ जातिवाचक

4. ✖ व्यक्तिवाचक

Question Number : 89 Question Id : 162653295 Question Type : MCQ Option Shuffling : Yes Display Question Number : Yes
Single Line Question Option : No Option Orientation : Vertical

Correct Marks : 1 Wrong Marks : 0.25

‘दरिद्रता’ किस प्रकार की संज्ञा है?

Options :

1. ✖ पदार्थवाचक

2. ✔ भाववाचक

3. ✖ जातिवाचक

4. ✖ व्यक्तिवाचक

Question Number : 90 Question Id : 162653296 Question Type : MCQ Option Shuffling : Yes Display Question Number : Yes
Single Line Question Option : No Option Orientation : Vertical

Correct Marks : 1 Wrong Marks : 0.25

‘लंबा’ किस प्रकार का विशेषण है?

Options :

1. ✖ सार्वनामिक

2. ✖ संख्यावाचक

3. ✔ गुणवाचक

4. ✖ परिमाण बोधक

Question Number : 90 Question Id : 162653296 Question Type : MCQ Option Shuffling : Yes Display Question Number : Yes
Single Line Question Option : No Option Orientation : Vertical

Correct Marks : 1 Wrong Marks : 0.25

‘लंबा’ किस प्रकार का विशेषण है?

Options :

1. ✖ सार्वनामिक

2. ✖ संख्यावाचक

3. ✓ गुणवाचक

4. ✗ परिमाण बोधक

Question Number : 91 Question Id : 162653297 Question Type : MCQ Option Shuffling : Yes Display Question Number : Yes
Single Line Question Option : No Option Orientation : Vertical
Correct Marks : 1 Wrong Marks : 0.25

‘उन्नायक’ का संधि विच्छेद होगा:

Options :

1. ✗ उन् + नयक

2. ✗ उन् + नायक

3. ✗ उत् + नयक

4. ✓ उत् + नायक

Question Number : 91 Question Id : 162653297 Question Type : MCQ Option Shuffling : Yes Display Question Number : Yes
Single Line Question Option : No Option Orientation : Vertical
Correct Marks : 1 Wrong Marks : 0.25

‘उन्नायक’ का संधि विच्छेद होगा:

Options :

1. ✗ उन् + नयक

2. ✗ उन् + नायक

3. ✗ उत् + नयक

4. ✓ उत् + नायक

Question Number : 92 Question Id : 162653298 Question Type : MCQ Option Shuffling : Yes Display Question Number : Yes
Single Line Question Option : No Option Orientation : Vertical
Correct Marks : 1 Wrong Marks : 0.25

‘यथार्थ’ में कौन सा समास है?

Options :

1. ✓ अव्ययीभाव

2. ✗ तत्पुरुष

3. ✖ दवंदव

4. ✖ दविगु

Question Number : 92 Question Id : 162653298 Question Type : MCQ Option Shuffling : Yes Display Question Number : Yes
Single Line Question Option : No Option Orientation : Vertical

Correct Marks : 1 Wrong Marks : 0.25

‘यथार्थ’ में कौन सा समास है?

Options :

1. ✔ अव्ययीभाव

2. ✖ तत्पुरुष

3. ✖ दवंदव

4. ✖ दविगु

Question Number : 93 Question Id : 162653299 Question Type : MCQ Option Shuffling : Yes Display Question Number : Yes
Single Line Question Option : No Option Orientation : Vertical

Correct Marks : 1 Wrong Marks : 0.25

निम्नलिखित में से कौन सा शब्द स्त्रीलिंग है?

Options :

1. ✖ संकट

2. ✔ सम्पदा

3. ✖ संकलन

4. ✖ संकेत

Question Number : 93 Question Id : 162653299 Question Type : MCQ Option Shuffling : Yes Display Question Number : Yes
Single Line Question Option : No Option Orientation : Vertical

Correct Marks : 1 Wrong Marks : 0.25

निम्नलिखित में से कौन सा शब्द स्त्रीलिंग है?

Options :

1. ✖ संकट

2. ✔ सम्पदा

3. ✖ संकलन

4. ✖ संकेत

Question Number : 94 Question Id : 162653300 Question Type : MCQ Option Shuffling : Yes Display Question Number : Yes
Single Line Question Option : No Option Orientation : Vertical
Correct Marks : 1 Wrong Marks : 0.25

‘संरक्षण’ में उपसर्ग है:

Options :

1. ✖ स

2. ✖ सन्

3. ✔ सम्

4. ✖ क्षण

Question Number : 94 Question Id : 162653300 Question Type : MCQ Option Shuffling : Yes Display Question Number : Yes
Single Line Question Option : No Option Orientation : Vertical
Correct Marks : 1 Wrong Marks : 0.25

‘संरक्षण’ में उपसर्ग है:

Options :

1. ✖ स

2. ✖ सन्

3. ✔ सम्

4. ✖ क्षण

Question Number : 95 Question Id : 162653301 Question Type : MCQ Option Shuffling : Yes Display Question Number : Yes
Single Line Question Option : No Option Orientation : Vertical
Correct Marks : 1 Wrong Marks : 0.25

‘तन्द्रिल’ में प्रत्यय है:

Options :

1. ✖ त

2. ✖ ल

3. ✖ दिल

4. ✓ इल

Question Number : 95 Question Id : 162653301 Question Type : MCQ Option Shuffling : Yes Display Question Number : Yes
Single Line Question Option : No Option Orientation : Vertical

Correct Marks : 1 Wrong Marks : 0.25

‘तन्द्रिल’ में प्रत्यय है:

Options :

1. ✗ त

2. ✗ ल

3. ✗ दिल

4. ✓ इल

Question Number : 96 Question Id : 162653302 Question Type : MCQ Option Shuffling : Yes Display Question Number : Yes
Single Line Question Option : No Option Orientation : Vertical

Correct Marks : 1 Wrong Marks : 0.25

निम्नलिखित में से कौन सा शब्द ‘गेह’ का पर्यायवाची नहीं है?

Options :

1. ✓ नलिन

2. ✗ निकेतन

3. ✗ निलय

4. ✗ आगार

Question Number : 96 Question Id : 162653302 Question Type : MCQ Option Shuffling : Yes Display Question Number : Yes
Single Line Question Option : No Option Orientation : Vertical

Correct Marks : 1 Wrong Marks : 0.25

निम्नलिखित में से कौन सा शब्द ‘गेह’ का पर्यायवाची नहीं है?

Options :

1. ✓ नलिन

2. ✗ निकेतन

3. ✗ निलय

4. ✗ आगार

Question Number : 97 Question Id : 162653303 Question Type : MCQ Option Shuffling : Yes Display Question Number : Yes
Single Line Question Option : No Option Orientation : Vertical

Correct Marks : 1 Wrong Marks : 0.25

‘आमिष’ का विलोम होगा:

Options :

1. ✖ मिष
2. ✖ सामिष
3. ✖ निमिष
4. ✔ निरामिष

Question Number : 97 Question Id : 162653303 Question Type : MCQ Option Shuffling : Yes Display Question Number : Yes
Single Line Question Option : No Option Orientation : Vertical

Correct Marks : 1 Wrong Marks : 0.25

‘आमिष’ का विलोम होगा:

Options :

1. ✖ मिष
2. ✖ सामिष
3. ✖ निमिष
4. ✔ निरामिष

Question Number : 98 Question Id : 162653304 Question Type : MCQ Option Shuffling : Yes Display Question Number : Yes
Single Line Question Option : No Option Orientation : Vertical

Correct Marks : 1 Wrong Marks : 0.25

‘जिसकी गहराई का पता न लग सके’ के लिए एक शब्द होगा:

Options :

1. ✖ गाध
2. ✔ अगाध
3. ✖ गहवर
4. ✖ पाताल

Question Number : 98 Question Id : 162653304 Question Type : MCQ Option Shuffling : Yes Display Question Number : Yes
Single Line Question Option : No Option Orientation : Vertical

Correct Marks : 1 Wrong Marks : 0.25

‘जिसकी गहराई का पता न लग सके’ के लिए एक शब्द होगा:

Options :

1. ✖ गाध
2. ✔ अगाध
3. ✖ गहवर
4. ✖ पाताल

Question Number : 99 Question Id : 162653305 Question Type : MCQ Option Shuffling : Yes Display Question Number : Yes
Single Line Question Option : No Option Orientation : Vertical

Correct Marks : 1 Wrong Marks : 0.25

निम्नलिखित में शुद्ध वाक्य कौन सा है?

Options :

1. ✖ आपका गुप्त रहस्य कौन जान सकता है।
2. ✖ यह नहीं वांछनीय है।
3. ✔ उसकी समझ में कुछ न आया।
4. ✖ आपका पत्र धन्यवाद सहित प्राप्त हुआ।

Question Number : 99 Question Id : 162653305 Question Type : MCQ Option Shuffling : Yes Display Question Number : Yes
Single Line Question Option : No Option Orientation : Vertical

Correct Marks : 1 Wrong Marks : 0.25

निम्नलिखित में शुद्ध वाक्य कौन सा है?

Options :

1. ✖ आपका गुप्त रहस्य कौन जान सकता है।
2. ✖ यह नहीं वांछनीय है।
3. ✔ उसकी समझ में कुछ न आया।
4. ✖ आपका पत्र धन्यवाद सहित प्राप्त हुआ।

Question Number : 100 Question Id : 162653306 Question Type : MCQ Option Shuffling : Yes Display Question Number : Yes
Single Line Question Option : No Option Orientation : Vertical
Correct Marks : 1 Wrong Marks : 0.25

निम्नलिखित में वर्तनी की दृष्टि से शुद्ध शब्द कौन सा है?

Options :

1. ✓ प्रतीक्षा
2. ✗ प्रतिक्षा
3. ✗ प्रतिच्छा
4. ✗ प्रतीच्छा

Question Number : 100 Question Id : 162653306 Question Type : MCQ Option Shuffling : Yes Display Question Number : Yes
Single Line Question Option : No Option Orientation : Vertical
Correct Marks : 1 Wrong Marks : 0.25

निम्नलिखित में वर्तनी की दृष्टि से शुद्ध शब्द कौन सा है?

Options :

1. ✓ प्रतीक्षा
2. ✗ प्रतिक्षा
3. ✗ प्रतिच्छा
4. ✗ प्रतीच्छा

Subject Related

Group Number :	6
Group Id :	16265316
Group Maximum Duration :	0
Group Minimum Duration :	0
Revisit allowed for view? :	No
Revisit allowed for edit? :	No
Break time:	0
Group Marks:	20
Revisit allowed for group Instructions? :	Yes
Maximum Instruction Time:	0
Minimum Instruction Time:	0

Subject Related

Section Id :	16265316
Section Number :	1
Section type :	Online
Mandatory or Optional:	Mandatory
Number of Questions:	20
Number of Questions to be attempted:	20
Section Marks:	20
Display Number Panel:	Yes
Group All Questions:	No

Sub-Section Number:	1
Sub-Section Id:	16265323
Question Shuffling Allowed :	Yes

Question Number : 101 Question Id : 162653307 Question Type : MCQ Option Shuffling : Yes Display Question Number : Yes
Single Line Question Option : No Option Orientation : Vertical

Correct Marks : 1 Wrong Marks : 0.25

Cognitive development is a process which occurs due to biological maturation and interaction with the environment.
This was put forth by:

Options :

1. ✓ Jean Piaget
2. ✗ Vygotsky
3. ✗ BF Skinner
4. ✗ Ivan Pavlov

Question Number : 101 Question Id : 162653307 Question Type : MCQ Option Shuffling : Yes Display Question Number : Yes
Single Line Question Option : No Option Orientation : Vertical

Correct Marks : 1 Wrong Marks : 0.25

संज्ञानात्मक विकास एक प्रक्रिया है जो जैविक परिपक्वता और पर्यावरण के साथ साक्षात्कार से होती है। यह सिद्धांत
किसने प्रतिपादित किया था?

Options :

1. ✓ जीन पियाजे
2. ✗ व्यगोस्की
3. ✗ बी.एफ. स्किनर
4. ✗ इवान पावलोव

Question Number : 102 Question Id : 162653308 Question Type : MCQ Option Shuffling : Yes Display Question Number : Yes
Single Line Question Option : No Option Orientation : Vertical

Correct Marks : 1 Wrong Marks : 0.25

One of the objectives of pre-primary learning is:

Options :

1. ✖ Rote learning
2. ✔ Learning through play
3. ✖ Learning in a closed room
4. ✖ Learning at home

Question Number : 102 Question Id : 162653308 Question Type : MCQ Option Shuffling : Yes Display Question Number : Yes
Single Line Question Option : No Option Orientation : Vertical

Correct Marks : 1 Wrong Marks : 0.25

पूर्व-प्राथमिक शिक्षा के उद्देश्यों में से एक क्या है?

Options :

1. ✖ रटना
2. ✔ खेल के माध्यम से सीखना
3. ✖ बंद कमरे में सीखना
4. ✖ घर में सीखना

Question Number : 103 Question Id : 162653309 Question Type : MCQ Option Shuffling : Yes Display Question Number : Yes
Single Line Question Option : No Option Orientation : Vertical

Correct Marks : 1 Wrong Marks : 0.25

Education according to the Indian system is:

Options :

1. ✖ A means to earning a living
2. ✔ Training of human soul in pursuit of truth
3. ✖ Acquiring knowledge
4. ✖ A school for citizenship

Question Number : 103 Question Id : 162653309 Question Type : MCQ Option Shuffling : Yes Display Question Number : Yes
Single Line Question Option : No Option Orientation : Vertical

Correct Marks : 1 Wrong Marks : 0.25

भारतीय प्रणाली के अनुसार शिक्षा क्या है?

Options :

1. ✖ जीविका अर्जन करने का साधन
2. ✔ सत्य की खोज में मानवीय आत्मा का प्रशिक्षण
3. ✖ ज्ञानार्जन
4. ✖ नागरिकता की पाठशाला

Question Number : 104 Question Id : 162653310 Question Type : MCQ Option Shuffling : Yes Display Question Number : Yes
Single Line Question Option : No Option Orientation : Vertical

Correct Marks : 1 Wrong Marks : 0.25

Cognition does NOT mean:

Options :

1. ✖ Making sense of self and the world
2. ✔ Storage and retrieval of information
3. ✖ Meaningful learning
4. ✖ Thinking and doing

Question Number : 104 Question Id : 162653310 Question Type : MCQ Option Shuffling : Yes Display Question Number : Yes
Single Line Question Option : No Option Orientation : Vertical

Correct Marks : 1 Wrong Marks : 0.25

ज्ञान का मतलब क्या नहीं है?

Options :

1. ✖ स्वयं और दुनिया की भावना बनाना
2. ✔ जानकारी का संग्रहण और पुनःप्राप्ति
3. ✖ अर्थपूर्ण शिक्षा
4. ✖ सोचना और करना

Question Number : 105 Question Id : 162653311 Question Type : MCQ Option Shuffling : Yes Display Question Number : Yes
Single Line Question Option : No Option Orientation : Vertical

Correct Marks : 1 Wrong Marks : 0.25

The current concern of the National Curriculum Framework in curriculum development and reform is:

Options :

1. ☒ Making curriculum inclusive and meaningful to children
2. ☐ Making children thorough with the textbook
3. ☐ Teacher-centred learning
4. ☐ Focus on socialisation of children

Question Number : 105 Question Id : 162653311 Question Type : MCQ Option Shuffling : Yes Display Question Number : Yes
Single Line Question Option : No Option Orientation : Vertical

Correct Marks : 1 Wrong Marks : 0.25

पाठ्यक्रम विकास और सुधार में राष्ट्रीय पाठ्यक्रम फ्रेमवर्क की वर्तमान चिंता क्या है?

Options :

1. ☒ बच्चों के लिए पाठ्यक्रम समावेशी और सार्थक बनाना
2. ☐ बच्चों को पाठ्यपुस्तक के साथ पूरी तरह से सुनिश्चित करना
3. ☐ शिक्षक केंद्रित शिक्षा
4. ☐ बच्चों के सामाजिककरण पर ध्यान केंद्रित करना

Question Number : 106 Question Id : 162653312 Question Type : MCQ Option Shuffling : Yes Display Question Number : Yes
Single Line Question Option : No Option Orientation : Vertical

Correct Marks : 1 Wrong Marks : 0.25

Learner-centred learning allows students to become:

Options :

1. ☒ Creators of knowledge
2. ☐ Passive learners
3. ☐ Dependent on teachers
4. ☐ Non-responsive to learning

Question Number : 106 Question Id : 162653312 Question Type : MCQ Option Shuffling : Yes Display Question Number : Yes
Single Line Question Option : No Option Orientation : Vertical

Correct Marks : 1 Wrong Marks : 0.25

विद्यार्थी केंद्रित शिक्षा छात्रों को क्या बनने की अनुमति देता है?

Options :

1. ✓ ज्ञान का निर्माता
2. ✗ निष्क्रिय शिक्षार्थी
3. ✗ शिक्षकों पर आश्रित
4. ✗ सीखने के प्रति गैर प्रतिक्रियाशील

Question Number : 107 Question Id : 162653313 Question Type : MCQ Option Shuffling : Yes Display Question Number : Yes
Single Line Question Option : No Option Orientation : Vertical

Correct Marks : 1 Wrong Marks : 0.25

According to Jean Piaget, an infant or a young child's mind is:

Options :

1. ✗ tabula rasa or a blank slate
2. ✓ capable of conceptual learning
3. ✗ passive and unknowing
4. ✗ not competent

Question Number : 107 Question Id : 162653313 Question Type : MCQ Option Shuffling : Yes Display Question Number : Yes
Single Line Question Option : No Option Orientation : Vertical

Correct Marks : 1 Wrong Marks : 0.25

जीन पियाजे के अनुसार एक शिशु या छोटे बच्चे का दिमाग क्या है?

Options :

1. ✗ तबुला रसा या एक ब्लैंक स्लेट
2. ✓ वैचारिक शिक्षा में सक्षम
3. ✗ निष्क्रिय और अनजान
4. ✗ सक्षम नहीं

Question Number : 108 Question Id : 162653314 Question Type : MCQ Option Shuffling : Yes Display Question Number : Yes
Single Line Question Option : No Option Orientation : Vertical

Correct Marks : 1 Wrong Marks : 0.25

What are the three major domains of human development?

Options :

1. ☒ physical, cognitive and psychosocial
2. ☐ physical, emotional and spiritual
3. ☐ cognitive, emotional and social
4. ☐ cognitive, spiritual and emotional

Question Number : 108 Question Id : 162653314 Question Type : MCQ Option Shuffling : Yes Display Question Number : Yes
Single Line Question Option : No Option Orientation : Vertical

Correct Marks : 1 Wrong Marks : 0.25

मानव विकास के तीन प्रमुख प्रक्षेत्र (डोमेन) क्या हैं?

Options :

1. ☒ शारीरिक, संज्ञानात्मक और मनोवैज्ञानिक
2. ☐ शारीरिक, भावनात्मक और आध्यात्मिक
3. ☐ संज्ञानात्मक, भावनात्मक और सामाजिक
4. ☐ संज्ञानात्मक, आध्यात्मिक और भावनात्मक

Question Number : 109 Question Id : 162653315 Question Type : MCQ Option Shuffling : Yes Display Question Number : Yes
Single Line Question Option : No Option Orientation : Vertical

Correct Marks : 1 Wrong Marks : 0.25

Which of the following is correct for effective learning to happen?

Options :

1. ☐ In a teacher-centred class
2. ☒ When student is ready to learn
3. ☐ Learning is independent to student readiness
4. ☐ Classroom environment has no impact on student learning

Question Number : 109 Question Id : 162653315 Question Type : MCQ Option Shuffling : Yes Display Question Number : Yes
Single Line Question Option : No Option Orientation : Vertical

Correct Marks : 1 Wrong Marks : 0.25

प्रभावी शिक्षा के लिए निम्नलिखित में से कौन सा सही है?

Options :

1. ✖ एक शिक्षक-केंद्रित कक्षा में
2. ✔ जब छात्र सीखने के लिए तैयार हों
3. ✖ शिक्षण छात्र उत्सुकता से स्वतंत्र
4. ✖ कक्षा के वातावरण का छात्र शिक्षा पर कोई प्रभाव नहीं

Question Number : 110 Question Id : 162653316 Question Type : MCQ Option Shuffling : Yes Display Question Number : Yes
Single Line Question Option : No Option Orientation : Vertical

Correct Marks : 1 Wrong Marks : 0.25

The constructivist approach has been strongly influenced by:

Options :

1. ✔ Piaget
2. ✖ Vygotsky
3. ✖ Thorndike
4. ✖ Skinner

Question Number : 110 Question Id : 162653316 Question Type : MCQ Option Shuffling : Yes Display Question Number : Yes
Single Line Question Option : No Option Orientation : Vertical

Correct Marks : 1 Wrong Marks : 0.25

रचनात्मक दृष्टिकोण को किसने प्रबलता से प्रभावित किया है?

Options :

1. ✔ पियाजे
2. ✖ व्यगोस्की
3. ✖ थॉर्नडाइक
4. ✖ स्किनर

Question Number : 111 Question Id : 162653317 Question Type : MCQ Option Shuffling : Yes Display Question Number : Yes
Single Line Question Option : No Option Orientation : Vertical

Correct Marks : 1 Wrong Marks : 0.25

Choose the correct option.

“pacing of instructions is important in student learning.”

Options :

1. ☒ Students are prevented from making mistakes.
2. ☐ Only weak students can be helped.
3. ☐ Teacher can complete the topic.
4. ☐ It motivates few students to learn.

Question Number : 111 Question Id : 162653317 Question Type : MCQ Option Shuffling : Yes Display Question Number : Yes
Single Line Question Option : No Option Orientation : Vertical

Correct Marks : 1 Wrong Marks : 0.25

सही विकल्प चुनें।

“छात्र शिक्षण में निर्देशों का पदानियमन महत्वपूर्ण है।”

Options :

1. ☒ छात्रों को गलती करने से रोका जाता है।
2. ☐ केवल कमजोर छात्रों की मदद की जा सकती है।
3. ☐ शिक्षक विषय को पूरा कर सकते हैं।
4. ☐ कुछ छात्रों को सीखने के लिए प्रेरित करता है।

Question Number : 112 Question Id : 162653318 Question Type : MCQ Option Shuffling : Yes Display Question Number : Yes
Single Line Question Option : No Option Orientation : Vertical

Correct Marks : 1 Wrong Marks : 0.25

Which of the following is Intrinsic motivation?

Options :

1. ☐ Teacher gives awards/rewards to strength learning.
2. ☒ Students learn for personal satisfaction.
3. ☐ It means positive reinforcement.

4. ✖ It means negative reinforcement.

Question Number : 112 Question Id : 162653318 Question Type : MCQ Option Shuffling : Yes Display Question Number : Yes
Single Line Question Option : No Option Orientation : Vertical
Correct Marks : 1 Wrong Marks : 0.25

आंतरिक प्रेरणा क्या है?

Options :

1. ✖ शिक्षक शिक्षण को सशक्त बनाने के लिए पुरस्कार देता है।

2. ✔ छात्र व्यक्तिगत संतुष्टि के लिए सीखते हैं।

3. ✖ इसका मतलब सकारात्मक सुदृढीकरण है।

4. ✖ इसका मतलब नकारात्मक सुदृढीकरण है।

Question Number : 113 Question Id : 162653319 Question Type : MCQ Option Shuffling : Yes Display Question Number : Yes
Single Line Question Option : No Option Orientation : Vertical
Correct Marks : 1 Wrong Marks : 0.25

“Students individually perform an experiment and then come together as a class to discuss the results”
— this is an example of:

Options :

1. ✔ constructivist approach

2. ✖ cognitive learning approach

3. ✖ behaviourist approach

4. ✖ teacher-directed approach

Question Number : 113 Question Id : 162653319 Question Type : MCQ Option Shuffling : Yes Display Question Number : Yes
Single Line Question Option : No Option Orientation : Vertical
Correct Marks : 1 Wrong Marks : 0.25

“छात्र व्यक्तिगत रूप से प्रयोग करते हैं और फिर परिणामों पर चर्चा करने के लिए एक कक्षा के रूप में एक साथ आते हैं” – यह किसका एक उदाहरण है?

Options :

1. ✔ रचनात्मक दृष्टिकोण

2. ✖ संज्ञानात्मक शिक्षण दृष्टिकोण

3. ✖ व्यवहारवादी दृष्टिकोण

4. ✖ शिक्षक-निर्देशित दृष्टिकोण

Question Number : 114 Question Id : 162653320 Question Type : MCQ Option Shuffling : Yes Display Question Number : Yes
Single Line Question Option : No Option Orientation : Vertical

Correct Marks : 1 Wrong Marks : 0.25

Very often, teachers insist that students should give the answers from the textbook. This implies:

Options :

1. ✔ Teachers are rigid.

2. ✖ Students cannot think.

3. ✖ Students give answers away from the textbook.

4. ✖ Students' time is getting wasted.

Question Number : 114 Question Id : 162653320 Question Type : MCQ Option Shuffling : Yes Display Question Number : Yes
Single Line Question Option : No Option Orientation : Vertical

Correct Marks : 1 Wrong Marks : 0.25

अक्सर शिक्षक जोर देते हैं कि छात्रों को पाठ्यपुस्तक से जवाब देना चाहिए। इसका क्या अभिप्राय है?

Options :

1. ✔ शिक्षक कठोर हैं।

2. ✖ छात्र नहीं सोच सकते हैं।

3. ✖ छात्र पाठ्यपुस्तक से परे जवाब देते हैं।

4. ✖ छात्रों का समय बर्बाद हो रहा है।

Question Number : 115 Question Id : 162653321 Question Type : MCQ Option Shuffling : Yes Display Question Number : Yes
Single Line Question Option : No Option Orientation : Vertical

Correct Marks : 1 Wrong Marks : 0.25

In a diverse classroom, teachers can stunt learning by:

Options :

1. ✖ practicing equality

2. ✔ discriminating children

3. ✖ making students engage in dialogue with teacher and peers

4. ✖ sharing their experiences

Question Number : 115 Question Id : 162653321 Question Type : MCQ Option Shuffling : Yes Display Question Number : Yes
Single Line Question Option : No Option Orientation : Vertical

Correct Marks : 1 Wrong Marks : 0.25

किसी असमान कक्षा में शिक्षक किसके द्वारा स्टंट शिक्षण कर सकता है?

Options :

1. ✖ समानता का अभ्यास

2. ✔ बच्चों में भेदभाव

3. ✖ छात्रों को शिक्षक और साथियों के साथ बातचीत में व्यस्त रखने

4. ✖ अपने अनुभव साझा करने

Question Number : 116 Question Id : 162653322 Question Type : MCQ Option Shuffling : Yes Display Question Number : Yes
Single Line Question Option : No Option Orientation : Vertical

Correct Marks : 1 Wrong Marks : 0.25

Teacher X treats both boys and girls as learners enhancing the potential of all students. The teacher is practicing:

Options :

1. ✖ Gender bias

2. ✖ Global trends

3. ✔ Gender equality

4. ✖ Progressive thinking

Question Number : 116 Question Id : 162653322 Question Type : MCQ Option Shuffling : Yes Display Question Number : Yes
Single Line Question Option : No Option Orientation : Vertical

Correct Marks : 1 Wrong Marks : 0.25

शिक्षक X लड़कों और लड़कियों को शिक्षार्थियों के रूप में सभी छात्रों की क्षमता में वृद्धि करता है। शिक्षक किस पर अमल करता है?

Options :

1. ✖ लैंगिक पक्षपात

2. ✖ वैश्विक रुझान

3. ✓ लैंगिक समानता

4. ✗ प्रगतिशील सोच

Question Number : 117 Question Id : 162653323 Question Type : MCQ Option Shuffling : Yes Display Question Number : Yes
Single Line Question Option : No Option Orientation : Vertical

Correct Marks : 1 Wrong Marks : 0.25

Teach to Learn means:

Options :

1. ✓ Learn from every child

2. ✗ Authoritative teaching

3. ✗ Teacher knows everything

4. ✗ Behaviour modelling

Question Number : 117 Question Id : 162653323 Question Type : MCQ Option Shuffling : Yes Display Question Number : Yes
Single Line Question Option : No Option Orientation : Vertical

Correct Marks : 1 Wrong Marks : 0.25

टीच-टू लर्न (सिखने के लिए पढ़ाना) का मतलब क्या है?

Options :

1. ✓ हर बच्चे से सीखना

2. ✗ अधिकारपूर्ण शिक्षण

3. ✗ शिक्षक सब कुछ जानता है

4. ✗ व्यवहार मॉडलिंग

Question Number : 118 Question Id : 162653324 Question Type : MCQ Option Shuffling : Yes Display Question Number : Yes
Single Line Question Option : No Option Orientation : Vertical

Correct Marks : 1 Wrong Marks : 0.25

_____ is a technique that involves inquisitiveness and creativity.

Options :

1. ✗ Lecture method

2. ✗ Demonstration

3. ✓ Role play

4. ✗ Observation

Question Number : 118 Question Id : 162653324 Question Type : MCQ Option Shuffling : Yes Display Question Number : Yes
Single Line Question Option : No Option Orientation : Vertical
Correct Marks : 1 Wrong Marks : 0.25

_____ एक ऐसी तकनीक है जिसमें जिज्ञासा और रचनात्मकता शामिल होती है।

Options :

1. ✗ व्याख्यान विधि

2. ✗ प्रदर्शन

3. ✓ वार्तालाप गतिविधि (रोल प्ले)

4. ✗ अवलोकन

Question Number : 119 Question Id : 162653325 Question Type : MCQ Option Shuffling : Yes Display Question Number : Yes
Single Line Question Option : No Option Orientation : Vertical
Correct Marks : 1 Wrong Marks : 0.25

Including project-based and play-based approaches in learning:

Options :

1. ✓ improves children's engagement and motivation

2. ✗ hampers children's ability to be self-directed

3. ✗ allows no freedom to be creative

4. ✗ increases behavioural issues

Question Number : 119 Question Id : 162653325 Question Type : MCQ Option Shuffling : Yes Display Question Number : Yes
Single Line Question Option : No Option Orientation : Vertical
Correct Marks : 1 Wrong Marks : 0.25

शिक्षण में प्रोजेक्ट-बेस्ड (परियोजना आधारित) और प्ले-बेस्ड दृष्टिकोण शामिल करने का क्या असर होता है?

Options :

1. ✓ बच्चों की भागीदारी और प्रेरणा में सुधार आता है

2. ✗ आत्म-निर्देशित होने की बच्चों की क्षमता में रुकावट होती है

3. ✖ रचनात्मक होने की स्वतंत्रता नहीं होती

4. ✖ व्यवहार संबंधी मुद्दों में बढ़ाव होता है

Question Number : 120 Question Id : 162653326 Question Type : MCQ Option Shuffling : Yes Display Question Number : Yes
Single Line Question Option : No Option Orientation : Vertical

Correct Marks : 1 Wrong Marks : 0.25

How is Piaget's Theory different from others?

Options :

1. ✔ It focuses on development, rather than learning.

2. ✖ It is concerned with all learners.

3. ✖ It proposes a gradual increase in number and complexity of behaviours, concepts, ideas, etc.

4. ✖ It addresses learning of information or specific behaviours.

Question Number : 120 Question Id : 162653326 Question Type : MCQ Option Shuffling : Yes Display Question Number : Yes
Single Line Question Option : No Option Orientation : Vertical

Correct Marks : 1 Wrong Marks : 0.25

पियाजे का सिद्धांत दूसरों से किस मामले में अलग है?

Options :

1. ✔ यह शिक्षण के बजाय विकास पर केंद्रित है।

2. ✖ यह सभी शिक्षार्थियों से संबंधित है।

3. ✖

यह व्यवहार, अवधारणाओं, विचारों, आदि की संख्या और जटिलता में क्रमिक वृद्धि का प्रस्ताव करता है।

4. ✖ यह जानकारी या विशिष्ट व्यवहार सीखने पर ध्यान देता है।

Subject Related

Group Number :

7

Group Id :

16265317

Group Maximum Duration :

0

Group Minimum Duration :

0

Revisit allowed for view? :

No

Revisit allowed for edit? :

No

Break time:

0

Group Marks:

20

Revisit allowed for group Instructions? :	Yes
Maximum Instruction Time:	0
Minimum Instruction Time:	0

Subject Related

Section Id :	16265317
Section Number :	1
Section type :	Online
Mandatory or Optional:	Mandatory
Number of Questions:	20
Number of Questions to be attempted:	20
Section Marks:	20
Display Number Panel:	Yes
Group All Questions:	No

Sub-Section Number:	1
Sub-Section Id:	16265324
Question Shuffling Allowed :	Yes

Question Number : 121 Question Id : 162653327 Question Type : MCQ Option Shuffling : Yes Display Question Number : Yes
Single Line Question Option : No Option Orientation : Vertical

Correct Marks : 1 Wrong Marks : 0.25

When Mr. Ram entered his class to teach Science with all the required material and with well-prepared activities, he faced a noisy class. Two students were involved in a fight and others were shouting and inciting the fighting students.

What did the teacher lack?

Options :

1. ✖ Content knowledge
2. ✖ Self-esteem
3. ✔ Classroom managerial skill
4. ✖ Interest in teaching

Question Number : 121 Question Id : 162653327 Question Type : MCQ Option Shuffling : Yes Display Question Number : Yes
Single Line Question Option : No Option Orientation : Vertical

Correct Marks : 1 Wrong Marks : 0.25

जब मि. राम ने सभी आवश्यक सामग्री और अच्छी तरह से तैयार गतिविधियों के साथ विज्ञान पढ़ाने के लिए अपनी कक्षा में प्रवेश किया, तो उन्हें एक शोर वर्ग का सामना करना पड़ा। दो छात्र एक लड़ाई में शामिल थे और अन्य चिल्ला रहे थे और लड़ रहे छात्रों को उत्तेजित कर रहे थे।

शिक्षक की कमी क्या थी?

Options :

1. ✖ सामग्री ज्ञान
2. ✖ आत्म सम्मान
3. ✔ कक्षा प्रबंधन कौशल
4. ✖ शिक्षण में रुचि

Question Number : 122 Question Id : 162653328 Question Type : MCQ Option Shuffling : Yes Display Question Number : Yes
Single Line Question Option : No Option Orientation : Vertical

Correct Marks : 1 Wrong Marks : 0.25

“Through others we become ourselves” could be the quintessence of the Sociocultural Learning Theory, which supports that learning is a social process. This theory was introduced by:

Options :

1. ✖ Piaget
2. ✔ Vygotsky
3. ✖ Thorndike
4. ✖ Mari Montessori

Question Number : 122 Question Id : 162653328 Question Type : MCQ Option Shuffling : Yes Display Question Number : Yes
Single Line Question Option : No Option Orientation : Vertical

Correct Marks : 1 Wrong Marks : 0.25

“दूसरों के माध्यम से हम खुद बन जाते हैं” यह समाजशास्त्रीय शिक्षण सिद्धांत की उत्कृष्टता हो सकती है, जो कि शिक्षण का समर्थन करता है कि शिक्षा एक सामाजिक प्रक्रिया है। यह सिद्धांत किसके द्वारा पेश किया गया था?

Options :

1. ✖ पियाजे
2. ✔ व्यगोस्की
3. ✖ थॉर्नडाइक
4. ✖ मारी मोंटेसरी

Question Number : 123 Question Id : 162653329 Question Type : MCQ Option Shuffling : Yes Display Question Number : Yes
Single Line Question Option : No Option Orientation : Vertical

Correct Marks : 1 Wrong Marks : 0.25

_____ recommends that the institutions of national importance like UGC, NCERT, NIEPA, AICTE, etc. will be strengthened to enable them to give shape to national system of education.

Options :

1. ☒ National Policy on Education (1986)
2. ☐ Kothari Commission (1964-66)
3. ☐ The National System of Education
4. ☐ National Curriculum Framework

Question Number : 123 Question Id : 162653329 Question Type : MCQ Option Shuffling : Yes Display Question Number : Yes
Single Line Question Option : No Option Orientation : Vertical

Correct Marks : 1 Wrong Marks : 0.25

_____ अनुशंसा करता है कि राष्ट्रीय महत्व के संस्थान जैसे यू.जी.सी. (UGC), एन.सी.ई.आर.टी. (NCERT), एन.आई.ई.पी.ए. (NIEPA), ए.आई.सी.टी.ई.(AICTE) इत्यादि उन्हें राष्ट्रीय शिक्षा प्रणाली के सही आकार देने में सक्षम बनाएंगे।

Options :

1. ☒ राष्ट्रीय शिक्षा नीति (1986)
2. ☐ कोठारी आयोग (1964-66)
3. ☐ राष्ट्रीय शिक्षा प्रणाली
4. ☐ राष्ट्रीय पाठ्यक्रम फ्रेमवर्क

Question Number : 124 Question Id : 162653330 Question Type : MCQ Option Shuffling : Yes Display Question Number : Yes
Single Line Question Option : No Option Orientation : Vertical

Correct Marks : 1 Wrong Marks : 0.25

Establishment of continuing education centres, programmes of distance learning and workers' education through the employers are the programmes included in _____.

Options :

1. ☒ Adult Education and Continuing education
2. ☐ Distance education
3. ☐ National Literacy Mission
4. ☐ Vocational education

Question Number : 124 Question Id : 162653330 Question Type : MCQ Option Shuffling : Yes Display Question Number : Yes
Single Line Question Option : No Option Orientation : Vertical

Correct Marks : 1 Wrong Marks : 0.25

निरंतर शिक्षा, दूरस्थ शिक्षा के कार्यक्रम और नियोक्ताओं के माध्यम से श्रमिकों की शिक्षा की स्थापना _____ कार्यक्रम में शामिल हैं।

Options :

1. ☒ वयस्क शिक्षा और निरंतर शिक्षा
2. ☐ दूरस्थ शिक्षा
3. ☐ राष्ट्रीय साक्षरता मिशन
4. ☐ व्यावसायिक शिक्षा

Question Number : 125 Question Id : 162653331 Question Type : MCQ Option Shuffling : Yes Display Question Number : Yes
Single Line Question Option : No Option Orientation : Vertical

Correct Marks : 1 Wrong Marks : 0.25

The _____ concept may accommodate the UNESCO's global Education for All (EFA) and educational opportunities goals while the online learning mode and technologies may address the 21st century learning.

Options :

1. ☒ Open and distance learning
2. ☐ Open University
3. ☐ Correspondence education
4. ☐ Distance education

Question Number : 125 Question Id : 162653331 Question Type : MCQ Option Shuffling : Yes Display Question Number : Yes
Single Line Question Option : No Option Orientation : Vertical

Correct Marks : 1 Wrong Marks : 0.25

_____ अवधारणा यूनेस्को (UNESCO) की ग्लोबल एजुकेशन फॉर ऑल - ई.एफ.ए. (EFA) और शैक्षिक अवसर लक्ष्यों को समायोजित कर सकती है जबकि ऑनलाइन शिक्षण मोड और प्रौद्योगिकियां 21 वीं शताब्दी के सीखने को संबोधित कर सकती हैं।

Options :

1. ☒ मुक्त और दूरस्थ शिक्षा
2. ☐ मुक्त विश्वविद्यालय
3. ☐ पत्राचार शिक्षा

4. ✖ दूरस्थ शिक्षा

Question Number : 126 Question Id : 162653332 Question Type : MCQ Option Shuffling : Yes Display Question Number : Yes
Single Line Question Option : No Option Orientation : Vertical

Correct Marks : 1 Wrong Marks : 0.25

C.B.S.E. Scholarship Scheme (2016), Sukanya Samriddhi Yojna and Mukhyamantri Rajshri Yojna are the schemes for _____ in India.

Options :

1. ✖ Women empowerment
2. ✔ Girl child education
3. ✖ Adult education
4. ✖ Tribal education

Question Number : 126 Question Id : 162653332 Question Type : MCQ Option Shuffling : Yes Display Question Number : Yes
Single Line Question Option : No Option Orientation : Vertical

Correct Marks : 1 Wrong Marks : 0.25

C.B.S.E. छात्रवृत्ति योजना (2016), सुकन्या समृद्धि योजना और मुख्यमंत्री राजर्षि योजना भारत में _____ के लिए योजनाएं हैं।

Options :

1. ✖ महिला सशक्तिकरण
2. ✔ बाल शिक्षा
3. ✖ प्रौढ़ शिक्षा
4. ✖ जनजातीय शिक्षा

Question Number : 127 Question Id : 162653333 Question Type : MCQ Option Shuffling : Yes Display Question Number : Yes
Single Line Question Option : No Option Orientation : Vertical

Correct Marks : 1 Wrong Marks : 0.25

The essence and one of the roles of education as per NPE is:

Options :

1. ✔ Religious role
2. ✖ Acculturation role
3. ✖ National Literacy Mission

4. ✖ Vocational education

Question Number : 127 Question Id : 162653333 Question Type : MCQ Option Shuffling : Yes Display Question Number : Yes
Single Line Question Option : No Option Orientation : Vertical

Correct Marks : 1 Wrong Marks : 0.25

एनपीई (NPE) के अनुसार शिक्षा का सार और एक महत्वपूर्ण भूमिका है:

Options :

1. ✔ धार्मिक भूमिका

2. ✖ उत्संस्करण

3. ✖ राष्ट्रीय साक्षरता मिशन

4. ✖ व्यावसायिक शिक्षा

Question Number : 128 Question Id : 162653334 Question Type : MCQ Option Shuffling : Yes Display Question Number : Yes
Single Line Question Option : No Option Orientation : Vertical

Correct Marks : 1 Wrong Marks : 0.25

Who was the chairperson of the National Steering Committee of National Curriculum Framework, 2005?

Options :

1. ✖ Prof. Krishna Kant

2. ✖ Shri Gopal Guru

3. ✔ Prof. Yash Pal

4. ✖ Dr. DS Kothari

Question Number : 128 Question Id : 162653334 Question Type : MCQ Option Shuffling : Yes Display Question Number : Yes
Single Line Question Option : No Option Orientation : Vertical

Correct Marks : 1 Wrong Marks : 0.25

राष्ट्रीय पाठ्यक्रम फ्रेमवर्क, 2005, की राष्ट्रीय संचालन समिति के अध्यक्ष कौन थे/थीं?

Options :

1. ✖ प्रोफेसर कृष्ण कांत

2. ✖ श्री गोपाल गुरु

3. ✔ प्रो. यश पाल

4. ✖ डॉ. डी.एस. कोठारी

Question Number : 129 Question Id : 162653335 Question Type : MCQ Option Shuffling : Yes Display Question Number : Yes
Single Line Question Option : No Option Orientation : Vertical
Correct Marks : 1 Wrong Marks : 0.25

Which of the following is the correct meaning of diversity?

Options :

1. ✖ Differences between two individuals
2. ✖ Differences in people due to caste and religion
3. ✖ Dissimilarities among groups
4. ✔ Socio-cultural and demographic differences in people

Question Number : 129 Question Id : 162653335 Question Type : MCQ Option Shuffling : Yes Display Question Number : Yes
Single Line Question Option : No Option Orientation : Vertical
Correct Marks : 1 Wrong Marks : 0.25

इनमें से कौन सा विविधता का सही अर्थ है?

Options :

1. ✖ दो व्यक्तियों के बीच असमानता
2. ✖ जाति और धर्म के कारण लोगों में असमानता
3. ✖ समूहों के बीच भिन्नता
4. ✔ लोगों में सामाजिक-सांस्कृतिक और जनसांख्यिकीय असमानता

Question Number : 130 Question Id : 162653336 Question Type : MCQ Option Shuffling : Yes Display Question Number : Yes
Single Line Question Option : No Option Orientation : Vertical
Correct Marks : 1 Wrong Marks : 0.25

Gender equity refers to _____ of men and women that are created in families, societies and cultures.

Options :

1. ✔ ensuring fairness to compensate for the historical and social disadvantages
2. ✖ characteristics, aptitude and behaviours
3. ✖ sex-disaggregated information

4. ✖ equal conditions for realising full human rights

Question Number : 130 Question Id : 162653336 Question Type : MCQ Option Shuffling : Yes Display Question Number : Yes
Single Line Question Option : No Option Orientation : Vertical

Correct Marks : 1 Wrong Marks : 0.25

लैंगिक समानता परिवार, समाज और संस्कृति में सृजित पुरुषों और महिलाओं के _____ को संदर्भित करती है।

Options :

1. ✔ ऐतिहासिक और सामाजिक नुकसान की भरपाई करने के लिए निष्पक्षता सुनिश्चित करने
2. ✖ विशेषताएं, अभिक्षमता और व्यवहार
3. ✖ लिंग-पृथक जानकारी
4. ✖ पूर्ण मानव अधिकारों को साकार करने के लिए समान स्थितियों

Question Number : 131 Question Id : 162653337 Question Type : MCQ Option Shuffling : Yes Display Question Number : Yes
Single Line Question Option : No Option Orientation : Vertical

Correct Marks : 1 Wrong Marks : 0.25

What does SEN stand for?

Options :

1. ✖ Social Education Needs
2. ✔ Special Educational Needs
3. ✖ Societal Educational Standards
4. ✖ Societal Exceptional Needs

Question Number : 131 Question Id : 162653337 Question Type : MCQ Option Shuffling : Yes Display Question Number : Yes
Single Line Question Option : No Option Orientation : Vertical

Correct Marks : 1 Wrong Marks : 0.25

एस.ई.एन. (SEN) का क्या अर्थ है?

Options :

1. ✖ सोशल एजुकेशन नीड्स (Social Education Needs)
2. ✔ स्पेशल एजुकेशन नीड्स (Special Educational Needs)
3. ✖ सोशल एजुकेशन स्टैंडर्ड्स (Societal Educational Standards)

4. ✖ सोसाइटल एक्सेप्शनल नीड्स (Societal Exceptional Needs)

Question Number : 132 Question Id : 162653338 Question Type : MCQ Option Shuffling : Yes Display Question Number : Yes
Single Line Question Option : No Option Orientation : Vertical
Correct Marks : 1 Wrong Marks : 0.25

Which of the following statements is NOT true in the context of principles of Inclusive education?

Options :

1. ✖ Everyone can learn.
2. ✖ Everyone has a right to education.
3. ✖ There is value difference.
4. ✔ Discriminatory attitude and behaviour is acceptable.

Question Number : 132 Question Id : 162653338 Question Type : MCQ Option Shuffling : Yes Display Question Number : Yes
Single Line Question Option : No Option Orientation : Vertical
Correct Marks : 1 Wrong Marks : 0.25

समावेशी शिक्षा के सिद्धांतों के संदर्भ में निम्नलिखित में से कौन सा कथन सत्य नहीं है?

Options :

1. ✖ हर कोई सीख सकता है।
2. ✖ हर किसी को शिक्षा का अधिकार है।
3. ✖ मूल्य अंतर होता है।
4. ✔ भ्रामक दृष्टिकोण और व्यवहार स्वीकार्य है।

Question Number : 133 Question Id : 162653339 Question Type : MCQ Option Shuffling : Yes Display Question Number : Yes
Single Line Question Option : No Option Orientation : Vertical
Correct Marks : 1 Wrong Marks : 0.25

Which is the most appropriate method of co-teaching a teacher must use while teaching in the inclusive classroom?

Options :

1. ✖ Blended teaching learning
2. ✖ Role playing
3. ✔ Parallel teaching

4. ✖ Computer mediated teaching

Question Number : 133 Question Id : 162653339 Question Type : MCQ Option Shuffling : Yes Display Question Number : Yes
Single Line Question Option : No Option Orientation : Vertical

Correct Marks : 1 Wrong Marks : 0.25

समावेशी कक्षा में पढ़ाने के दौरान एक शिक्षक को सह-शिक्षण का सबसे उपयुक्त तरीका कौन सा उपयोग करना चाहिए?

Options :

1. ✖ मिश्रित शिक्षण शिक्षा
2. ✖ रोल प्ले
3. ✔ समांतर शिक्षण
4. ✖ कंप्यूटर मध्यस्थ शिक्षण

Question Number : 134 Question Id : 162653340 Question Type : MCQ Option Shuffling : Yes Display Question Number : Yes
Single Line Question Option : No Option Orientation : Vertical

Correct Marks : 1 Wrong Marks : 0.25

What are the challenges and barriers in the development of inclusive education?

- i. Rigid school system
- ii. Lack of collaboration
- iii. Inadequate and inappropriate state provision
- iv. None of the above

Select the appropriate answer:

Options :

1. ✖ Only iv
2. ✖ i and ii
3. ✔ i, ii, and iii
4. ✖ ii and iii

Question Number : 134 Question Id : 162653340 Question Type : MCQ Option Shuffling : Yes Display Question Number : Yes
Single Line Question Option : No Option Orientation : Vertical

Correct Marks : 1 Wrong Marks : 0.25

समावेशी शिक्षा के विकास में चुनौतियों और बाधाएं क्या हैं?

- i. कठोर स्कूल प्रणाली
- ii. सहयोग की कमी
- iii. अपर्याप्त और अनुचित राज्य प्रावधान
- iv. इनमें से कोई भी नहीं

उपयुक्त उत्तर का चयन करें:

Options :

- 1. ✖ केवल iv
- 2. ✖ i और ii
- 3. ✔ i, ii और iii
- 4. ✖ ii और iii

Question Number : 135 Question Id : 162653341 Question Type : MCQ Option Shuffling : Yes Display Question Number : Yes
Single Line Question Option : No Option Orientation : Vertical

Correct Marks : 1 Wrong Marks : 0.25

Which of the following is known as the structure and content of a unit, a programme of study and students' experience of learning?

Options :

- 1. ✖ Syllabus
- 2. ✖ Objectives
- 3. ✖ Course
- 4. ✔ Curriculum

Question Number : 135 Question Id : 162653341 Question Type : MCQ Option Shuffling : Yes Display Question Number : Yes
Single Line Question Option : No Option Orientation : Vertical

Correct Marks : 1 Wrong Marks : 0.25

एक इकाई की संरचना और सामग्री, अध्ययन का कार्यक्रम और छात्रों के सीखने का अनुभव किस रूप में जाना जाता है?

Options :

- 1. ✖ पाठ्यक्रम

2. ✖ उद्देश्य

3. ✖ कोर्स

4. ✔ पाठ्यचर्या

Question Number : 136 Question Id : 162653342 Question Type : MCQ Option Shuffling : Yes Display Question Number : Yes
Single Line Question Option : No Option Orientation : Vertical

Correct Marks : 1 Wrong Marks : 0.25

What is the key aspect to be taken into consideration for making the Curriculum of any country?

Options :

1. ✖ Social context

2. ✔ Needs of the society

3. ✖ Medium of instruction

4. ✖ Methods of delivery

Question Number : 136 Question Id : 162653342 Question Type : MCQ Option Shuffling : Yes Display Question Number : Yes
Single Line Question Option : No Option Orientation : Vertical

Correct Marks : 1 Wrong Marks : 0.25

किसी भी देश के पाठ्यक्रम बनाने के लिए महत्वपूर्ण पहलू क्या है?

Options :

1. ✖ सामाजिक प्रसंग

2. ✔ समाज की जरूरतें

3. ✖ निर्देश का माध्यम

4. ✖ वितरण की विधि

Question Number : 137 Question Id : 162653343 Question Type : MCQ Option Shuffling : Yes Display Question Number : Yes
Single Line Question Option : No Option Orientation : Vertical

Correct Marks : 1 Wrong Marks : 0.25

Which of the following is an example of theme-based curriculum?

Options :

1. ✔ Emphasising the importance of finding patterns/relationships between concepts

2. ✖ Engagement with a complex problem or scenario
3. ✖ Transformation of the learner's way of looking at, and acting in, the discipline
4. ✖ A dialogic perspective on eLearning learners need to be 'scaffolded'

Question Number : 137 Question Id : 162653343 Question Type : MCQ Option Shuffling : Yes Display Question Number : Yes
Single Line Question Option : No Option Orientation : Vertical

Correct Marks : 1 Wrong Marks : 0.25

निम्नलिखित में से कौन सा विषय (थीम) आधारित पाठ्यक्रम का उदाहरण है?

Options :

1. ✔ अवधारणाओं के पैटर्न/संबंधों को खोजने के महत्व पर जोर देना
2. ✖ जटिल समस्या या परिदृश्य के साथ जुड़ाव
3. ✖ अनुशासन में सीखने और कार्य करने के लिए सीखने के तरीका में परिवर्तन
4. ✖ ई-लर्निंग शिक्षार्थियों पर संवाद परिप्रेक्ष्य के लिए 'प्लेटफॉर्म' होना चाहिए

Question Number : 138 Question Id : 162653344 Question Type : MCQ Option Shuffling : Yes Display Question Number : Yes
Single Line Question Option : No Option Orientation : Vertical

Correct Marks : 1 Wrong Marks : 0.25

What is curriculum development?

Options :

1. ✖ Changes in objectives
2. ✔ Planning, implementation and evaluation
3. ✖ Comparing syllabus and curriculum
4. ✖ Content development

Question Number : 138 Question Id : 162653344 Question Type : MCQ Option Shuffling : Yes Display Question Number : Yes
Single Line Question Option : No Option Orientation : Vertical

Correct Marks : 1 Wrong Marks : 0.25

पाठ्यक्रम विकास क्या है?

Options :

1. ✖ उद्देश्य में परिवर्तन

2. ☒ योजना, कार्यान्वयन और मूल्यांकन
3. ☐ पाठ्यक्रम और अध्ययन सूची की तुलना
4. ☐ सामग्री विकास

Question Number : 139 Question Id : 162653345 Question Type : MCQ Option Shuffling : Yes Display Question Number : Yes
Single Line Question Option : No Option Orientation : Vertical

Correct Marks : 1 Wrong Marks : 0.25

What are the components of ICT?

Options :

1. ☒ Hardware, Software, User, Network
2. ☐ Computer, Internet, LCD Projector
3. ☐ Input devices, Output Devices, Storage Devices, Memory Devices
4. ☐ System Software, Operating System

Question Number : 139 Question Id : 162653345 Question Type : MCQ Option Shuffling : Yes Display Question Number : Yes
Single Line Question Option : No Option Orientation : Vertical

Correct Marks : 1 Wrong Marks : 0.25

आई.सी.टी. (ICT) के घटक क्या हैं?

Options :

1. ☒ हार्डवेयर, सॉफ्टवेयर, उपयोगकर्ता, नेटवर्क
2. ☐ कंप्यूटर, इंटरनेट, एल.सी.डी. प्रोजेक्टर
3. ☐ इनपुट डिवाइस, आउटपुट डिवाइस, स्टोरेज डिवाइस, मेमोरी डिवाइस
4. ☐ सिस्टम सॉफ्टवेयर, ऑपरेटिंग सिस्टम

Question Number : 140 Question Id : 162653346 Question Type : MCQ Option Shuffling : Yes Display Question Number : Yes
Single Line Question Option : No Option Orientation : Vertical

Correct Marks : 1 Wrong Marks : 0.25

Which of the following is an impact of ICT on Education?

Options :

1. ☐ Encourages absenteeism of students

2. ✖ Reduces the importance of the teacher in the classroom
3. ✔ Shifts passive learners to active learners
4. ✖ Provides extra time for teachers

Question Number : 140 Question Id : 162653346 Question Type : MCQ Option Shuffling : Yes Display Question Number : Yes
Single Line Question Option : No Option Orientation : Vertical

Correct Marks : 1 Wrong Marks : 0.25

निम्नलिखित में से कौन सा कथन शिक्षा में आई.सी.टी. (ICT) का प्रभाव है?

Options :

1. ✖ छात्रों की अनुपस्थिति को प्रोत्साहित करता है
2. ✖ कक्षा में शिक्षक के महत्व को कम करता है
3. ✔ निष्क्रिय शिक्षार्थियों को सक्रिय शिक्षार्थियों को बदल देता है
4. ✖ शिक्षकों के लिए अतिरिक्त समय प्रदान करता है

Subject Related

Group Number :	8
Group Id :	16265318
Group Maximum Duration :	0
Group Minimum Duration :	0
Revisit allowed for view? :	No
Revisit allowed for edit? :	No
Break time:	0
Group Marks:	20
Revisit allowed for group Instructions? :	Yes
Maximum Instruction Time:	0
Minimum Instruction Time:	0

Subject Related

Section Id :	16265318
Section Number :	1
Section type :	Online
Mandatory or Optional:	Mandatory
Number of Questions:	20
Number of Questions to be attempted:	20
Section Marks:	20
Display Number Panel:	Yes
Group All Questions:	No

Sub-Section Number: 1
Sub-Section Id: 16265325
Question Shuffling Allowed : Yes

Question Number : 141 Question Id : 162653347 Question Type : MCQ Option Shuffling : Yes Display Question Number : Yes
Single Line Question Option : No Option Orientation : Vertical

Correct Marks : 1 Wrong Marks : 0.25

What is the use of copyright?

Options :

1. ✖ To save someone's work online
2. ✔ To protect intellectual property from misuse
3. ✖ To use someone's information confidentially
4. ✖ To share the work online

Question Number : 141 Question Id : 162653347 Question Type : MCQ Option Shuffling : Yes Display Question Number : Yes
Single Line Question Option : No Option Orientation : Vertical

Correct Marks : 1 Wrong Marks : 0.25

कॉपीराइट का उपयोग क्या है?

Options :

1. ✖ किसी के काम को ऑनलाइन सहेजना
2. ✔ बौद्धिक संपदा को दुरुपयोग से बचाना
3. ✖ गोपनीय रूप से किसी की जानकारी का उपयोग करना
4. ✖ ऑनलाइन काम साझा करना

Question Number : 142 Question Id : 162653348 Question Type : MCQ Option Shuffling : Yes Display Question Number : Yes
Single Line Question Option : No Option Orientation : Vertical

Correct Marks : 1 Wrong Marks : 0.25

The computer-assisted learning idea highly depends on:

Options :

1. ✖ University Grants Commission
2. ✔ Kothari Commission

3. ✖ Knowledge Commission

4. ✖ Vishwanathan Commission

Question Number : 142 Question Id : 162653348 Question Type : MCQ Option Shuffling : Yes Display Question Number : Yes
Single Line Question Option : No Option Orientation : Vertical
Correct Marks : 1 Wrong Marks : 0.25

कंप्यूटर की सहायता से सीखने का विचार अत्यधिक किस पर निर्भर करता है?

Options :

1. ✖ विश्वविद्यालय अनुदान आयोग

2. ✔ कोठारी आयोग

3. ✖ ज्ञान आयोग

4. ✖ विश्वनाथन आयोग

Question Number : 143 Question Id : 162653349 Question Type : MCQ Option Shuffling : Yes Display Question Number : Yes
Single Line Question Option : No Option Orientation : Vertical
Correct Marks : 1 Wrong Marks : 0.25

Which of the following is an example of eLearning?

Options :

1. ✔ Teachers give online tests to assess progress of students.

2. ✖ Teachers use traditional chalk and talk method.

3. ✖ Students use social networking for studies.

4. ✖ Students complete further education by using technology in distance learning.

Question Number : 143 Question Id : 162653349 Question Type : MCQ Option Shuffling : Yes Display Question Number : Yes
Single Line Question Option : No Option Orientation : Vertical
Correct Marks : 1 Wrong Marks : 0.25

निम्नलिखित में से कौन सा ई-शिक्षण का उदाहरण है?

Options :

1. ✔ शिक्षक छात्रों की प्रगति का आकलन करने के लिए ऑनलाइन परीक्षण देते हैं।

2. ✖ शिक्षक पारंपरिक चार्ज एंड टॉक मेथड का उपयोग करते हैं।

3. ✖ छात्र अध्ययन के लिए सोशल नेटवर्किंग का उपयोग करते हैं।

4. ✖ दूरस्थ शिक्षा में प्रौद्योगिकी का उपयोग करके छात्र आगे शिक्षा पूरी करते हैं।

Question Number : 144 Question Id : 162653350 Question Type : MCQ Option Shuffling : Yes Display Question Number : Yes
Single Line Question Option : No Option Orientation : Vertical

Correct Marks : 1 Wrong Marks : 0.25

Which of the following assessment techniques can be used with the help of technology?

Options :

1. ✔ Discussion, debate, symposia and role play

2. ✖ Tutorial in the presence of the teacher

3. ✖ Peer observation while experimenting in science lab

4. ✖ Journal writing

Question Number : 144 Question Id : 162653350 Question Type : MCQ Option Shuffling : Yes Display Question Number : Yes
Single Line Question Option : No Option Orientation : Vertical

Correct Marks : 1 Wrong Marks : 0.25

तकनीक की मदद से निम्नलिखित में से किन मूल्यांकन तकनीक का उपयोग किया जा सकता है?

Options :

1. ✔ चर्चा, बहस, संगोष्ठी और रोल प्ले

2. ✖ शिक्षक की उपस्थिति में ट्यूटोरियल

3. ✖ विज्ञान प्रयोगशाला में प्रयोग करते समय सहकर्मी अवलोकन

4. ✖ पत्रिका लेखन

Question Number : 145 Question Id : 162653351 Question Type : MCQ Option Shuffling : Yes Display Question Number : Yes
Single Line Question Option : No Option Orientation : Vertical

Correct Marks : 1 Wrong Marks : 0.25

What is the difference between cooperative learning and collaborative learning?

Options :

1. ✔ Cooperative learning is face to face and collaborative learning is online

2. ✖

Cooperative learning requires cooperation of team members and collaborative learning requires collaboration of team members

3. ✖

Cooperative learning has big groups and collaborative learning has small groups

4. ✖

Cooperative learning needs teacher and collaborative learning needs technology

Question Number : 145 Question Id : 162653351 Question Type : MCQ Option Shuffling : Yes Display Question Number : Yes
Single Line Question Option : No Option Orientation : Vertical

Correct Marks : 1 Wrong Marks : 0.25

सहकारी शिक्षा और सहयोगी शिक्षा के बीच क्या अंतर है?

Options :

1. ✔ सहकारी शिक्षा आमने-सामने है और सहयोगी शिक्षा ऑनलाइन है।

2. ✖

सहकारी शिक्षा के लिए टीम के सदस्यों के सहभागिता की आवश्यकता होती है और सहयोगी शिक्षा के लिए टीम के सदस्यों के सहयोग की आवश्यकता होती है।

3. ✖

सहकारी शिक्षा में बड़े समूह हैं और सहयोगी शिक्षा में छोटे समूह हैं।

4. ✖

सहकारी शिक्षा के लिए शिक्षक और सहयोगी सीखने की जरूरत प्रौद्योगिकी की आवश्यकता होती है।

Question Number : 146 Question Id : 162653352 Question Type : MCQ Option Shuffling : Yes Display Question Number : Yes
Single Line Question Option : No Option Orientation : Vertical

Correct Marks : 1 Wrong Marks : 0.25

What is the main purpose of launching EDUSAT?

Options :

1. ✖ To recover the lacuna of teachers by using educational programmes

2. ✖ To create high quality education programmes for students

3. ✔

To provide education to all people, primarily children from remote areas of the country who cannot go to schools or colleges

4. ✖

To train the teachers to use technology effectively

Question Number : 146 Question Id : 162653352 Question Type : MCQ Option Shuffling : Yes Display Question Number : Yes
Single Line Question Option : No Option Orientation : Vertical

Correct Marks : 1 Wrong Marks : 0.25

EDUSAT लॉन्च करने का मुख्य उद्देश्य क्या है?

Options :

1. ✖ शैक्षणिक कार्यक्रमों का उपयोग करके शिक्षकों के खामियों को दूर करना

2. ✖ छात्रों के लिए उच्च गुणवत्ता वाले शिक्षा कार्यक्रम बनाना

3. ✔

सभी लोगों को शिक्षा प्रदान करना के लिए, खासकर देश के दूर-दराज के क्षेत्रों के बच्चे जो स्कूल या कॉलेज नहीं जा सकते हैं

4. ✖ तकनीक का प्रभावी ढंग से उपयोग करने के लिए शिक्षकों को प्रशिक्षित करना

Question Number : 147 Question Id : 162653353 Question Type : MCQ Option Shuffling : Yes Display Question Number : Yes
Single Line Question Option : No Option Orientation : Vertical

Correct Marks : 1 Wrong Marks : 0.25

In a class of 40 students, learners show individual preferences for learning. As a teacher you will follow:

Options :

1. ✖ One type of teaching for all

2. ✔ Using a variety of teaching -learning methods

3. ✖ Conducting many tests

4. ✖ Teacher-directed teaching

Question Number : 147 Question Id : 162653353 Question Type : MCQ Option Shuffling : Yes Display Question Number : Yes
Single Line Question Option : No Option Orientation : Vertical

Correct Marks : 1 Wrong Marks : 0.25

40 छात्रों की एक कक्षा में, शिक्षार्थी सीखने के व्यक्तिगत प्राथमिकताओं को दिखाता है। एक शिक्षक के रूप में आप किसका पालन करेंगे?

Options :

1. ✖ सभी के लिए एक तरह की शिक्षा

2. ✔ विभिन्न प्रकार के शिक्षण-सीखने के तरीकों का प्रयोग

3. ✖ कई परीक्षण का आयोजन

4. ✖ शिक्षक निर्देशित शिक्षण

Question Number : 148 Question Id : 162653354 Question Type : MCQ Option Shuffling : Yes Display Question Number : Yes
Single Line Question Option : No Option Orientation : Vertical

Correct Marks : 1 Wrong Marks : 0.25

In learning, assessment is important for:

Options :

1. ✖ Getting better marks
2. ✔ learning
3. ✖ Ranking students
4. ✖ Discriminating students

Question Number : 148 Question Id : 162653354 Question Type : MCQ Option Shuffling : Yes Display Question Number : Yes
Single Line Question Option : No Option Orientation : Vertical

Correct Marks : 1 Wrong Marks : 0.25

शिक्षा में मूल्यांकन किसके लिए महत्वपूर्ण है?

Options :

1. ✖ बेहतर अंक प्राप्त करना
2. ✔ शिक्षण के लिए आकलन
3. ✖ छात्रों की रैंकिंग
4. ✖ छात्रों में भेदभाव

Question Number : 149 Question Id : 162653355 Question Type : MCQ Option Shuffling : Yes Display Question Number : Yes
Single Line Question Option : No Option Orientation : Vertical

Correct Marks : 1 Wrong Marks : 0.25

What is the correct sequence of basic skills of language?

Options :

1. ✖ Listening, Speaking, Writing and Reading
2. ✖ Writing, Reading, Speaking and Listening
3. ✖ Comprehending, Listening, Speaking, Writing and Reading
4. ✔ Listening, Speaking, Reading and Writing

Question Number : 149 Question Id : 162653355 Question Type : MCQ Option Shuffling : Yes Display Question Number : Yes
Single Line Question Option : No Option Orientation : Vertical

Correct Marks : 1 Wrong Marks : 0.25

भाषा के बुनियादी कौशल का सही अनुक्रम क्या है?

Options :

1. ✖ सुनना, बोलना, लिखना और पढ़ना
2. ✖ लिखना, पढ़ना, बोलना और सुनना
3. ✖ समझना, सुनना, बोलना, लिखना और पढ़ना
4. ✔ सुनना, बोलना, पढ़ना और लिखना

Question Number : 150 Question Id : 162653356 Question Type : MCQ Option Shuffling : Yes Display Question Number : Yes
Single Line Question Option : No Option Orientation : Vertical

Correct Marks : 1 Wrong Marks : 0.25

Which of the following is an example of deductive method?

Options :

1. ✔ Explaining the definition of noun, giving examples of noun and repeating definition of noun.
2. ✖ Giving examples of noun and explaining definition of noun and again giving examples of noun.
3. ✖ Giving definition and examples of noun at a time.
4. ✖ Showing various things related to noun and asking students to prepare definition of noun.

Question Number : 150 Question Id : 162653356 Question Type : MCQ Option Shuffling : Yes Display Question Number : Yes
Single Line Question Option : No Option Orientation : Vertical

Correct Marks : 1 Wrong Marks : 0.25

निगमन विधि का उदाहरण निम्नलिखित में से कौन सा है?

Options :

1. ✔ संज्ञा की परिभाषा की व्याख्या, संज्ञा के उदाहरण देना और संज्ञा की दोहराना
2. ✖ संज्ञा का उदाहरण देना और संज्ञा की परिभाषा और फिर संज्ञा के उदाहरण देना
3. ✖ समय पर संज्ञा की परिभाषा और उदाहरण देना

4. ✖

संज्ञा से संबंधित विभिन्न चीजें दिखाना और छात्रों को संज्ञा की परिभाषा तैयार करने के लिए कहना

Question Number : 151 Question Id : 162653357 Question Type : MCQ Option Shuffling : Yes Display Question Number : Yes
Single Line Question Option : No Option Orientation : Vertical

Correct Marks : 1 Wrong Marks : 0.25

Which of the following is considered as the objective of application?

Options :

1. ✖ To use the vocabulary
2. ✔ To tell the central theme in own words
3. ✖ To define the statement
4. ✖ To read effectively

Question Number : 151 Question Id : 162653357 Question Type : MCQ Option Shuffling : Yes Display Question Number : Yes
Single Line Question Option : No Option Orientation : Vertical

Correct Marks : 1 Wrong Marks : 0.25

निम्नलिखित में से कौन सा अनुप्रयोग के उद्देश्य के रूप में माना जाता है?

Options :

1. ✖ शब्दावली का उपयोग करना
2. ✔ केंद्रीय शब्दों को अपने शब्दों में बताना
3. ✖ कथन को परिभाषित करना
4. ✖ प्रभावी ढंग से पढ़ना

Question Number : 152 Question Id : 162653358 Question Type : MCQ Option Shuffling : Yes Display Question Number : Yes
Single Line Question Option : No Option Orientation : Vertical

Correct Marks : 1 Wrong Marks : 0.25

According to NCF-2005, children:

Options :

1. ✔ have an innate (by birth) potential to acquire language
2. ✖ need to be taught
3. ✖ learn from environment

4. ✖ learn from peers

Question Number : 152 Question Id : 162653358 Question Type : MCQ Option Shuffling : Yes Display Question Number : Yes
Single Line Question Option : No Option Orientation : Vertical

Correct Marks : 1 Wrong Marks : 0.25

NCF-2005 के अनुसार, बच्चों/बच्चे:

Options :

1. ✔ मैं एक सहजता (जन्म से) भाषा हासिल करने की क्षमता होती है
2. ✖ को शिक्षित किया जाना चाहिए
3. ✖ परिवेश से सीखते हैं
4. ✖ साथियों से सीखते हैं

Question Number : 153 Question Id : 162653359 Question Type : MCQ Option Shuffling : Yes Display Question Number : Yes
Single Line Question Option : No Option Orientation : Vertical

Correct Marks : 1 Wrong Marks : 0.25

When the British came to India in 1813, the medium of education used in primary schools started by them was:

Options :

1. ✔ Regional language
2. ✖ English
3. ✖ Hindi
4. ✖ Oriental

Question Number : 153 Question Id : 162653359 Question Type : MCQ Option Shuffling : Yes Display Question Number : Yes
Single Line Question Option : No Option Orientation : Vertical

Correct Marks : 1 Wrong Marks : 0.25

जब 1813 में ब्रिटिश भारत आए, तो प्राथमिक विद्यालयों में उनके द्वारा शुरू की गई शिक्षा का माध्यम क्या था?

Options :

1. ✔ क्षेत्रीय भाषा
2. ✖ अंग्रेज़ी
3. ✖ हिंदी

4. ✖ ओरिएंटल

Question Number : 154 Question Id : 162653360 Question Type : MCQ Option Shuffling : Yes Display Question Number : Yes
Single Line Question Option : No Option Orientation : Vertical

Correct Marks : 1 Wrong Marks : 0.25

Speech CANNOT be invented by the student but has to be imitated. For this the teacher should:

Options :

1. ✖ be a good model
2. ✔ be Good imitators
3. ✖ know the rules of grammar
4. ✖ know the pattern of construction of sentences

Question Number : 154 Question Id : 162653360 Question Type : MCQ Option Shuffling : Yes Display Question Number : Yes
Single Line Question Option : No Option Orientation : Vertical

Correct Marks : 1 Wrong Marks : 0.25

भाषण का आविष्कार छात्र द्वारा नहीं किया जा सकता है लेकिन इसका अनुकरण किया जाना चाहिए। इसके लिए शिक्षक को क्या होना चाहिए?

Options :

1. ✖ अच्छा मॉडल
2. ✔ अच्छा अनुकरणक
3. ✖ व्याकरण के नियमों का जानकार
4. ✖ वाक्यों के निर्माण के पैटर्न का जानकार

Question Number : 155 Question Id : 162653361 Question Type : MCQ Option Shuffling : Yes Display Question Number : Yes
Single Line Question Option : No Option Orientation : Vertical

Correct Marks : 1 Wrong Marks : 0.25

The foundational role of the skills associated with language learning:

Options :

1. ✖ stops at the primary level
2. ✖ stops at the elementary classes
3. ✖ extends up to the secondary stage

4. ✓ goes up to the secondary and senior secondary stage

Question Number : 155 Question Id : 162653361 Question Type : MCQ Option Shuffling : Yes Display Question Number : Yes
Single Line Question Option : No Option Orientation : Vertical

Correct Marks : 1 Wrong Marks : 0.25

भाषा सीखने से जुड़े कौशल की आधारभूत भूमिका:

Options :

1. ✗ प्राथमिक स्तर पर रुकता है
2. ✗ प्राथमिक कक्षाओं में रुकता है
3. ✗ द्वितीयक चरण तक विस्तारित है
4. ✓ माध्यमिक और वरिष्ठ माध्यमिक चरण तक जाता है

Question Number : 156 Question Id : 162653362 Question Type : MCQ Option Shuffling : Yes Display Question Number : Yes
Single Line Question Option : No Option Orientation : Vertical

Correct Marks : 1 Wrong Marks : 0.25

_____ approach emphasises interaction as both the means and the ultimate goal of learning a language.

Options :

1. ✗ Functional
2. ✓ Communicative
3. ✗ Direct
4. ✗ Audio-lingual

Question Number : 156 Question Id : 162653362 Question Type : MCQ Option Shuffling : Yes Display Question Number : Yes
Single Line Question Option : No Option Orientation : Vertical

Correct Marks : 1 Wrong Marks : 0.25

_____ दृष्टिकोण भाषा सीखने के साधनों और अंतिम लक्ष्य दोनों में साक्षात्कार पर जोर देता है।

Options :

1. ✗ कार्यात्मक
2. ✓ अभिव्यक्तिशील
3. ✗ प्रत्यक्ष

4. ✖ ऑडियो-भाषाई विधि

Question Number : 157 Question Id : 162653363 Question Type : MCQ Option Shuffling : Yes Display Question Number : Yes
Single Line Question Option : No Option Orientation : Vertical

Correct Marks : 1 Wrong Marks : 0.25

A most common scenario in schools is children not being able to read. As a teacher, how will you promote reading in your students?

Options :

1. ✖ Telling them to read at home
2. ✖ Telling them to visit library
3. ✔ Reading to the students with appropriate gestures, dramatization etc.
4. ✖ Peer reading

Question Number : 157 Question Id : 162653363 Question Type : MCQ Option Shuffling : Yes Display Question Number : Yes
Single Line Question Option : No Option Orientation : Vertical

Correct Marks : 1 Wrong Marks : 0.25

बच्चों का पढ़ने में सक्षम नहीं होना स्कूलों में सबसे आम परिदृश्य है। एक शिक्षक के रूप में, आप अपने छात्रों में पढ़ने को कैसे बढ़ावा देंगे?

Options :

1. ✖ उन्हें घर पर पढ़ने के लिए कह कर
2. ✖ उन्हें लाइब्रेरी में जाने के लिए कह कर
3. ✔ उपयुक्त इशारे, नाटककरण आदि से छात्रों को पढ़ा कर
4. ✖ पीयर रीडिंग (सहकर्मी के साथ पढ़ाना) द्वारा

Question Number : 158 Question Id : 162653364 Question Type : MCQ Option Shuffling : Yes Display Question Number : Yes
Single Line Question Option : No Option Orientation : Vertical

Correct Marks : 1 Wrong Marks : 0.25

What comes under applied branch of mathematics?

Options :

1. ✖ Algebra
2. ✖ Geometry

3. ✖ Arithmetic

4. ✔ A wide range of studies with a wide use

Question Number : 158 Question Id : 162653364 Question Type : MCQ Option Shuffling : Yes Display Question Number : Yes
Single Line Question Option : No Option Orientation : Vertical
Correct Marks : 1 Wrong Marks : 0.25

गणित की व्यावहारिक शाखा के तहत क्या आता है?

Options :

1. ✖ बीजगणित

2. ✖ ज्यामिति

3. ✖ अंकगणित

4. ✔ अध्ययन के व्यापक विस्तार को व्यापक प्रयोग से जोड़ना

Question Number : 159 Question Id : 162653365 Question Type : MCQ Option Shuffling : Yes Display Question Number : Yes
Single Line Question Option : No Option Orientation : Vertical
Correct Marks : 1 Wrong Marks : 0.25

‘To use mathematical language’ — what objective will be fulfilled by this statement?

Options :

1. ✖ Application

2. ✖ Understanding

3. ✔ Skill

4. ✖ Attitude

Question Number : 159 Question Id : 162653365 Question Type : MCQ Option Shuffling : Yes Display Question Number : Yes
Single Line Question Option : No Option Orientation : Vertical
Correct Marks : 1 Wrong Marks : 0.25

‘गणितीय भाषा का उपयोग करना’ — इस कथन से किस उद्देश्य को पूरा किया जाएगा?

Options :

1. ✖ अनुप्रयोग

2. ✖ समझ

3. ✓ कौशल

4. ✗ दृष्टिकोण

Question Number : 160 Question Id : 162653366 Question Type : MCQ Option Shuffling : Yes Display Question Number : Yes
Single Line Question Option : No Option Orientation : Vertical

Correct Marks : 1 Wrong Marks : 0.25

Which is the correct example for the maxim simple to complex?

Options :

1. ✗ Solid things should be presented first.

2. ✓ New knowledge should be linked with the old knowledge.

3. ✗

Simple or easy things should be first presented to the students and gradually proceeded towards complex or difficult things.

4. ✗ The teacher should try to acquaint the child with the whole lesson first.

Question Number : 160 Question Id : 162653366 Question Type : MCQ Option Shuffling : Yes Display Question Number : Yes
Single Line Question Option : No Option Orientation : Vertical

Correct Marks : 1 Wrong Marks : 0.25

मैक्सिम सिंपल (अधिकतम या कहावत सरल) से समिश्र के लिए सही उदाहरण कौन सा है?

Options :

1. ✗ ठोस चीजें पहले पेश करना।

2. ✓ अगर हम पुराने ज्ञान के साथ नए ज्ञान को जोड़ते हैं।

3. ✗

सरल या आसान चीजें छात्रों को पहली बार प्रस्तुत की जानी चाहिए और धीरे-धीरे उसे जटिल या कठिन चीजों की ओर बढ़ना चाहिए।

4. ✗ शिक्षक को पूरे पाठ के साथ पहले बच्चे को परिचित करने की कोशिश करनी चाहिए।

Subject Related

Group Number :

9

Group Id :

16265319

Group Maximum Duration :

0

Group Minimum Duration :

0

Revisit allowed for view? :	No
Revisit allowed for edit? :	No
Break time:	0
Group Marks:	20
Revisit allowed for group Instructions? :	Yes
Maximum Instruction Time:	0
Minimum Instruction Time:	0

Subject Related





Section Id :	16265319
Section Number :	1
Section type :	Online
Mandatory or Optional:	Mandatory
Number of Questions:	20
Number of Questions to be attempted:	20
Section Marks:	20
Display Number Panel:	Yes
Group All Questions:	No

Sub-Section Number:	1
Sub-Section Id:	16265326
Question Shuffling Allowed :	Yes

Question Number : 161 Question Id : 162653367 Question Type : MCQ Option Shuffling : Yes Display Question Number : Yes
 Single Line Question Option : No Option Orientation : Vertical
 Correct Marks : 1 Wrong Marks : 0.25

What is meant by pedagogy of mathematics?


Options :

1.  Science of teaching mathematics
2.  Art of teaching mathematics
3.  Content of teaching mathematics
4.  Teaching mathematics to under-graduate students

Question Number : 161 Question Id : 162653367 Question Type : MCQ Option Shuffling : Yes Display Question Number : Yes
 Single Line Question Option : No Option Orientation : Vertical
 Correct Marks : 1 Wrong Marks : 0.25

गणित के अध्यापन-कला का क्या अर्थ है?

Options :

1.  गणित शिक्षण का विज्ञान

2. ✖ गणित शिक्षण की कला

3. ✖ शिक्षण गणित की सामग्री

4. ✖ पूर्वस्नातक छात्रों को गणित का शिक्षण

Question Number : 162 Question Id : 162653368 Question Type : MCQ Option Shuffling : Yes Display Question Number : Yes
Single Line Question Option : No Option Orientation : Vertical

Correct Marks : 1 Wrong Marks : 0.25

Which of the following is an example of inductive method?

Options :

1. ✔ Showing cutouts of angles, stating the rule of angle and then asking more examples of angles

2. ✖ Stating the rule of angle, giving examples of angles and again explaining the rule of angle

3. ✖ Asking the definition of angle and showing examples of angle

4. ✖ Showing examples of angles and asking definition of angle

Question Number : 162 Question Id : 162653368 Question Type : MCQ Option Shuffling : Yes Display Question Number : Yes
Single Line Question Option : No Option Orientation : Vertical

Correct Marks : 1 Wrong Marks : 0.25

निम्नलिखित में से आगमन विधि का उदाहरण क्या है?

Options :

1. ✔

कोणों के कटआउट दिखाना, कोण के नियम को बताना है और फिर कोण के अधिक उदाहरण पूछना

2. ✖ कोण के नियम को बताना, कोण के उदाहरण देना और फिर कोण के नियम को समझाना

3. ✖ कोण की परिभाषा पूछना और कोण के उदाहरण दिखाना

4. ✖ कोणों के उदाहरण दिखाना और कोण की परिभाषा पूछना

Question Number : 163 Question Id : 162653369 Question Type : MCQ Option Shuffling : Yes Display Question Number : Yes
Single Line Question Option : No Option Orientation : Vertical

Correct Marks : 1 Wrong Marks : 0.25

What are the objectives of teaching Environmental Science as per the National Curriculum Framework, 2005?

Options :

1. ✖ To develop awareness about environmental issues
2. ✖ To develop an understanding based on observation and illustration
3. ✖ To create cognitive capacity and resourcefulness to make the child curious about social phenomena
4. ✔ All of the options

Question Number : 163 Question Id : 162653369 Question Type : MCQ Option Shuffling : Yes Display Question Number : Yes
Single Line Question Option : No Option Orientation : Vertical

Correct Marks : 1 Wrong Marks : 0.25

राष्ट्रीय पाठ्यक्रम संरचना 2005 के अनुसार पर्यावरण विज्ञान पढ़ाने के उद्देश्य क्या हैं?

Options :

1. ✖ पर्यावरणात्मक मुद्दों के बारे में जागरूकता पैदा करना
2. ✖ अवलोकन और उदाहरण पर आधारित समझ विकसित करना
3. ✖ सामाजिक व्यवस्था के बारे में बच्चे को जिज्ञासु बनाने के लिए संज्ञानात्मक क्षमता और संसाधन-सम्पन्नता सृजित करना
4. ✔ परिवेश के साथ प्रयोग करना

Question Number : 164 Question Id : 162653370 Question Type : MCQ Option Shuffling : Yes Display Question Number : Yes
Single Line Question Option : No Option Orientation : Vertical

Correct Marks : 1 Wrong Marks : 0.25

According to NPE, the main reason for inclusion of Environmental Science as an integral component of education is:

Options :

1. ✖ to make students aware about their environment
2. ✔ to make students value protection and conservation of environment
3. ✖ to make students learn about environmental issues
4. ✖ to prepare students for future environmental hazards

Question Number : 164 Question Id : 162653370 Question Type : MCQ Option Shuffling : Yes Display Question Number : Yes
Single Line Question Option : No Option Orientation : Vertical

Correct Marks : 1 Wrong Marks : 0.25

एन.ई.पी. (NPE) के मुताबिक पर्यावरण विज्ञान को शिक्षा के अभिन्न अंग के रूप में शामिल करने का मुख्य कारण क्या है?

Options :

1. ✖ छात्रों को अपने पर्यावरण के बारे में जागरूक करना
2. ✔ छात्रों को पर्यावरण की सुरक्षा और संरक्षण का मूल्य बताना
3. ✖ छात्रों को पर्यावरणीय मुद्दों के बारे में जानकारी देना
4. ✖ भविष्य के पर्यावरणीय खतरों के लिए छात्रों को तैयार करना

Question Number : 165 Question Id : 162653371 Question Type : MCQ Option Shuffling : Yes Display Question Number : Yes
Single Line Question Option : No Option Orientation : Vertical

Correct Marks : 1 Wrong Marks : 0.25

_____ is a way of working with children and creating settings for care and education that embraces nature.

Options :

1. ✖ Environmental studies
2. ✖ Natural pedagogy
3. ✔ Nature pedagogy
4. ✖ Nature-based teaching

Question Number : 165 Question Id : 162653371 Question Type : MCQ Option Shuffling : Yes Display Question Number : Yes
Single Line Question Option : No Option Orientation : Vertical

Correct Marks : 1 Wrong Marks : 0.25

_____ बच्चों के साथ काम करने और प्रकृति के अनुकूल देखभाल और शिक्षा के लिए सेटिंग बनाने का एक तरीका है।

Options :

1. ✖ पर्यावरण अध्ययन
2. ✖ प्राकृतिक अध्यापन
3. ✔ प्रकृति अध्यापन
4. ✖ प्रकृति आधारित शिक्षण

Question Number : 166 Question Id : 162653372 Question Type : MCQ Option Shuffling : Yes Display Question Number : Yes
Single Line Question Option : No Option Orientation : Vertical

Correct Marks : 1 Wrong Marks : 0.25

The most appropriate strategies for teaching environmental studies are:

Options :

1. ☒ Small group projects, field trips, outdoor studies and exhibits
2. ☐ Simulation and games, debates, readings and laboratory work
3. ☐ Debates, lectures, laboratory work and art and craft
4. ☐ Field visits, art and craft, presentations and lectures

Question Number : 166 Question Id : 162653372 Question Type : MCQ Option Shuffling : Yes Display Question Number : Yes
Single Line Question Option : No Option Orientation : Vertical

Correct Marks : 1 Wrong Marks : 0.25

पर्यावरण अध्ययन शिक्षा के लिए सबसे उपयुक्त रणनीति क्या है?

Options :

1. ☒ लघु समूह परियोजनाएं, क्षेत्र दौरा (फील्ड ट्रिप), बाह्य अध्ययन (आउटडोर स्टडीज) और प्रदर्शनी
2. ☐ सिमुलेशन एंड गेम्स (अनुकरण और खेल), बहस, अध्ययन (रीडिंग) और प्रयोगशाला का काम
3. ☐ बहस, व्याख्यान, प्रयोगशाला कार्य और कला और शिल्प
4. ☐ क्षेत्र दौरा (फील्ड विज़िट), कला और शिल्प, प्रस्तुतिकरण और व्याख्यान

Question Number : 167 Question Id : 162653373 Question Type : MCQ Option Shuffling : Yes Display Question Number : Yes
Single Line Question Option : No Option Orientation : Vertical

Correct Marks : 1 Wrong Marks : 0.25

The learning experiences provided by Science teachers to teach nature studies to their students must include:

Options :

1. ☐ outdoor games, sports education and field trips
2. ☒ service learning, community engagement and place-based learning
3. ☐ field trips, technology-based teaching and service learning

4. ✖ game-based learning, sports and project-based activities

Question Number : 167 Question Id : 162653373 Question Type : MCQ Option Shuffling : Yes Display Question Number : Yes
Single Line Question Option : No Option Orientation : Vertical

Correct Marks : 1 Wrong Marks : 0.25

अपने छात्रों को प्रकृति अध्ययन पढ़ाने के लिए विज्ञान शिक्षकों द्वारा प्रदान किए जाने वाले शैक्षणिक अनुभवों में क्या शामिल होना चाहिए?

Options :

1. ✖ बाह्य (आउटडोर) खेल, खेल शिक्षा और क्षेत्र दौरा

2. ✔ सेवा सीखना, सामुदायिक सगाई और स्थान-आधारित शिक्षा

3. ✖ क्षेत्र दौरा (फील्ड ट्रिप), प्रौद्योगिकी-आधारित शिक्षण और सेवा सीखना

4. ✖ खेल आधारित शिक्षा, खेल और परियोजना-आधारित गतिविधियां

Question Number : 168 Question Id : 162653374 Question Type : MCQ Option Shuffling : Yes Display Question Number : Yes
Single Line Question Option : No Option Orientation : Vertical

Correct Marks : 1 Wrong Marks : 0.25

A branch of science that deals with the institutions and functioning of human society and with the interpersonal relationships of individuals as members of society is known as _____.

Options :

1. ✖ Sociology

2. ✔ Social science

3. ✖ Educational sociology

4. ✖ Social studies

Question Number : 168 Question Id : 162653374 Question Type : MCQ Option Shuffling : Yes Display Question Number : Yes
Single Line Question Option : No Option Orientation : Vertical

Correct Marks : 1 Wrong Marks : 0.25

विज्ञान की शाखा जो मानव समाज के संस्थानों और कार्यकलापों से संबंधित है और समाज के सदस्यों के रूप में व्यक्तियों के पारस्परिक संबंधों का अध्ययन करती है, उसे किस रूप में जाना जाता है?

Options :

1. ✖ नागरिक शास्त्र

2. ✔ सामाजिक विज्ञान

3. ✖ शैक्षिक समाजशास्त्र

4. ✖ सामाजिक अध्ययन

Question Number : 169 Question Id : 162653375 Question Type : MCQ Option Shuffling : Yes Display Question Number : Yes
Single Line Question Option : No Option Orientation : Vertical

Correct Marks : 1 Wrong Marks : 0.25

Which of the following statements is true?

Options :

1. ✖ Social science deals with the study of human relationships.
2. ✔ Social science is the source and storehouse of scientific social knowledge.
3. ✖ Social science deals with the study of people as subject matter.
4. ✖ Social science is the relationship of humans with their environment.

Question Number : 169 Question Id : 162653375 Question Type : MCQ Option Shuffling : Yes Display Question Number : Yes
Single Line Question Option : No Option Orientation : Vertical

Correct Marks : 1 Wrong Marks : 0.25

निम्नलिखित में से कौन से कथन सत्य हैं?

Options :

1. ✖ सामाजिक विज्ञान मानव संबंधों के अध्ययन से संबंधित है।
2. ✔ सामाजिक विज्ञान वैज्ञानिक सामाजिक ज्ञान के स्रोत और भंडार हैं।
3. ✖ सामाजिक विज्ञान विषय वस्तु के रूप में लोगों का अध्ययन करता है।
4. ✖ सामाजिक विज्ञान मनुष्यों के अपने पर्यावरण के साथ संबंध है।

Question Number : 170 Question Id : 162653376 Question Type : MCQ Option Shuffling : Yes Display Question Number : Yes
Single Line Question Option : No Option Orientation : Vertical

Correct Marks : 1 Wrong Marks : 0.25

Social Science teaching-learning is NOT vital for which of the following reasons?

Options :

1. ✖ to be an active, responsible and reflective members of society
2. ✖ to learn how society is structured, managed and governed

3. ✖ to understand social reforms and problems
4. ✔ to conduct research on environment, resources and development

Question Number : 170 Question Id : 162653376 Question Type : MCQ Option Shuffling : Yes Display Question Number : Yes
Single Line Question Option : No Option Orientation : Vertical

Correct Marks : 1 Wrong Marks : 0.25

सामाजिक विज्ञान शिक्षण-अध्ययन निम्नलिखित कारणों में से किसके लिए महत्वपूर्ण नहीं है?

Options :

1. ✖ समाज के एक सक्रिय, जिम्मेदार और चिंतनशील सदस्य बनना
2. ✖ समाज कैसे संरचित, प्रबंधित और शासित है, यह जानना
3. ✖ सामाजिक सुधारों और समस्याओं को समझना
4. ✔ पर्यावरण, संसाधनों और विकास पर शोध करना

Question Number : 171 Question Id : 162653377 Question Type : MCQ Option Shuffling : Yes Display Question Number : Yes
Single Line Question Option : No Option Orientation : Vertical

Correct Marks : 1 Wrong Marks : 0.25

How do performing arts help students?

Options :

1. ✖ It increases marks of students.
2. ✔ It develops self-expression and creativity and discovers skills among students.
3. ✖ It teaches how to perform on stage.
4. ✖ It gives career options to students.

Question Number : 171 Question Id : 162653377 Question Type : MCQ Option Shuffling : Yes Display Question Number : Yes
Single Line Question Option : No Option Orientation : Vertical

Correct Marks : 1 Wrong Marks : 0.25

निष्पादन कला कैसे छात्रों की मदद करती है?

Options :

1. ✖ यह छात्रों का अंक बढ़ाती है।
2. ✔ यह स्वयं अभिव्यक्ति, रचनात्मकता और छात्रों के बीच कौशल की खोज विकसित करती है।

3. ✖ यह सिखाती है कि मंच पर प्रदर्शन कैसे करें।

4. ✖ यह छात्रों को करियर विकल्प देता है।

Question Number : 172 Question Id : 162653378 Question Type : MCQ Option Shuffling : Yes Display Question Number : Yes
Single Line Question Option : No Option Orientation : Vertical

Correct Marks : 1 Wrong Marks : 0.25

How can we develop psychomotor skills among students?

Options :

1. ✖ Solving maths puzzles

2. ✔ Art and craft activities

3. ✖ Writing an essay

4. ✖ Solving crossword

Question Number : 172 Question Id : 162653378 Question Type : MCQ Option Shuffling : Yes Display Question Number : Yes
Single Line Question Option : No Option Orientation : Vertical

Correct Marks : 1 Wrong Marks : 0.25

हम छात्रों के बीच मनोप्रेरणा (साइकोमोटर) कौशल कैसे विकसित कर सकते हैं?

Options :

1. ✖ गणित पहेली हल करने

2. ✔ कला और कारीगर गतिविधि द्वारा

3. ✖ निबंध लेखन द्वारा

4. ✖ क्रॉसवर्ड हल करने द्वारा

Question Number : 173 Question Id : 162653379 Question Type : MCQ Option Shuffling : Yes Display Question Number : Yes
Single Line Question Option : No Option Orientation : Vertical

Correct Marks : 1 Wrong Marks : 0.25

Which principle is the base for performing drama in a school?

Options :

1. ✔ Learning by doing

2. ✖ Principle of expression

3. ✖ Learning with expression

4. ✖ Life skill education

Question Number : 173 Question Id : 162653379 Question Type : MCQ Option Shuffling : Yes Display Question Number : Yes
Single Line Question Option : No Option Orientation : Vertical
Correct Marks : 1 Wrong Marks : 0.25

स्कूल में नाटक करना किस सिद्धांत पर आधारित है?

Options :

1. ✔ कार्य करके सीखना

2. ✖ अभिव्यक्ति का सिद्धांत

3. ✖ अभिव्यक्ति के साथ सीखना

4. ✖ जीवन कौशल शिक्षा

Question Number : 174 Question Id : 162653380 Question Type : MCQ Option Shuffling : Yes Display Question Number : Yes
Single Line Question Option : No Option Orientation : Vertical
Correct Marks : 1 Wrong Marks : 0.25

Which of the following are self-defence activities?

Options :

1. ✔ Hiking, trekking, judo and karate

2. ✖ hunting, folk dance and fishing

3. ✖ Asana Pranayama Kriyas

4. ✖ Lezium dance, mass physical training and dumb bell

Question Number : 174 Question Id : 162653380 Question Type : MCQ Option Shuffling : Yes Display Question Number : Yes
Single Line Question Option : No Option Orientation : Vertical
Correct Marks : 1 Wrong Marks : 0.25

निम्नलिखित में से कौन सा आत्मरक्षा गतिविधियां हैं?

Options :

1. ✔ हाइकिंग, ट्रेकिंग, जुडो और कराटे

2. ✖ शिकार, लोक नृत्य और मछली पकड़ना

3. ✖ आसन प्राणायाम क्रियाएं

4. ✖ लेज़ियम नृत्य, जन शारीरिक प्रशिक्षण और गूंगा घंटी

Question Number : 175 Question Id : 162653381 Question Type : MCQ Option Shuffling : Yes Display Question Number : Yes
Single Line Question Option : No Option Orientation : Vertical

Correct Marks : 1 Wrong Marks : 0.25

Which abilities should be implied through Physical Fitness?

Options :

1. ✖ Recreational abilities

2. ✖ Self-defence abilities

3. ✖ Abilities in cognitive domain

4. ✔

Resisting fatigue, performing with an acceptable degree of motor ability and being able to adapt to muscular stress

Question Number : 175 Question Id : 162653381 Question Type : MCQ Option Shuffling : Yes Display Question Number : Yes
Single Line Question Option : No Option Orientation : Vertical

Correct Marks : 1 Wrong Marks : 0.25

शारीरिक स्वास्थ्य के माध्यम से कौन सी क्षमताओं को निहित किया जाना चाहिए?

Options :

1. ✖ मनोरंजक क्षमता

2. ✖ आत्म रक्षा क्षमता

3. ✖ संज्ञानात्मक डोमेन में क्षमता

4. ✔

थकान का प्रतिरोध, मोटर क्षमता की स्वीकार्य डिग्री और मांसपेशियों के तनाव को अनुकूलित करने में सक्षम होना

Question Number : 176 Question Id : 162653382 Question Type : MCQ Option Shuffling : Yes Display Question Number : Yes
Single Line Question Option : No Option Orientation : Vertical

Correct Marks : 1 Wrong Marks : 0.25

Which of the following statements is true with regard to the effects of performing physical activity?

Options :

1. ✖ Students grow much faster than other students.

2. ✖ Students get the habit of winning.

3. ✖ Students know the use of ground activities.
4. ✔ The students come closer with each other and adjust themselves according to situations.

Question Number : 176 Question Id : 162653382 Question Type : MCQ Option Shuffling : Yes Display Question Number : Yes
Single Line Question Option : No Option Orientation : Vertical

Correct Marks : 1 Wrong Marks : 0.25

निम्नलिखित में से कौन सा वाक्य शारीरिक गतिविधि करने के परिणामों के संदर्भ में सबसे उपयुक्त है?

Options :

1. ✖ छात्र अन्य छात्रों की तुलना में बहुत तेजी से बढ़ते हैं।
2. ✖ छात्रों को जीतने की आदत पड़ती है।
3. ✖ छात्रों को जमीन गतिविधियों का उपयोग पता होता है।
4. ✔ छात्र प्रत्येक छात्र एक दूसरे के करीब आते हैं और परिस्थितियों के अनुसार खुद को समायोजित करते हैं।

Question Number : 177 Question Id : 162653383 Question Type : MCQ Option Shuffling : Yes Display Question Number : Yes
Single Line Question Option : No Option Orientation : Vertical

Correct Marks : 1 Wrong Marks : 0.25

When does intense and crucial socialisation take place in human beings?

Options :

1. ✖ During adulthood
2. ✔ During adolescence
3. ✖ During early childhood
4. ✖ Throughout the life of an individual

Question Number : 177 Question Id : 162653383 Question Type : MCQ Option Shuffling : Yes Display Question Number : Yes
Single Line Question Option : No Option Orientation : Vertical

Correct Marks : 1 Wrong Marks : 0.25

मनुष्यों में तीव्र और महत्वपूर्ण सामाजिककरण कब होता है?

Options :

1. ✖ वयस्कता के दौरान

- 2. ✓ किशोरावस्था के दौरान
- 3. ✗ बचपन के दौरान
- 4. ✗ किसी व्यक्ति के पूरे जीवन में

Question Number : 178 Question Id : 162653384 Question Type : MCQ Option Shuffling : Yes Display Question Number : Yes
Single Line Question Option : No Option Orientation : Vertical

Correct Marks : 1 Wrong Marks : 0.25

Educational Psychology mainly deals with understanding the common behaviour of:

Options :

- 1. ✗ workers
- 2. ✗ adults
- 3. ✗ teachers
- 4. ✓ students

Question Number : 178 Question Id : 162653384 Question Type : MCQ Option Shuffling : Yes Display Question Number : Yes
Single Line Question Option : No Option Orientation : Vertical

Correct Marks : 1 Wrong Marks : 0.25

शैक्षणिक मनोविज्ञान मुख्य रूप से किसके सामान्य व्यवहार को समझने से संबंधित है?

Options :

- 1. ✗ कामगार
- 2. ✗ व्यस्क
- 3. ✗ शिक्षक
- 4. ✓ छात्र

Question Number : 179 Question Id : 162653385 Question Type : MCQ Option Shuffling : Yes Display Question Number : Yes
Single Line Question Option : No Option Orientation : Vertical

Correct Marks : 1 Wrong Marks : 0.25

The importance of the Mid-Day Meal Programme was:

Options :

- 1. ✓ to tackle malnutrition and also provide the basis for nutrition education
- 2. ✗ to increase student enrolment

3. ✖ to reduce student dropouts

4. ✖ a philanthropic act

Question Number : 179 Question Id : 162653385 Question Type : MCQ Option Shuffling : Yes Display Question Number : Yes
Single Line Question Option : No Option Orientation : Vertical

Correct Marks : 1 Wrong Marks : 0.25

मिड-डे मील प्रोग्राम का महत्व क्या था?

Options :

1. ✔ कुपोषण से निपटना और पोषण शिक्षा के लिए आधार भी प्रदान करना

2. ✖ छात्रों की संख्याबढ़ाना

3. ✖ छात्र ड्रॉप आउट को कम करना

4. ✖ यह एक परोपकारी अधिनियम था

Question Number : 180 Question Id : 162653386 Question Type : MCQ Option Shuffling : Yes Display Question Number : Yes
Single Line Question Option : No Option Orientation : Vertical

Correct Marks : 1 Wrong Marks : 0.25

The curriculum of health and physical education should include concepts of health, disease and environmental determinants of health as:

Options :

1. ✖ Textual learning

2. ✔ Experiential learning from primary classes

3. ✖ Physical activities

4. ✖ Only at secondary level

Question Number : 180 Question Id : 162653386 Question Type : MCQ Option Shuffling : Yes Display Question Number : Yes
Single Line Question Option : No Option Orientation : Vertical

Correct Marks : 1 Wrong Marks : 0.25

स्वास्थ्य और शारीरिक शिक्षा के पाठ्यक्रम में स्वास्थ्य, बीमारी और स्वास्थ्य के पर्यावरणीय निर्धारकों की अवधारणाओं को किस रूप में शामिल करना चाहिए?

Options :

1. ✖ टेक्स्ट की शिक्षा

2. ✓ प्राथमिक वर्गों से अनुभवी शिक्षा

3. ✗ शारीरिक गतिविधियां

4. ✗ केवल द्वितीयक स्तर पर

Subject Related

Group Number :	10
Group Id :	16265320
Group Maximum Duration :	0
Group Minimum Duration :	120
Revisit allowed for view? :	No
Revisit allowed for edit? :	No
Break time:	0
Group Marks:	20
Revisit allowed for group Instructions? :	Yes
Maximum Instruction Time:	0
Minimum Instruction Time:	0

Subject Related

Section Id :	16265320
Section Number :	1
Section type :	Online
Mandatory or Optional:	Mandatory
Number of Questions:	20
Number of Questions to be attempted:	20
Section Marks:	20
Display Number Panel:	Yes
Group All Questions:	No

Sub-Section Number:	1
Sub-Section Id:	16265327
Question Shuffling Allowed :	Yes

Question Number : 181 Question Id : 162653387 Question Type : MCQ Option Shuffling : Yes Display Question Number : Yes
Single Line Question Option : No Option Orientation : Vertical

Correct Marks : 1 Wrong Marks : 0.25

As a teacher, how will you define 'Gender'?

Options :

1. ✓ Physiological aspect

2. ✗ Biological entity

3. ✖ Innate quality

4. ✖ Social constrain

Question Number : 181 Question Id : 162653387 Question Type : MCQ Option Shuffling : Yes Display Question Number : Yes
Single Line Question Option : No Option Orientation : Vertical

Correct Marks : 1 Wrong Marks : 0.25

एक शिक्षक के रूप में आप 'लिंग' को कैसे परिभाषित करेंगे?

Options :

1. ✔ शारीरिक पहलू

2. ✖ जैविक इकाई

3. ✖ जन्मजात गुणवत्ता

4. ✖ सामाजिक बाधा

Question Number : 182 Question Id : 162653388 Question Type : MCQ Option Shuffling : Yes Display Question Number : Yes
Single Line Question Option : No Option Orientation : Vertical

Correct Marks : 1 Wrong Marks : 0.25

A child begins to cry when the mother drops her off at school. This behaviour is related to:

Options :

1. ✖ Stranger anxiety

2. ✔ Separation anxiety

3. ✖ Emotional anxiety

4. ✖ Social anxiety

Question Number : 182 Question Id : 162653388 Question Type : MCQ Option Shuffling : Yes Display Question Number : Yes
Single Line Question Option : No Option Orientation : Vertical

Correct Marks : 1 Wrong Marks : 0.25

मां जब बच्चे को स्कूल में छोड़ती है तो बच्चा रोने लगता है। यह व्यवहार निम्न में से किससे संबंधित है?

Options :

1. ✖ अजनबी चिंता

2. ✔ पृथक्करण चिंता

3. ✖ भावनात्मक चिंता

4. ✖ सामाजिक चिंता

Question Number : 183 Question Id : 162653389 Question Type : MCQ Option Shuffling : Yes Display Question Number : Yes
Single Line Question Option : No Option Orientation : Vertical

Correct Marks : 1 Wrong Marks : 0.25

Why do we need gardening activities in school?

Options :

1. ✖ To improve a school's garden area.

2. ✖ To make students aware of gardening.

3. ✔ To improve environmental attitude.

4. ✖ To engage students in their free periods.

Question Number : 183 Question Id : 162653389 Question Type : MCQ Option Shuffling : Yes Display Question Number : Yes
Single Line Question Option : No Option Orientation : Vertical

Correct Marks : 1 Wrong Marks : 0.25

हमें स्कूल में बागवानी गतिविधियों की आवश्यकता क्यों है?

Options :

1. ✖ स्कूल उद्यान क्षेत्र में सुधार करने के लिए

2. ✖ बागवानी के बारे में छात्रों को जागरूक करने के लिए

3. ✔ पर्यावरण रवैया में सुधार लाने के लिए

4. ✖ छात्रों को उनकी खाली समय अवधि में व्यस्त रखने के लिए

Question Number : 184 Question Id : 162653390 Question Type : MCQ Option Shuffling : Yes Display Question Number : Yes
Single Line Question Option : No Option Orientation : Vertical

Correct Marks : 1 Wrong Marks : 0.25

What is included in school physical health?

Options :

1. ✔

Infrastructure, furniture, presence of chemicals and biological agents; the site on which a school is located and the surrounding environment including the air, water.

2. ✖ Infrastructure, medical services, health related services.
3. ✖ Physical health of students and teachers.
4. ✖ School building and surrounding.

Question Number : 184 Question Id : 162653390 Question Type : MCQ Option Shuffling : Yes Display Question Number : Yes
Single Line Question Option : No Option Orientation : Vertical
Correct Marks : 1 Wrong Marks : 0.25

स्कूल शारीरिक स्वास्थ्य में क्या शामिल है?

Options :

1. ✔ बुनियादी ढांचे, फर्नीचर, रसायनों और जैविक एजेंटों की उपस्थिति; जिस साइट पर एक स्कूल स्थित है; और आसपास के वातावरण हवा, पानी सहित
2. ✖ बुनियादी ढांचा, चिकित्सा सेवाएं, स्वास्थ्य संबंधी सेवाएं
3. ✖ छात्रों और शिक्षकों का शारीरिक स्वास्थ्य
4. ✖ स्कूल इमारत और आसपास का वातावरण

Question Number : 185 Question Id : 162653391 Question Type : MCQ Option Shuffling : Yes Display Question Number : Yes
Single Line Question Option : No Option Orientation : Vertical
Correct Marks : 1 Wrong Marks : 0.25

What are the risk factors in a school?

Options :

1. ✖ School premises
2. ✖ Attitude of teachers
3. ✖ Health of students
4. ✔ Unsafe water, poor sanitation and poor hygiene

Question Number : 185 Question Id : 162653391 Question Type : MCQ Option Shuffling : Yes Display Question Number : Yes
Single Line Question Option : No Option Orientation : Vertical
Correct Marks : 1 Wrong Marks : 0.25

स्कूल में जोखिम कारक क्या हैं?

Options :

1. ✖ स्कूल परिसर
2. ✖ शिक्षकों का रवैया
3. ✖ छात्रों का स्वास्थ्य
4. ✔ असुरक्षित पानी, अस्वच्छता और खराब हाइजीन

Question Number : 186 Question Id : 162653392 Question Type : MCQ Option Shuffling : Yes Display Question Number : Yes
Single Line Question Option : No Option Orientation : Vertical

Correct Marks : 1 Wrong Marks : 0.25

What are the causes of allergic asthma?

Options :

1. ✖ Pollution
2. ✖ Paint fumes
3. ✖ Coal smoke
4. ✔ Cat hair, saliva, and urine

Question Number : 186 Question Id : 162653392 Question Type : MCQ Option Shuffling : Yes Display Question Number : Yes
Single Line Question Option : No Option Orientation : Vertical

Correct Marks : 1 Wrong Marks : 0.25

एलर्जी संबंधी अस्थमा के क्या कारण हैं?

Options :

1. ✖ प्रदूषण
2. ✖ पेंट का धुआं
3. ✖ कोयला का धुआं
4. ✔ बिल्ली के बाल, लार, और मूत्र

Question Number : 187 Question Id : 162653393 Question Type : MCQ Option Shuffling : Yes Display Question Number : Yes
Single Line Question Option : No Option Orientation : Vertical

Correct Marks : 1 Wrong Marks : 0.25

How can you protect students from food poisoning?

Options :

1. ✖ By asking them about their food allergies.
2. ✖ By providing them with healthy food.
3. ✔ By tasting the food before serving them.
4. ✖ By not providing them food in school premises.

Question Number : 187 Question Id : 162653393 Question Type : MCQ Option Shuffling : Yes Display Question Number : Yes
Single Line Question Option : No Option Orientation : Vertical

Correct Marks : 1 Wrong Marks : 0.25

आप छात्रों को खाद्य विषबाधा से कैसे बचा सकते हैं?

Options :

1. ✖ उनसे उनके खाद्य एलर्जी के बारे में पूछकर।
2. ✖ उन्हें स्वस्थ भोजन प्रदान करके।
3. ✔ उन्हें देने से पहले भोजन की जांच (taste) करके।
4. ✖ स्कूल परिसर में उन्हें भोजन उपलब्ध नहीं कराकर।

Question Number : 188 Question Id : 162653394 Question Type : MCQ Option Shuffling : Yes Display Question Number : Yes
Single Line Question Option : No Option Orientation : Vertical

Correct Marks : 1 Wrong Marks : 0.25

Given below are two statements. Select the most appropriate option about how the sentences are related to each other.

We improve a school's physical environment.

The health of students and staff will improve.

Options :

1. ✔ First statement is the cause of the second statement.
2. ✖ First statement is an effect of the second statement.
3. ✖ Second statement is a not a cause of the first statement.
4. ✖ There isn't any relationship between these two statements.

Question Number : 188 Question Id : 162653394 Question Type : MCQ Option Shuffling : Yes Display Question Number : Yes
Single Line Question Option : No Option Orientation : Vertical

Correct Marks : 1 Wrong Marks : 0.25

नीचे दो कथन दिए गए हैं। उस विकल्प का चयन करें जो कथनों के बीच के संबंध को सही तरह दर्शाता है।

हम स्कूल के शारीरिक वातावरण में सुधार करेंगे।
छात्रों और कर्मचारियों के स्वास्थ्य में सुधार होगा।

Options :

1. ☒ पहला कथन दूसरे कथन का कारण है।
2. ☐ पहला कथन दूसरे कथन का प्रभाव है।
3. ☐ दूसरा कथन पहले कथन का कारण नहीं है।
4. ☐ इन दो कथनों में कोई संबंध नहीं है।

Question Number : 189 Question Id : 162653395 Question Type : MCQ Option Shuffling : Yes Display Question Number : Yes
Single Line Question Option : No Option Orientation : Vertical

Correct Marks : 1 Wrong Marks : 0.25

Which of the following is NOT a Community Outreach Activity?

Options :

1. ☐ Volunteer work in hospitals and fairs
2. ☐ Adult literacy programme
3. ☒ Educational excursion
4. ☐ Health programmes

Question Number : 189 Question Id : 162653395 Question Type : MCQ Option Shuffling : Yes Display Question Number : Yes
Single Line Question Option : No Option Orientation : Vertical

Correct Marks : 1 Wrong Marks : 0.25

इनमें से कौन सा समुदाय आउटरीच गतिविधि नहीं है?

Options :

1. ☐ अस्पतालों और मेलों में स्वयंसेवी कार्य
2. ☐ वयस्क साक्षरता कार्यक्रम
3. ☒ शैक्षणिक भ्रमण

4. ✖ स्वास्थ्य कार्यक्रम

Question Number : 190 Question Id : 162653396 Question Type : MCQ Option Shuffling : Yes Display Question Number : Yes
Single Line Question Option : No Option Orientation : Vertical
Correct Marks : 1 Wrong Marks : 0.25

Work education programme provides students opportunities to develop skills for:

Options :

1. ✔ Productive efficiency
2. ✖ Relationship building
3. ✖ Application of knowledge
4. ✖ Problem solving

Question Number : 190 Question Id : 162653396 Question Type : MCQ Option Shuffling : Yes Display Question Number : Yes
Single Line Question Option : No Option Orientation : Vertical
Correct Marks : 1 Wrong Marks : 0.25

कार्य शिक्षा कार्यक्रम छात्रों को किसके लिए कौशल विकसित करने के अवसर प्रदान करता है?

Options :

1. ✔ उत्पादक क्षमता
2. ✖ संबंध निर्माण
3. ✖ ज्ञान का उपयोग
4. ✖ समस्या को सुलझाना

Question Number : 191 Question Id : 162653397 Question Type : MCQ Option Shuffling : Yes Display Question Number : Yes
Single Line Question Option : No Option Orientation : Vertical
Correct Marks : 1 Wrong Marks : 0.25

Pre-vocational Skill Development Activities are designed:

Options :

1. ✖ to prepare students for active engagement.
2. ✔ to prepare the students for the world of work.
3. ✖ to prepare students for community service.

4. ✖ to prepare students for labour market.

Question Number : 191 Question Id : 162653397 Question Type : MCQ Option Shuffling : Yes Display Question Number : Yes
Single Line Question Option : No Option Orientation : Vertical
Correct Marks : 1 Wrong Marks : 0.25

पूर्व-व्यावसायिक कौशल विकास गतिविधियां किस लिए डिज़ाइन की जाती हैं?

Options :

1. ✖ सक्रिय कार्यक्रम के लिए छात्रों को तैयार करने के लिए
2. ✔ कार्य जगत के लिए छात्रों को तैयार करने के लिए
3. ✖ छात्रों को सामुदायिक सेवा के लिए तैयार करने के लिए
4. ✖ श्रम बाजार के लिए छात्रों को तैयार करने के लिए

Question Number : 192 Question Id : 162653398 Question Type : MCQ Option Shuffling : Yes Display Question Number : Yes
Single Line Question Option : No Option Orientation : Vertical
Correct Marks : 1 Wrong Marks : 0.25

Which of the following are the necessary competencies a teacher should have?

Options :

1. ✔ Instructional delivery, Classroom management, Soft skills, Assessment.
2. ✖ Communication skills, knowledge of teaching - learning process.
3. ✖ Dealing with students, problem solving skills, teaching skills.
4. ✖ Soft skills, lesson planning, classroom management.

Question Number : 192 Question Id : 162653398 Question Type : MCQ Option Shuffling : Yes Display Question Number : Yes
Single Line Question Option : No Option Orientation : Vertical
Correct Marks : 1 Wrong Marks : 0.25

निम्नलिखित में से कौन सी दक्षताएं शिक्षक में होनी आवश्यक हैं?

Options :

1. ✔ निर्देशात्मक वितरण, कक्षा प्रबंधन, सॉफ्ट कौशल, आकलन।
2. ✖ संचार कौशल, शिक्षण और सिखने की प्रक्रिया का ज्ञान।
3. ✖ छात्रों के साथ काम करना, समस्या निवारण कौशल, शिक्षण कौशल।

4. ✖ सॉफ्ट कौशल, पाठ योजना, कक्षा प्रबंधन।

Question Number : 193 Question Id : 162653399 Question Type : MCQ Option Shuffling : Yes Display Question Number : Yes
Single Line Question Option : No Option Orientation : Vertical
Correct Marks : 1 Wrong Marks : 0.25

In-service training for teachers is designed for:

Options :

1. ✖ manpower development of the school system and educational enterprise.
2. ✖ the growing needs of education.
3. ✔ upgrading professional skills, knowledge and interest.
4. ✖ job satisfaction and career prospects.

Question Number : 193 Question Id : 162653399 Question Type : MCQ Option Shuffling : Yes Display Question Number : Yes
Single Line Question Option : No Option Orientation : Vertical
Correct Marks : 1 Wrong Marks : 0.25

शिक्षकों के लिए सेवाकालीन प्रशिक्षण किस लिए डिज़ाइन किया जाता है?

Options :

1. ✖ स्कूल सिस्टम और शैक्षिक उद्यम का जनशक्ति विकास के लिए।
2. ✖ शिक्षा की बढ़ती ज़रूरतों के लिए।
3. ✔ पेशेवर कौशल, ज्ञान और रुचि का उन्नयन के लिए।
4. ✖ नौकरी की संतुष्टि और करियर की संभावना में वृद्धि के लिए।

Question Number : 194 Question Id : 162653400 Question Type : MCQ Option Shuffling : Yes Display Question Number : Yes
Single Line Question Option : No Option Orientation : Vertical
Correct Marks : 1 Wrong Marks : 0.25

The functions of Parent Teacher Association are all of the following, except:

Options :

1. ✖ to encourage different aspects of parental involvement
2. ✔ to suggest modifications in the syllabus
3. ✖ to facilitate consultation on school policies

4. ✖ to hold discussions on topics relevant to the school discipline

Question Number : 194 Question Id : 162653400 Question Type : MCQ Option Shuffling : Yes Display Question Number : Yes
Single Line Question Option : No Option Orientation : Vertical

Correct Marks : 1 Wrong Marks : 0.25

अभिभावक शिक्षक संघ के कार्य निम्नलिखित में से सभी हैं, सिवाय:

Options :

1. ✖ माता-पिता की भागीदारी के विभिन्न पहलुओं को प्रोत्साहित करने के।

2. ✔ पाठ्यक्रम में संशोधन का सुझाव देने के।

3. ✖ स्कूल नीतियों पर परामर्श देने के।

4. ✖ स्कूल अनुशासन से संबंधित विषयों पर चर्चा आयोजित करने के।

Question Number : 195 Question Id : 162653401 Question Type : MCQ Option Shuffling : Yes Display Question Number : Yes
Single Line Question Option : No Option Orientation : Vertical

Correct Marks : 1 Wrong Marks : 0.25

Culturally sensitive community involvement in school is important for all of the following reasons, EXCEPT that:

Options :

1. ✖ it acknowledges and embraces a student's racial or ethnic background

2. ✖ it recognises and respects diversity in school culture

3. ✔ it improves parent teacher relationships

4. ✖ it improves abilities of culturally responsive teaching.

Question Number : 195 Question Id : 162653401 Question Type : MCQ Option Shuffling : Yes Display Question Number : Yes
Single Line Question Option : No Option Orientation : Vertical

Correct Marks : 1 Wrong Marks : 0.25

विद्यालय में सांस्कृतिक रूप से संवेदनशील समुदाय की भागीदारी निम्नलिखित में से सभी कारणों से महत्वपूर्ण है, केवल एक को छोड़कर। उस कारण की पहचान करें।

Options :

1. ✖

यह एक छात्र की नस्लीय या जातीय पृष्ठभूमि को स्वीकार करता है और उन्हें शामिल करता है।

2. ✖ यह स्कूल की विविधता वाली संस्कृति पहचानता है और उसका सम्मान करता है।

3. ✓ यह माता-पिता और शिक्षक संबंधों में सुधार करता है।

4. ✗ यह सांस्कृतिक रूप से उत्तरदायी शिक्षण की क्षमताओं में सुधार करता है।

Question Number : 196 Question Id : 162653402 Question Type : MCQ Option Shuffling : Yes Display Question Number : Yes
Single Line Question Option : No Option Orientation : Vertical

Correct Marks : 1 Wrong Marks : 0.25

Primary teachers are expected to contribute in organizational management mainly by:

Options :

1. ✗ developing teaching aids

2. ✓ managing the school's human, physical and financial resources

3. ✗ communicating with parents

4. ✗ maintaining records

Question Number : 196 Question Id : 162653402 Question Type : MCQ Option Shuffling : Yes Display Question Number : Yes
Single Line Question Option : No Option Orientation : Vertical

Correct Marks : 1 Wrong Marks : 0.25

प्राथमिक शिक्षकों से मुख्य रूप से किस तरह संगठनात्मक प्रबंधन में योगदान करने की उम्मीद की जाती है?

Options :

1. ✗ शिक्षण सहायता विकसित करके

2. ✓ स्कूल के मानवीय, भौतिक और वित्तीय संसाधनों का प्रबंधन करके।

3. ✗ माता-पिता के साथ संवाद करके।

4. ✗ रिकॉर्ड बनाए रखके।

Question Number : 197 Question Id : 162653403 Question Type : MCQ Option Shuffling : Yes Display Question Number : Yes
Single Line Question Option : No Option Orientation : Vertical

Correct Marks : 1 Wrong Marks : 0.25

All of the following are the responsibilities of a teacher in school administration, EXCEPT:

Options :

1. ✗ Participating in staff, group or other meetings

2. ✗ Participating in school assemblies

3. ✖ Communicating, consulting and co-operating with other members
4. ✔ Ensuring financial benefits for self-development

Question Number : 197 Question Id : 162653403 Question Type : MCQ Option Shuffling : Yes Display Question Number : Yes
Single Line Question Option : No Option Orientation : Vertical

Correct Marks : 1 Wrong Marks : 0.25

निम्नलिखित में से सभी स्कूल प्रशासन में एक शिक्षक की जिम्मेदारियां हैं, सिवाए:

Options :

1. ✖ कर्मचारियों, समूह या अन्य बैठकों में भाग लेने के।
2. ✖ स्कूल असेंबली में भाग लेने के।
3. ✖ अन्य सदस्यों के साथ संचार, परामर्श और सह-संचालन करने के।
4. ✔ आत्म विकास के लिए वित्तीय लाभ सुनिश्चित करने के।

Question Number : 198 Question Id : 162653404 Question Type : MCQ Option Shuffling : Yes Display Question Number : Yes
Single Line Question Option : No Option Orientation : Vertical

Correct Marks : 1 Wrong Marks : 0.25

Which of the following is an important characteristic commonly found in effective school administrators at the primary level?

Options :

1. ✔ Leadership and management
2. ✖ Mastery over subject knowledge
3. ✖ Effective communication
4. ✖ Interpersonal relationship

Question Number : 198 Question Id : 162653404 Question Type : MCQ Option Shuffling : Yes Display Question Number : Yes
Single Line Question Option : No Option Orientation : Vertical

Correct Marks : 1 Wrong Marks : 0.25

प्राथमिक स्तर पर प्रभावी स्कूल प्रशासकों में आमतौर पर निम्नलिखित में से कौन सी महत्वपूर्ण विशेषता पाई जाती है?

Options :

1. ✔ नेतृत्व एवं प्रबंधन

2. ✖ विषय ज्ञान पर निपुणता

3. ✖ प्रभावी संचार

4. ✖ पारस्परिक संबंध

Question Number : 199 Question Id : 162653405 Question Type : MCQ Option Shuffling : Yes Display Question Number : Yes
Single Line Question Option : No Option Orientation : Vertical

Correct Marks : 1 Wrong Marks : 0.25

Parents must be encouraged to participate in all of the following decision-making school activities, EXCEPT:

Options :

1. ✖ School uniforms

2. ✖ Socially useful activities

3. ✔ Examination reforms

4. ✖ Cultural events

Question Number : 199 Question Id : 162653405 Question Type : MCQ Option Shuffling : Yes Display Question Number : Yes
Single Line Question Option : No Option Orientation : Vertical

Correct Marks : 1 Wrong Marks : 0.25

निम्न में से सभी निर्णय लेने वाली स्कूल गतिविधियों में भाग लेने के लिए माता-पिता को प्रोत्साहित किया जाना चाहिए, सिवाय:

Options :

1. ✖ स्कूल यूनीफॉर्म के

2. ✖ सामाजिक रूप से उपयोगी गतिविधियों के

3. ✔ परीक्षा सुधार के

4. ✖ सांस्कृतिक आयोजन के

Question Number : 200 Question Id : 162653406 Question Type : MCQ Option Shuffling : Yes Display Question Number : Yes
Single Line Question Option : No Option Orientation : Vertical

Correct Marks : 1 Wrong Marks : 0.25

School education professionals can help parents with their changing roles in all of the following ways, EXCEPT:

Options :

1. ✖ providing academic support

- 2. ✖ providing counselling
- 3. ✔ providing food and medicines
- 4. ✖ providing expertise

Question Number : 200 Question Id : 162653406 Question Type : MCQ Option Shuffling : Yes Display Question Number : Yes
Single Line Question Option : No Option Orientation : Vertical

Correct Marks : 1 Wrong Marks : 0.25

स्कूल शिक्षा के पेशेवर लोग माता-पिता को निम्न सभी तरीकों से उनकी बदलती भूमिकाओं के बारे में मदद कर सकते हैं, सिवाए:

Options :

- 1. ✖ शैक्षणिक समर्थन प्रदान करने के
- 2. ✖ परामर्श प्रदान करने के
- 3. ✔ भोजन और दवाएं प्रदान करने के
- 4. ✖ विशेषज्ञता प्रदान करने के